

一、單選題(每題二分，共六十分)

- 關於〈跳水〉一詩，下列分析何者正確？ (A)「從十米高臺／陶醉於下面的湛藍」形容跳水者唯我獨尊的氣勢 (B)「在跳板與水面之間／描畫出從容的曲線」寫跳水時充滿力與美的優美姿態 (C)「讓青春去激起／一片雪白的讚嘆」展現出跳水者對他人完美表現的憧憬與羨慕 (D)全詩強調打好基礎是成功的關鍵。
- 〈風箏〉一詩所表現的人生態度為何？ (A)不強求名聲或財富，過著與世無爭的生活 (B)不被年齡所限，自由自在優游於人間 (C)不受挫折影響，處於逆境仍安然自在 (D)不畏現實艱難，積極朝理想前進。
- 〈庭中有奇樹〉：「馨香盈懷袖，路遠莫致之。」關於這段詩句的含義，下列說明何者正確？ (A)相聚的時光短暫，只能在離別前折花相贈，期盼下次的重逢 (B)奇樹之花香氣滿溢，卻因相隔遙遠無法送達，徒留滿懷無奈 (C)奇樹之花高不可攀，難以親近，只能在遠處欣賞 (D)滿懷的思念如同奇花的馨香，能跨越距離鴻溝，無所不至。
- 〈庭中有奇樹〉：「庭中有奇樹，綠葉發華滋。攀條折其榮，將以遺所思。」關於這段詩句的分析，下列敘述何者正確？ (A)主角為奇樹修剪枝葉，等待所思之人歸來 (B)主角珍視奇樹，因為奇樹是思念的人所種 (C)主角攀折奇樹的花，是希望送給思念的人 (D)主角喜歡奇花異草，特意請遠方友人攀折相贈。
- 關於〈跳水〉和〈風箏〉的比較，下列敘述何者正確？ (A)前者以積極、熱情的態度追求理想，後者以輕鬆、遊戲的心態面對人生 (B)前者藉由俯視的角度營造空間感，後者則以仰視的角度描繪場景 (C)兩首詩皆藉由觀眾的反應，傳達對於堅持理想的肯定 (D)兩首詩皆以湛藍的天空象徵目標，並努力去追尋。
- 「看到那些珍珠芭樂，不免浮升同情，相信它們應該和土芭樂一樣，早年都有這樣的生存策略，只是被品種改良後，溫馴了。形成一顆顆整齊劃一，肥碩豐腴，色澤鮮亮，教人急欲購買的形容。」關於這段文字的含義，下列說明何者正確？ (A)珍珠芭樂改變原有的生存策略，因此數量變得稀少 (B)珍珠芭樂的生長期變短，天候一有變化就會影響產量 (C)珍珠芭樂喪失自然本性，成為市場的寵兒 (D)珍珠芭樂因產量變大，價格不斷滑落，吸引人們購買。
- 根據〈土芭樂的生存之道〉一文，土芭樂結出的果實為何要「刻意在不同的時間成熟」？ (A)可增加果實的水分及甜度 (B)可讓香氣籠罩整個空間 (C)可避免被強風豪雨一次打落 (D)可避免被人類或鳥群一次吃光。
- 〈土芭樂的生存之道〉一文中提及土芭樂「長得這麼彆扭」，下列何者不符合這樣的敘述？ (A)樹身滑溜不好攀爬，果實各自散在枝極末梢 (B)整棵樹的果實，往往不同時間成熟 (C)為了繁衍後代，它必須讓自己香氣四溢 (D)果肉更常半硬半熟，讓你咬一、二口即想棄食。
- 關於〈土芭樂的生存之道〉一文中土芭樂的特色，下列分析何者正確？ (A)每天都有乳黃的果實，掉下來：說明土芭樂的口感 (B)肉漿四射，腐熟的濃郁果香也跟著四溢：描述土芭樂的氣味 (C)就近摘了熟透的一顆，不過李子般大：敘述土芭樂的味道 (D)再摘一顆皮硬青綠的，盡是粗澀之感：描摹土芭樂的形狀。
- 根據〈土芭樂的生存之道〉一文，關於土芭樂和珍珠芭樂的比較，下列敘述何者正確？ (A)前者果肉熟度不均，後者果肉脆實飽滿 (B)前者的籽少，後者的籽多 (C)前者豐滿圓潤，後者乾癟瘦弱 (D)前者有腐熟的果香，後者有獨特的土香。

11. 下列選項「 」中的詞性，何者前後相同？ (A) 能夠讓你「幸福」，是我一生最大的「幸福」 (B) 到市場「購買」珍珠芭樂，起因於心中有「購買」欲 (C) 「夢想」成為一位優秀的籃球員，是他多年的「夢想」 (D) 我很在意芭樂的「口感」，只要是「口感」不佳絕對不買。
12. 下列選項「 」中的詞語，何者用後者替換後，意思改變？ (A) 今年芭樂樹不知為何，比「往年」都結實纍纍／翌年 (B) 經他解釋後，對他前陣子奇怪行為「了然」了／明白 (C) 若要爬樹，必須小心，以免有「摔落」的危險／跌落 (D) 我對摘土芭樂一事，「幽微」地隱含著些無奈／隱微。
13. 「馨香盈懷袖，路遠莫致之。」關於上述詩句，下列說明何者錯誤？ (A) 花朵未能如願送達，是因為路途遙遠 (B) 由前句可知，奇樹之花香氣濃烈馥郁 (C) 前句如見詩中主角執花，痴痴久立之畫面 (D) 由後句可知，所思之人對花漠然視之。
14. 關於庭中有奇樹一詩，下列說明何者正確？ (A) 藉折花相送表達對遠方親友的思念 (B) 花的香味是引起思念的最主要因素 (C) 全詩主旨寄寓在拉低枝條的動作中 (D) 奇樹之花因路途遙遠而變得不珍貴。
15. 下列慈烏夜啼的詩句，何者含義詮釋錯誤？ (A) 夜夜夜半啼：萬籟俱寂，慈烏因思念母親而哭泣 (B) 未盡反哺心：未盡扶養兒女的心意 (C) 慈烏復慈烏：呼告的寫法，為頌揚的語氣 (D) 鳥中之曾參：以曾參代稱孝子，為借代修辭。
16. 「再摘一顆皮硬青綠的，盡是粗澀之感，但它繼續報以芳醇之味，教人憶起兒時摘食的快樂。」根據這段文字，可推知下列何者？ (A) 作者兒時以摘芭樂為業 (B) 作者兒時曾摘過土芭樂 (C) 作者愛土芭樂的粗澀風味 (D) 作者只摘皮硬青綠的芭樂。
17. 「不崇拜模仿，是對自我認定的強烈自信。人生有夢，但無須把自己的夢『典當』在別人的光鮮輝煌中。」下列何者最適合為這段文字下注腳？ (A) 追隨流行，跟上時代 (B) 成功不必在我 (C) 做自己的主人 (D) 學習他人優點。
18. 走一遭」的「遭」、「看一回」的「回」，詞性同於下列何者？ (A) 「什麼事」的「什麼」 (B) 「快快的走」的「走」 (C) 「去一趟」的「趟」 (D) 「火車票」的「票」。
19. 所謂「聯綿詞」，必須由兩個或兩個以上的音節合起來，才能表達意義，才能成詞。下列詞語，何者皆為聯綿詞？ (A) 香蕉、水梨 (B) 蘿蔔、蜻蜓 (C) 晴朗、陰雨 (D) 風雨、天氣。
20. 下列文句「 」中的字詞，何組詞性前後相同？ (A) 我「參與」了這次環保研習／節能減碳需要你我共同「參與」 (B) 「說明」書上詳細敘述使用方法／對於這件事，請你給我個「說明」 (C) 他的行為非常「商人」／他是一位「商人」 (D) 我「鋪」好椅墊，方便奶奶就坐／他在當「鋪」裡做夥計。
21. 下列選項「 」中的注音寫成國字後，何者字形前後相同？ (A) 溫「ㄊㄨㄣˊ」甜美／歡「ㄊㄨㄣˊ」鼓舞 (B) 老「ㄌㄞˊ」能解／燙手山「ㄌㄞˊ」 (C) 「ㄉㄤ」山越嶺／高不可「ㄉㄤ」 (D) 慈烏反「ㄉㄤ」／亡羊「ㄉㄤ」牢。
22. 上過了古體詩課程後，大家分組討論，下列何人提出的見解錯誤？ (A) 曉彤：古體詩體制有別於唐代的近體詩 (B) 小敏：所謂的「古」是相對於唐代的近體詩而言 (C) 小風：每首的句數不限，不講求平仄、對仗，但押韻比較嚴 (D) 湘琴：以五言詩、七言詩居多。
23. 關於慈烏夜啼一詩的詩意詮釋，下列說明何者錯誤？ (A) 夜夜夜半啼：萬籟俱寂，慈烏孤獨無伴而害怕哭泣 (B) 未盡反哺心：表達「子欲養而親不待」的哀思 (C) 慈烏復慈烏：一再呼喚的寫法，表達了作者對慈烏的憐惜和讚嘆 (D) 全詩顯示了樸實無華的古詩風格。
24. 「在為實現理想的奮鬥過程中，肯定會遇到許多坎坷曲折和意想不到的困難，所以必須勇敢的面對現實，要有『板凳要坐十年冷』、『打掉牙齒和血吞』的精神和毅力。你覺得自己笨嗎？那就笨鳥先飛吧！」(李清明〈守望理想〉) 這段文字的主要含義為何？ (A) 認清自己的能力，不要白白浪費精神和青春 (B) 天生我才必有用，愚笨的人也有出頭的一天 (C) 體會過坐冷板凳的滋味，才能明白人情冷暖 (D) 追求理想的奮鬥過程，要有毅力和能吃苦的精神。

25. 「幾株不起眼的番石榴，像油麻菜籽般，竟在貧瘠的防空洞上生了根，發了枝，長了葉。彷彿吃苦耐勞的金門人，再怎麼艱困的環境，都能生存下來。」（薛素瓊〈防空洞上的番石榴〉）關於這段文字的主旨，下列說明何者正確？（A）防空洞上的番石榴和金門人一樣，能克服艱困的環境而生存（B）番石榴是便宜的水果，金門人認為其毫無價值而棄於防空洞（C）番石榴是金門人賴以維生的水果，故連防空洞上都種滿果樹（D）金門曾是戰地，到處都有番石榴，見證了當時人民生活的困苦。

◎ 世間事大抵都是如此，所謂凡事有度^①，這個度很難把握，不過能夠達到「微微」的境界，便能體驗到最佳狀態。

我覺得「微微」是個極富美感的詞語，就像美人臉上的一抹胭脂紅，稍稍點染，輕輕暈開，便能恰到好處。微微，是增一分太濃、減一分太淡，恰如其分的創造出最佳境界。微微，實在是人生妙境。

思念是美麗的憂傷，而思念太濃，會傷情。最美的思念，是微微的想念。想念一個人，不會「此情無計可消除」，徒增煩惱，也不會想得「人比黃花瘦」，空憔悴。想起他，只是淡淡的想起他的笑，想起他的好。山長水遠，見與不見都不要緊，各自安好，便是晴天。你見，或者不見，他都在那裡，不悲不喜。微微的思念，就是輕巧散淡的詩句，隨口吟出來，淡淡的抖落相思，你亦是不悲不喜，不憂不怨。

愛情的最美階段，也是初遇時的怦然心動。兩個人遙望著彼此，揣測著對方的態度，這時如飲酒一般，是微醉的狀態。愛讓兩個人愈走愈近，我們總以為，愛就要山崩地裂，死去活來。其實，最好的愛情是微微相愛，只愛一點點，愛得留有餘地。「情深不壽^②」，愛得愈深愈熾烈，結局往往是慘淡的；雲淡風輕的愛，才会有細水長流的幸福。（節選自馬亞偉〈「微微」的妙境〉）

【注釋】①度：適當的限度。②壽：長久。

26. 下列對於情感的態度，何者最符合作者的觀點？（A）欲擒故縱，一再試探對方的忠誠度（B）立下山盟海誓，希望雙方的感情能天長地久（C）一日不見，如隔三秋，因過於思念而心神不寧（D）簡靜安然，溫火慢燉，讓關係得以細水長流。

27. 本文的主旨為下列何者？（A）擁有一段濃烈而真摯的感情，此生便已無憾（B）凡事若懂得適可而止，便能體會生命的妙境（C）缺憾也是一種美，不圓滿也是一種人生常態（D）不曾有過肝腸寸斷的思念，便無法領會愛的真諦。

◎請先閱讀詩作，再回答下列問題。

迢迢^①牽牛星，皎皎^②河漢女^③。

織織擢^④素手，札札^⑤弄機杼^⑥。

終日不成章^⑦，泣涕零^⑧如雨。河漢清且淺，相去復幾許？

盈盈^⑨一水間，脈脈^⑩不得語。（《古詩十九首·迢迢牽牛星》）

【注釋】①迢迢：遙遠的樣子。②皎皎：明亮的樣子。③河漢女：指織女星，與牽牛星隔著銀河相對。河漢，銀河。④擢：音出乂乙ノ，舉起。⑤札札：此指織布的聲音。⑥機杼：即織布機。杼，音出乂乙ノ。⑦不成章：此指織不成布匹。⑧零：落下。⑨盈盈：水清澈的樣子。⑩脈脈：含情凝視的樣子。脈，音門乙乙ノ。

28. 「盈盈一水間，脈脈不得語。」這段詩句的主要含義為何？（A）兩人因一水之隔，無法聚在一起互訴衷情，只能含情相望（B）兩人可從對方眼中看見真摯的情感，不需言語即可明白彼此想法（C）兩人距離遙遠，想說的話對方也聽不到，不如不說（D）兩人的距離其實不遠，但因被危險的銀河所阻隔，害怕到說不出話來。

29. 關於本詩的敘述，下列何者正確？（A）以「迢迢牽牛星，皎皎河漢女」慨嘆牛郎與織女的貌合神離（B）以「織織擢素手，札札弄機杼」描述織女織布的情形（C）以「終日不成章，泣涕零如雨」說明織女不知從何下筆傾訴思念之情，不禁淚流滿面（D）以「河漢清且淺，相去復幾許」點出牛郎與織女的距離遙不可及。

30. 關於本詩的寫作手法，下列敘述何者正確？（A）首兩句以織女隔著銀河遙望牛郎所見的景象起筆（B）全詩從牛郎的角度，描寫與織女兩地相思卻無法相聚（C）詩中善用疊字，增添了節奏感與音韻之美（D）本詩融敘事、議論於一體，敘寫人間男女咫尺天涯的悲情。

【第3頁結束 後面尚有試題】

班級： 姓名： 座號：

一、單選題(每題二分，共六十分)，請將答案填入答案欄，否則不予計分。

1.	2.	3.	4.	5.	6.	7.	8.	9.	10
11	12	13	14	15	16	17	18	19	20
21	22	23	24	25	26	27	28	29	30

二、解釋題(每題二分，共十六分)

- 扶搖直上：
- 溫馴：
- 豐腴：
- 熾烈：
- 結實纍纍：
- 發華滋：
- 盈：
- 沾襟：

三、國字注音(每題一分，共十四分)

- | | | |
|-------------|-------------|--------------|
| 1. 「丁口弓ノ」掛： | 2. 「ㄩ一弓」定： | 3. 「ㄨㄟ、」懼： |
| 4. 實「ㄩ一弓、」： | 5. 「瞬」間： | 6. 發人深「省」： |
| 7. 「喪」不臨： | 8. 悲不「任」： | 9. 「く一弓」虛有禮： |
| 10. 腐熟軟「塌」： | 11. 「籠」罩： | 12. 末「尸么」： |
| 13. 無「ㄋㄚ、」： | 14. 「輾」轉難眠： | |

四、配合題(每題一分，共十分)，請將答案填入答案欄，否則不予計分。

A. 路不拾遺	B. 紙短情長	C. 獨善其身	D. 握髮吐哺	E. 孺慕之情	F. 朝三暮四
G. 響遏行雲	H. 穿雲裂石	I. 如泣如訴	J. 餘音嫋嫋	K. 靡靡之音	L. 烏鳥私情
M. 烏合之眾	N. 子虛烏有	O. 涕泗滂沱	P. 千鈞一髮	Q. 仰人鼻息	R. 以儆效尤

1.	2.	3.	4.	5.
6.	7.	8.	9.	10.

- _____，訴不盡思念之苦。
- 我對父母的_____與日俱增。
- 做事要有恆心，總是_____的人，是不能成就大事的。
- 收音機傳來悲傷的老曲調，透過女歌手_____的歌聲，我得出男人總是離開女人的結論。
- 那道聲音像是有魔力般，如_____，牽動著豆豆的好奇心。
- 這首歌曾經被認定為是_____而被禁止播放。
- 這故事雖然是_____，但內容卻生動有趣，令人百看不膩。
- 救難人員在這場大災難中表現出捨身救人的行為，令在電視機前的女人_____，男人熱淚盈眶。
- 主管狐假虎威，欺壓屬下，我們這些小職員每天過著_____的日子，能不處處小心謹慎嗎？
- 為了達到_____的目的，法官決定對這名人犯求處重刑。

澎湖縣立文光國民中學一一一學年度第一學期第一次成績評量寫作測驗

八年 ()班 姓名: 座號:

※ 測驗時間四十五分鐘，請用本匣文字書寫，可不必抄題目。

※ 請用黑色墨水筆(不得使用鉛筆)，由上而下，自右而左書寫，長三百字以上，不得使用詩歌、小說體裁及網路語言。

※ 答案紙上不得作任何標記或顯示個人身分，否則皆以零分計算。請仔細閱讀以下題目及說明，撰寫一篇作文。

※

題目：壓力與我

說明：現代是一個競爭的時代，即使是學生也有來自學業上、人際關係上或各種競賽的競爭。請你敘述一段你個人承受壓力的過程，過程中需包含是在何種情形下承受此壓力，及它在你的生活中帶來了哪些變化？你又是如何面對它呢？並進一步論述你對壓力的看法。
請寫出你面對未來時，應該具備的能力，並說明其中的理由。

請交答案卷即可

Class :

Number :

Name :

一：聽力測驗題；每題均有三個選項，請依據所聽到的對話與問題，選出一個最適當的答案 10% (每題二分)

- () 1. (A) Halloween.
(B) Thanksgiving Day.
(C) Tomb Sweeping Day.
- () 2. 請選最恰當回應
(A) Oh, I just sold it.
(B) I came here by bike today.
(C) Yes, I walked this morning.
- () 3. (A) (B) (C)



- () 4. 請選最恰當回應
(A) Are you okay?
(B) Oh no, that's terrible.
(C) He did well yesterday.
- () 5. (A) They cleaned the desk.
(B) They walked on the street.
(C) They celebrated the New Year.

二：詞類變化填充；請根據前後文作適當的變化；變化之後，答案可能不只一個字 20% (每題二分)

- ☺ Jill must 1. (be) very happy because she's having a baby.
- ☺ Edward : Who 2. (jog) around the school?
Timmy : Samantha is.
- ☺ Last summer, Johnny 3. (hit) the book 用功念書 in the library every morning.
- ☺ 4. (Not get) to the marriage too early. It's not good.
- ☺ He cut the apple and 5. (eat) one piece of it.
- ☺ Because nobody 6. (take) action, the man passed away .
- ☺ Lucy: Did the river 7. (freeze) before?
Amy: Yes, it 8. (freeze) because it was very cold.
- ☺ Irene: My boyfriend 9. (bring) me a rose candle today. Look! Is it very beautiful?
Laura: Yes, it's really beautiful.
- ☺ Kevin Lin started to run across the Sahara Desert in November, 2006. He 10. (run) for 111 days, and finally finished his run on February 21, 2007.

三：選擇題 50% (每題二分)

- ☺ Jack : Do you like math?
Pete : I didn't like it before, 1.
(A) and now I love it (B) but now I did (C) and now I do (D) but now I love it
- ☺ Amy : I like basketball. 2.
Ben : I like baseball.
(A) How come you like sports? (B) How old are you? (C) How about you? (D) Why not?
- ☺ Alan : 3.
Bob : We swam and rode bicycles.
(A) What do you do there? (B) What can you do there?
(C) What did you do there? (D) What are you doing there?
- ☺ Alice : Thank you, Uncle Sam. I had a great time.
Sam : 4.
(A) Yes, I agree. (B) No, I couldn't. (C) Come back any time. (D) Thank you.

- ☺ **Fiona:** Who planted the flower here?
Stanly: Joan 5.
 (A)plant (B)planted (C)was (D)did
- ☺ **Rene:** 6. you scared of the ghost story?
Gwen: Yes, I 6.
 (A)Was; was (B)Did; did (C)Were; was (D)Were; were
- ☺ 7. my grandfather is very old, 7. he can't walk fast.
 (A)Because; so (B)So; because (C)Because; X (D)So; X
- ☺ Tina didn't go to the party. What happened 8. her?
 (A)in (B)with (C)for (D)to
- ☺ **Ambrose:** My English grades are my nightmare. I am going to cry!
Cecilia: I am 9.. Can you tell me your grades?
 (A)curious (B)touching (C)sweet (D)terrible
- ☺ Harry couldn't get up early, 10. he was late for school yesterday morning.
 (A)when (B)X (C)so (D)because
- ☺ The man often gives a few 11. to poor children every Christmas.
 (A)fruit (B)gifts (C)money (D)pork
- 12.** Amy was angry because her brother lost her bike. 請選出語意相同的句子
 (A)Because Amy was angry, so her brother lost her bike.
 (B)Amy was angry, so her brother lost her bike.
 (C)Amy's brother lost her bike, so she was angry.
 (D)Amy's brother lost her bike because she was angry.
- ☺ Jack was short 13.
 (A)in last year (B)on last weekend (C)at that time (D)later
- ☺ Tanya is a girl from Yemen, and she 14. her first baby 14. twelve.
 (A)had;at (B)has;age (C)have;at (D)had;age

Here is the preface 前言 of Nick Foster's new book Married to Food.

Preface

My mother was lousy at cooking. To her, cooking was more like an exciting experiment. You put some of this and some of that in a pot, and you wait and see what will happen. "No experiments 實驗, no experiences 經驗." is what she would say when her experiment did not turn out good, and I heard that a lot.

My father was a good cook, and he loved to cook, too. He often said that he got my mother to marry him with a table of delicious food, not with a beautiful ring. "A family needs only one good cook," he said.

Now I am a cook myself. And I have my own restaurant. I learned how to cook from my father, of course. From him, I learned the art of cooking. But I did learn one thing from my mother. It's her famous saying: "No experiments, no experiences."

【104 會考】

- 15.** What does it mean when someone is lousy at something?
 (A) They are good at it.
 (B) They are poor at it.
 (C) They think it is important.
 (D) They are not interested in it.
- 16.** What can we learn from the preface?
 (A) How Foster started his own restaurant.
 (B) When Foster's father married Foster's mother.
 (C) What Foster's mother taught him about cooking.
 (D) How Foster learned the art of cooking from his father.

Adela: What movie are you 17. ?

Brody: It's a movie about 18.. Its name is *Coco*.

Adela: Look! People put on special costumes and dance in a circle on the street.

Brody: Yes. They celebrate the Day of the Dead in a lively way.

Adela: A **19.** pictures on the desk. Why?

Brody: People in Mexico put the pictures of the dead on the desk and invite them **20.** to the world.

Adela: It's so interesting 有趣的. Who is the boy **21.** a guitar?

Brody: It's Miguel. He gets into the ghost's world. He wants to find his great grandfather.

Adela: Who is the old woman on the chair?

Brody: She is Miguel's grandmother. She almost forgets her father, so Miguel needs to help her.

Adela: **22.** can Miguel do?

Brody: I don't know. Why not sit down and watch the movie with me?

Adela: Good idea.

17. (A) seeing (B) looking (C) watching (D) placing

18. (A) death (B) dead (C) die (D) dying

19. (A) little (B) lot (C) few (D) ago

20. (A) for (B) back (C) away (D) off

21. (A) in (B) of (C) about (D) with

22. (A) What (B) Who (C) Where (D) What time

If 如果 someone has no arms or no legs, can he live a happy life? You may think it is impossible 不可能的, but for Nick, everything is possible 可能的.

In 1982 in Australia, when Nick was born 出生, he had no arms and no legs. His parents were sad to see their baby. When Nick grew up 長大, he always looked at things on the bright 明亮的 side. However, he was bullied 被霸凌 during his school days. With his parents' love and his belief 信仰 in God, Nick got through 通過 all the ups and downs in his life.

He learned to do everything, like walking, swimming, writing, and taking a bath. Now Nick is a famous speaker, and he travels around the world to tell people his story and to give help.

In his speech, he tries hard to say something: Everyone is special, and is strong enough to overcome bad things. It's not the end of the world, so don't give up.

23. Which is **NOT** the important message from Nick?

(A) Everyone is special.

(B) Don't give up, and you can make it.

(C) Stop trying because life is too hard.

(D) Everyone is strong enough to go on.

24. What does Nick do now?

(A) He is a famous singer.

(B) He travels around and has fun.

(C) He tells his story and gives help.

(D) He is a basketball player.

25. What does ups and downs mean in the reading?

(A) Magic and life.

(B) Joy and trouble.

(C) Power and luck.

(D) Peace and wish.

四. 寫作練習 ; 請根據提示作答 **20%** (每句二分)

Picture A



澎湖縣立文光國民中學 111 學年度第一學期第一次月考

八年級英文答案

Class : Number :

Name:

一:聽力測驗題: 10% (每題二分)

1.	2.	3.	4.	5.
----	----	----	----	----

二:詞類變化填充;請根據前後文作適當的變化;變化之後,答案可能不只一個字 20% (每題二分)

1.	2.	3.	4.	5.
6.	7.	8.	9.	10.

三:選擇題 50% (每題二分)

1.	2.	3.	4.	5.	6.	7.	8.	9.	10.
11.	12.	13.	14.	15.	16.	17.	18.	19.	20.
21.	22.	23.	24.	25.					

四.寫作練習 20% (每題二分)

1. 畢竟,在當時我並沒有說什麼糟糕的事情。(請翻成英文)
2. What does Tomb Sweeping Day mean to you? (請依事實回答)
3. What did Karen buy for her baby? (以 Picture A 回答;圖片在題目卷上)
4. Ted broke his arm because he fell off the tree. (以 so 改寫句子)
5. He didn't draw circles on the paper. (改為肯定句)
6. 那部電影使我想起我的過世的雙親。(請翻成英文)
7. I can't live without chocolate. (請翻成中文)
8. <u>Yes</u> , Andrew always did his homework after school. (依畫線部分造原問句)
9. Why do you go to school every day? (請依事實回答)
10. I didn't finish reading the book because I had a math test. (請用 Because of...改寫此句)

澎湖縣立文光國民中學 111 學年度第 1 學期 8 年級數學科第一次段考試卷

班級：

姓名：

座號：

讀卡 題目卷

一、選擇題：每題 4 分，共 40 分。

() 1. 若 A 為正整數，且滿足 $999^2 = A + 1$ ，則 A 與下列何者相等？

- (A) $(999+1)^2$ (B) $(999-1)^2$
(C) $(999+1)(999-1)$ (D) $(999+1)^2(999-1)^2$

() 2. 若 A 為 x 的二次多項式，B 為 x 的三次多項式，則 $(A \times B)$ 為 x 的幾次多項式？

- (A) 七次 (B) 六次 (C) 五次 (D) 不一定

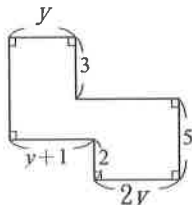
() 3. 下列何者是 x 的多項式：

- (A) $-2x+8=0$ (B) x^2-5 (C) $(5x^2-5)/x$ (D) $-7x+3$

() 4. 判斷下列各式的值，何者最大？

- (A) $4 \times 31^2 - 14^2$ (B) $9 \times 21^2 - 13^2$
(C) $16 \times 17^2 - 18^2$ (D) $25 \times 13^2 - 15^2$

() 5. 以多項式表示圖形的面積，則下列何者正確？



- (A) $16y$ (B) $16y+3$ (C) $16y+6$ (D) $16y+9$

() 6. 若 x 是 5 的平方根，下列何者正確？

- (A) $2x$ 是 10 的平方根 (B) $4x$ 是 10 的平方根
(C) $5x$ 是 25 的平方根 (D) $2x$ 是 20 的平方根

() 7. 計算 $6x^2+8x+10$ 除以 $2x$ 後，得餘式為何？

- (A) $\frac{10}{2x}$ (B) $3x+4$ (C) 0 (D) 10

() 8. 試問 $\sqrt{15}$ 介於哪兩個連續整數之間？

- (A) 1、2 (B) 2、3 (C) 3、4 (D) 4、5

() 9. 如果 $\sqrt{45 \times a}$ 是一個整數，則 a 的最小正整數值為何？(A) 45 (B) 25 (C) 15 (D) 5

() 10. 若 $(a+1)x^2+(b-4)x+ab$ 是一個 x 的一次多項式，且一次項係數是 -1，則此多項式的常數項為何？(A) -3 (B) -4 (C) -5 (D) 0

二、填充題：每題 4 分，共 40 分。

1. 請計算 $(7x+2)^2-3(2x-5)=$ (1)

2. a 為正數，已知 \sqrt{a} 的平方根為 ± 3 ，則 $a=$ (2)

3. $(3x^2+5x) + (3x+5) =$ (3)

4. $(3x^2-9x+5) - (-5x^2+2x-8) =$ (4)

5. 多項式 $(x-3)(x-5)$ 的一次項係數為 (5)

6. 請化簡 $\sqrt{2025} =$ (6)

7. 若 $8^2=64$ 、 $9^2=81$ 、 $8.7^2=75.69$ 、 $8.8^2=77.44$ 、

$8.77^2=76.9129$ 、 $8.78^2=77.0884$ 、

$8.775^2=77.000625$ ，求 $\sqrt{77}$ 近似值 (7)。(以四捨五入法求到小數點後第 2 位)

8. 利用乘法公式計算 $\frac{67^2-42^2}{67^2+67 \times 84+42^2} =$ (8)

9. 若 $a+b=7$ 、 $a^2+b^2=27$ ，則 $a-b=$ (9)

10. $a=\sqrt{29}$ 、 $b=\sqrt{28}$ 、 $c=6$ ，則 a、b、c 的大小為何？(10)

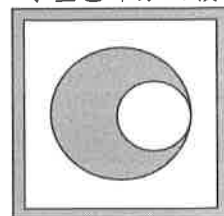
三、計算題：每題 5 分，共 20 分。(需計算過程)

1. $(9x^2+1) \div (3x+1)$ 的商式及餘式。

2. 若一個長方形面積為 $(49x^2-21x-4)$ 平方公分，且長為 $(7x+1)$ 公分，則周長為幾公分？

3. 設 A 為多項式，若 $[A-(5x^2-x-4)] \div (3x+4)$ 後，得商式為 $2x-1$ ，餘式為 6，求多項式 A = ?

4. 如下圖所示：方形邊長分別為 20、18 公分，大、小兩圓直徑為 12 及 8 公分，求塗色部分面積為多少。(圓周率以 π 表示)



試題結束

澎湖縣立文光國民中學111學年度第1學期8年級數學科第一次段考答案卷

班級： 姓名： 座號： 讀卡 答案卷

第一部份：單一選擇題（每題 4 分，共 40 分）

1.	2.	3.	4.	5.	6.	7.	8.	9.	10.

第二部份：填充題（每題 4 分，共 40 分）（答案完全正確才給分）。

(1)	(2)	(3)	(4)	(5)
(6)	(7)	(8)	(9)	(10)

第三部份：計算題（每題 5 分，共 20 分）請務必書寫計算過程，否則不予計分。

1.	2.
3.	4.

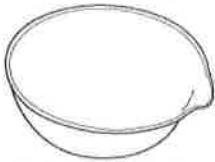
澎湖縣立文光國中111學年度第一學期第一次段考自然科試題

《答案需填入答案卷》


8年 ___班 座號：___ 姓名：_____

一、選擇題：每題2分 共80分

- () 在實驗室，如果想要量取20毫升稀硫酸時，應該用哪一種實驗器材盛取？ (A)天平 (B)彈簧秤 (C)玻璃棒 (D)量筒。
- () 下列哪一項是錯誤的實驗操作？ (A)用量筒量取定量液體的體積 (B)用溫度計攪拌溶液，使其均勻混合 (C)裝溶液的試管直接在酒精燈上加熱 (D)傾倒液體藥品時，使用玻璃棒使藥品沿玻璃棒流入容器中。
- () 有關實驗器材或實驗藥品的注意事項，下列何者正確？ (A)直接用酒精燈加熱燒杯，可以使實驗加快並節省時間 (B)量筒除了用來測量溶液體積，也可用來配製溶液和進行反應 (C)稀釋濃硫酸時要將濃硫酸緩緩加入大量水中，以免燒杯破裂或酸液濺射 (D)要將眼鼻盡量靠近藥品才能準確觀察藥品的顏色、氣味和狀態。
- () 有關實驗室操作，下列敘述何者錯誤？ (A)使用量筒測量液體體積時，以平視刻度為準 (B)酒精燈內的酒精量以1/2到2/3為佳 (C)試管加熱時，試管口不能對準自己或旁人 (D)隔水加熱最主要的目的是加速導熱。
- () 加熱藥品時，使用陶瓷纖維網的目的為何？ (A)使器皿受熱均勻避免破裂 (B)使器皿穩固不易翻倒 (C)使整體裝置看來美觀大方 (D)使器皿內的藥品可以混合均勻。
- () 附圖為實驗室中蒸發溶液時常使用到的器材，試問其名稱為何？ (A)蒸發皿 (B)錶玻璃 (C)研鉢 (D)吸濾瓶。



- () 有五位同學分別以最小刻度單位為0.1公分的直尺測量書桌的寬度，測量結果分別為40.11公分、39.89公分、46.40公分、40.01公分和39.99公分，試問書桌的平均寬度為多少公分？ (A)40.03公分 (B)40.01公分 (C)41.28公分 (D)40.00公分。
- () 明明用最小刻度為毫米的直尺測得手掌長度為17公分時，他應該如何記錄？ (A)17公分 (B)17.0公分 (C)17.00公分 (D)17.000公分。
- () 花輪使用直尺測量鐵釘長度，直尺與鐵釘的相對位置如附圖所示，若圖中直尺的數字以公分為單位，則鐵釘的長度應記錄為何？




- (A)16.0公分 (B)16.00公分 (C)3.00公分 (D)3.0公分。
- () 若小明用直尺測量一書桌，得到其長度為0.550公尺，則他所用的直尺準確至哪一單位？ (A)公尺 (B)公分 (C)毫米 (D)公里。
- () 有一長方體，其長寬高分別為12、5、30公分，則此長方體的體積為多少 m^3 ？ (A)1800 (B)18 (C)0.0018 (D)0.00018。
- () 若以某直尺測量一物體長為2.130公尺，再用同一直尺測得另一物長為1公尺2公分，則應記錄為何？ (A)1.02公尺 (B)10.2公寸 (C)102公分 (D)1.020公尺。(1公尺=10公寸，1公寸=10公分)
- () 將1公斤的鐵與1公斤的棉花做比較，下列敘述何者錯誤？ (A)兩者的質量相等 (B)鐵塊的體積較小 (C)棉花的密度較大 (D)兩者放在天平兩端，天平將保持平衡。
- () 量筒中裝有質量1360公克、體積100 mL的水銀；若倒出80 mL，則量筒中剩餘水銀的密度是多少？ (A)10.9 g/cm^3 (B)13.6 g/cm^3 (C)1.36 g/cm^3 (D)68 g/cm^3 。

【背面尚有試題】

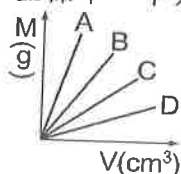
15. () 小朱利用天平測量量筒裝水後的質量，並逐次在量筒中加水，依序測得水的體積與量筒的總質量關係，如附表所示，請問量筒的質量約為多少？

水的體積(cm^3)	6.0	7.0	8.0	9.0
水的質量(g)+量筒質量(g)	11.0	12.0	13.0	14.0

- (A)4.0 公克 (B)5.0 公克 (C)6.0 公克 (D)7.0 公克。
16. () 一般常用天平來測量物體的質量，則有關天平使用的原則，下列敘述何者錯誤？ (A)使用天平前要先歸零 (B)應先在秤盤上加放秤量紙，再秤量粉末狀化學藥品 (C)不能為了快速操作，而用手直接拿取砝碼 (D)為了使測量結果更準確，質量較重的砝碼應放在秤盤的最外側。
17. () 天平的左右兩稱盤各有一個實心物體，此時天平保持平衡，如圖所示，則根據此圖判斷，下列哪一項敘述正確？



- (A)甲的密度大於乙 (B)甲的質量小於乙 (C)甲的體積等於乙 (D)甲、乙屬於同一種物質。
18. () 已知冰的密度為 0.9 g/cm^3 ，今取 180 公克的冰投入 200 公克的水中，當冰完全融化後，杯中水的總體積為多少 cm^3 ？ (A)360 (B)380 (C)400 (D)422.2。
19. () 將 A、B、C、D 四種不溶於水的固體物質，其質量 M 與體積 V 的測量結果關係圖畫在同一坐標中，下列相關敘述何者正確？



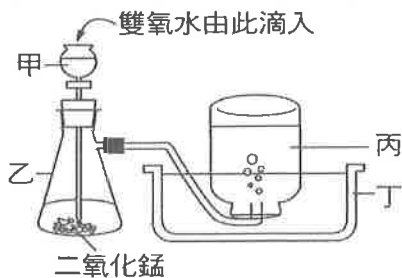
- (A)A 的密度最小 (B)體積相同時，D 的質量最大 (C)質量相同時，A 的體積最大 (D)D 的密度比 C 小。
20. () 石油是混合物，若經過分餾，收集沸點在 $70^\circ\text{C} \sim 120^\circ\text{C}$ 範圍內之物質即是汽油，則汽油是何種物質？ (A)混合物 (B)純物質 (C)雜質 (D)條件不足，無法判斷。
21. () 過濾時，漏斗頭下端要與燒杯內壁接觸的原因為何？ (A)避免濾液濺起 (B)避免實驗器材損壞 (C)提高濾液的純度 (D)加快濾液蒸發的速率。
22. () 加熱食鹽水，利用蒸發結晶法獲得食鹽，這是利用下列何種特性？ (A)食鹽的沸點比水高 (B)食鹽的沸點比水低 (C)食鹽是純物質 (D)食鹽易溶於水。
23. () 有關物質三態的敘述，下列何者錯誤？ (A)固體、液體的體積不隨容器而變 (B)液體的形狀可隨容器而改變 (C)氣體不具有可壓縮性 (D)發生三態變化的原因之一為溫度的變化。
24. () 墨水、銅、食鹽、汽水、米酒、粗鹽。以上六種物質屬於純物質的共有幾種？ (A)2 (B)3 (C)4 (D)5。
25. () 若將液態空氣緩慢蒸發，會發現氮氣比氧氣先蒸發出來。欲探討其原因，甲認為：氮氣的含量比氧氣多；乙認為：氧氣的沸點比氮氣高；丙認為：該液態空氣不可能是純物質，一定是混合物。關於以上三種說法，哪些較為合理？ (A)甲乙 (B)甲丙 (C)乙丙 (D)甲乙丙。
26. () 鐵釘生鏽、方糖溶於水、食物腐敗、光合作用、汽油燃燒、開水沸騰、食物消化、酒精蒸發、冰塊融化、火藥爆炸、粉筆折斷。以上屬於化學變化者有多少種？ (A)5 (B)6 (C)7 (D)8。

【背面尚有試題】

27. () 日前新聞報導說：「有一輛高速行駛的車輛因爆胎造成翻車而爆炸」。此爆胎與爆炸各屬於何種變化？ (A)兩者皆為物理變化 (B)兩者皆為化學變化 (C)前者屬於化學變化，後者屬於物理變化 (D)前者屬於物理變化，後者屬於化學變化。
28. () 小偉想要測試水果糖中的色素是純物質還混合物，下列方法何者較合適？ (A)將水果糖沾水點在濾紙下端，用濾紙色層分析法測試 (B)測試色素是否能用紗布過濾分離 (C)加熱水果糖，觀察是否有不同顏色的氣體產生 (D)將水果糖溶解在水中，觀察液體顏色的變化。
29. () 有關溶液及其組成的敘述，下列何者正確？ (A)硫酸銅水溶液中，硫酸銅是溶質 (B)水溶液一定是透明無色的 (C)只有固體才能溶於水中，液體與氣體則不能 (D)溶劑一定是水。
30. () 阿名把一小撮食鹽丟到一杯水中後，發現一下就溶光了，但用舌頭嘗一嘗卻發現整杯水都有鹹味，且雖然未攪拌卻濃度均勻，這是什麼原因造成的？ (A)光合作用 (B)蒸發 (C)溶解 (D)擴散現象。
31. () 某品牌營養液標示含鈣 40 ppm，其意義為每 1,000,000 毫克之營養液中，含有多少毫克鈣？ (A)4 (B)40 (C)0.04 (D)0.004。
32. () 經過科學研究，當酒精(乙醇)水溶液的體積百分率濃度在 75%左右時，其消毒效果最好，因此適合作為防疫清潔使用。小雯買了一罐 1000 毫升、75%的防疫用酒精水溶液，請問當中含有多少毫升的乙醇？ (A)7.5 (B)75 (C)750 (D)7500。



33. () 關於氣體的敘述，下列何者正確？甲. 氫氣的密度是所有氣體中最小的；乙. 氮氣是空氣中含量最多的氣體；丙. 焊接時，可用氫氣避免金屬與氧氣反應；丁. 氫氣可以助燃。 (A)甲乙 (B)乙丙 (C)丙丁 (D)甲丁。
34. () 小偉在實驗室中，以二氧化錳與雙氧水製造氧氣，其裝置如附圖所示，若氧氣的生成速率逐漸變慢時，下列哪一種方法可提高氧氣的生成速率？ (A)由甲加入濃度更高的雙氧水 (B)由甲加入更多的水 (C)將乙中的二氧化錳移走 (D)將丙移出水面。



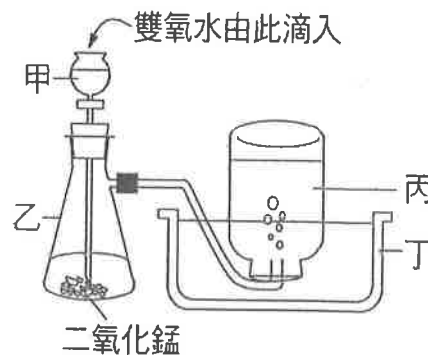
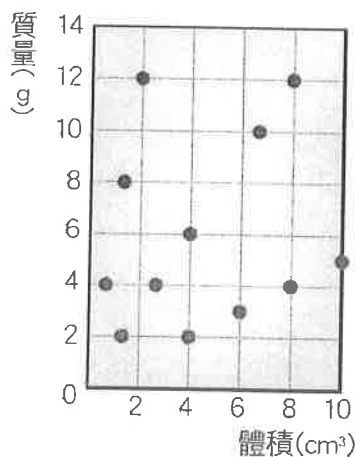
35. () 有關空氣組成的敘述，下列何者正確？ (A)只含有氮、氧、氫、氫、氫五種氣體 (B)空氣非常容易溶於水中 (C)空氣是一種混合物 (D)空氣中的二氧化碳與水蒸氣的含量都是固定的。
36. () 關於氧氣和二氧化碳的比較，下列何者正確？ (A)二氧化碳可使點燃的線香燃燒更旺盛，氧氣則否 (B)氧氣可使澄清石灰水變混濁，二氧化碳則否 (C)二氧化碳在空氣中所占比例較氧氣小 (D)兩者皆不溶於水。
37. () 有關二氧化碳的敘述，下列何者正確？ (A)為空氣中含量最多之氣體 (B)可使木材燃燒更旺盛 (C)可使澄清石灰水變混濁 (D)不溶於水，可用排水集氣法收集。

【背面尚有試題】

38. () 桌上有三瓶沒有標籤的氣體，已知內容物分別是氧氣、氫氣及二氧化碳，則下列何者可用來分辨三者？ (A)燃燒的火柴 (B)澄清石灰水 (C)二氧化錳 (D)乾燥的石蕊試紙。
39. () 製作蛋糕時，常會在白色的鮮奶油中加入些許色素混合，使其顏色變化增加美觀，而鮮奶油仍維持原本的性質。做好的蛋糕需妥善冷藏，以防止鮮奶油腐壞變質。關於上述鮮奶油「變色」和鮮奶油「變質」兩者的說明，下列何者最合理？【111教育會考】
(A)兩者都是化學變化 (B)兩者都不是化學變化 (C)只有後者是化學變化 (D)只有前者是化學變化。
40. () 兩個容積相同、質量可以忽略的瓶子，一瓶裝滿水後質量為 250 公克，一瓶裝滿柳橙汁後質量為 300 公克，請問柳橙汁的密度為多少公克 / 立方公分？ (A)0.6 (B)0.8 (C)1.2 (D)1.4。

二、填充題：每格2分 共20分

1. 可用觀察、測量等不改變物質組成的方法察覺，這些性質屬於物質的 1 性質。而蠟燭具有可燃性、氧氣具有助燃性及鐵會生鏽等，是物質經由化學變化後才可表現出的特性，屬於物質的 2 性質。
2. 有 12 個形狀、大小皆不同，但各由單一物質所組成的物體，分別測量其質量與體積的關係，所得結果如圖，請回答下列問題：



【第 5 題的圖】

- (1) 此 12 個物體中共有 3 種不同的密度。
- (2) 當中密度最大者為 4 公克 / 立方公分。
3. 一杯重量百分率濃度為 8% 的 250 公克糖水中，含有水多少公克？ 5
4. 阿康看到書本上關於溶解度的說明如下：在 25°C 時，100 公克的水最多可以溶解 36 公克的食鹽，則此狀態下食鹽的溶解度可以表示為 36 公克 / 100 公克水。請回答下列問題：
- (1) 在某溫度時，於 100 公克的水中加入 60 公克食鹽，經充分攪拌並將溶液過濾後，秤得仍未溶解的食鹽質量為 35 公克，則此溫度下，食鹽的溶解度為多少公克 / 100 公克水？ 6
(答案須加完整單位表示)
- (2) 承上題，請問該杯食鹽水溶液的重量百分率濃度約為多少？ 7 %
5. 小華在實驗室中，以二氧化錳與雙氧水製造氧氣，其裝置如右上圖所示，試根據此實驗過程與結果，回答下列問題：
- (1) 乙器材中先放入黑色的二氧化錳，再由甲器材頂部滴入雙氧水，試問加入二氧化錳的目的為何？ (A)增加氧氣的產量 (B)增加氧氣生成的速率 (C)減緩雙氧水的分解 (D)加速氧氣的溶解。答： 8
- (2) 若氧氣的生成速率太快時，下列哪一種處理方法最好？ (A)將導管移出水面 (B)拔開甲器材 (C)加入更多的二氧化錳 (D)盡速遠離。答： 9
- (3) 下列何種方法可檢測所收集的氣體是否為氧氣？ (A)通入澄清石灰水中，觀察是否產生沉澱 (B)放入石蕊試紙，觀察石蕊試紙的顏色變化 (C)加入二氧化錳，觀察是否會產生金屬錳 (D)加入快熄滅的火柴餘燼，觀察是否有復燃現象。答： 10

【試題結束、八年級、自然科】

澎湖縣立文光國中111學年度第一學期第一次段考自然科試題
《答案需填入答案卷》

8年 ___班 座號：___ 姓名：_____

一、選擇題：每題2分 共80分

1	2	3	4	5	6	7	8	9	10
11	12	13	14	15	16	17	18	19	20
21	22	23	24	25	26	27	28	29	30
31	32	33	34	35	36	37	38	39	40

二、填充題：每格2分 共20分

1	2	3	4	5
6	7	8	9	10

澎湖縣立文光國民中學 111 學年度第 1 學期第 1 次成績評量 8 年級歷史科試卷

班級：

姓名：

座號：

讀卡 答案卷

一、 單選題(1~15 題，每題 2 分；共 30 分)

- () 1. 中國出現以制度化方式培養人才的管道，而且在中央設立類似國立大學的機構，是從何時開始？
(A)西周 (B)秦代 (C)西漢 (D)曹魏。
- () 2. 申侯曾相約外族一起伐周，外族因而出兵一萬五千，自西向都城攻來；申侯則作為內應源源不斷的提供西周的軍事部署，外族掌握了重要資訊，故其兵馬很快就攻下都城，西周因而滅亡。有關上述之說明何者正確？ (A)外族指的應是犬戎 (B)當時出現諸侯稱王 (C)首都指的應該是殷 (D)顯示宗室關係密切。
- () 3. 封建與郡縣是中國各朝代在政治制度安排上常出現的兩種方式，這兩項制度在落實上各有利弊。右表有關封建、郡縣的比較，哪個欄位完全正確？
- () 4. 西元 1905 年，臺灣總督府首次在臺灣進行戶口調查，詳細建立臺灣人的戶籍資料。請問：在中國歷史上，此種戶籍登錄政策最早自何時起便開始施行？ (A)西周 (B)東周(春秋戰國) (C)秦代 (D)漢代。
- () 5. 中原地區是指以中國河南省為核心，延及黃河中下游的廣大地區一帶，可說是華夏文明的發源地。由於千里平坦，土壤肥沃，農業發達，糧食無虞，成為北方草原民族覬覦的地區。請問：在秦漢兩朝時，北方的哪一個外族就時常爭奪中原地區？(A)匈奴 (B)鮮卑 (C)大秦 (D)大月氏。
- () 6. 依據漢代律法的規定，家庭中應該遵守長幼尊卑有序的規範，律法中規定「不孝」之罪，幼者不得告發長輩犯罪，更不得毆打長輩，否則以不孝罪論處，但長輩對晚輩則有極大的懲戒權力。由此可知，漢代的律法中有何特色？(A)律法呈現階級不平等的情形 (B)強調透過嚴刑峻法威嚇人民 (C)倫理道德思想融入律法之中 (D)僅有平民需遵守律法的規定。
- () 7. 右圖為秦代政治制度的示意圖，下列敘述何者正確？ (A)此與封建制度相似，郡縣長官可世襲 (B)郡縣官吏稱諸侯，與皇帝有血緣關係 (C)此制度展現秦朝高度中央集權的特色 (D)此制度實施後，造成秦國各地通聯困難。
- () 8. 歷史老師講完魏晉南北朝時期的歷史概況後，要同學以簡單的幾句話表達這個時期的社會特色。甲生：「世族社會，對社會影響力大。」乙生：「社會動亂，宗教活動興盛。」丙生：「貴族沒落，平民崛起。」丁生：「萬般皆下品，唯有讀書高。」上述哪幾位同學的說法較為正確？ (A)甲乙 (B)甲丁 (C)乙丙 (D)丙丁。
- () 9. 唐朝詩人元稹本身具有草原民族血統，他的祖先原姓拓跋。之所以後來變成漢人姓氏，和哪一個時代最有關係？ (A)東周 (B)西晉 (C)曹魏 (D)北魏。
- () 10. 坪錡在整理歷史年表時不小心將幾件重要的歷史事件順序弄混淆了，其內容如右：由右表的内容來判斷，其正確的順序應該為何？
(A)丙乙丁甲 (B)乙丁丙甲 (C)乙丙丁甲 (D)乙丙甲丁。
- () 11. 司馬遷的著作《史記》曾講述一則史事：「宮殿的席宴中，官員們討論著對於是否應施行『郡縣制』抱持著高度質疑的態度。丞相則站在『薄古厚今(輕視過去、重視現在)』的立場上，提出銷毀過去知識的建議。」請問：這位丞相的態度可能會對國家帶來怎樣的改變？ (A)貴族權力全面提升 (B)中央集權強化 (C)導致國家遭到秦國毀滅 (D)重新恢復周代的禮樂規範。
- () 12. 漢朝的絲綢之路東起長安，西至大秦。請問：漢朝所稱的「大秦」是指當時哪個國家？
(A)匈奴 (B)伊朗 (C)身毒 (D)羅馬帝國。
- () 13. 唐太宗是中國歷史上著名的明君，不僅締造輝煌的「貞觀之治」，也被當時的西北各部族尊為「天可汗」。請問，唐太宗因為下列何項政績而得到「天可汗」的尊號？
(A)加強文化交流 (B)降伏邊疆強敵 (C)掌握海上霸權 (D)促進胡漢融合。

	封建	郡縣
(甲) 統治者	皇帝	天子
(乙) 最初實施時間	商周時期	東周時期
(丙) 管理方式	君主派任官吏	君主分封諸侯
(丁) 官吏來源	中央派任	世襲



甲	採行科舉考試制度
乙	統一度量衡以及文字
丙	設立太學來培養人才
丁	推動九品官人之法

【第 1 頁結束 後面尚有試題】

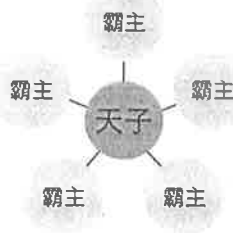
- ()14. 北魏時期胡漢融合，隋唐皇室也具有胡人血統，因此夷夏觀念淡薄，這種情況導致了隋唐時代的哪種風尚？ (A)胡風盛行，唐帝國因而大力推行漢化 (B)來自西域的學問在中國大行其道 (C)皇室提倡胡風，導致傳統士人不滿 (D)胡風盛行，充滿異國風情成為唐帝國的時代風貌。
- ()15. 從秦始皇到漢武帝，中國對北方遊牧民族所採取的政策有哪些？甲：修築長城防禦 乙：出兵討伐 丙：和親 丁：朝貢貿易(A)甲乙丙 (B)乙丙丁(C)甲丙丁(D)甲乙丁。

二、題組(第16~60題，每題1分，共5分)

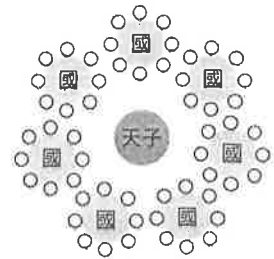
1. 請觀察附圖後回答下列問題。



圖一



圖二

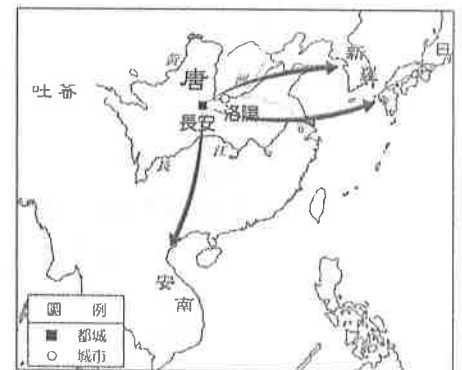


圖三

- ()16. 根據上圖，以下敘述何者最正確？ (A)圖(一)時期的統治特色為中央集權 (B)圖(二)時期的形成與外患匈奴入侵有關 (C)圖(三)時期的社會是逐漸以禮取代法律，用來規範貴族與平民的行為 (D)圖(三)時期國與國間兼併激烈，形成互爭天下的局面
- ()17. 下列何項敘述最能說明從圖(一)到圖(三)的歷史變遷？ (A)周王室分封土地擴大封建，使王室地位日益鞏固 (B)周王室地位日益低落，諸侯逐漸僭越稱王 (C)體現由郡縣走向封建的國家型態 (D)周天子逐漸收回統治權力，實現中央集權。

2. 請根據附圖回答問題：

- ()18. 有關圖中的箭頭標示，我們可以有以下哪種解讀？ (A)這是唐文化傳播的路徑 (B)這是唐朝商人的貿易路徑 (C)這是唐朝對外戰爭的路線 (D)這是唐朝人口遷徙的方向。
- ()19. 圖中哪個國家被稱為君子國？ (A)日本 (B)新羅 (C)吐蕃 (D)安南。
- ()20. 關於此圖的相關敘述，下列何者正確？ (A)大食、吐蕃均屬於受到東亞文化圈深刻影響的國家 (B)東亞文化圈主要成形的時間點為隋唐時期 (C)安南受到深刻的影響，平假名和片假名都是仿漢字所做 (D)新羅推動大化革新運動，主要目的是用來抵抗東亞文化圈造成的強勢影響。



【試題結束—文光八年級、歷史科】

澎湖縣立文光國民中學 111 學年度第 1 學期 第 1 次成績評量 8 年級公民科試卷

班級：_____ 姓名：_____ 座號：_____ ■ 讀卡 □ 答案卷

一、單一選擇題（十五題，每題 2 分，共 30 分）

21. () 總統大選前阿龍在電視新聞上看到右圖中一位學者的說法。請問：該名學者的發言顯示哪一項國家組成要素的重要性？(A)主權 (B)政府 (C)領土 (D)人民。

我國舉行總統大選是實現臺灣民主的過程，不受任何國家或國際組織的干涉。



22. () 領海為領土的範圍之一，其定義為距離海岸線以外多遠範圍以內的海域？(A) 200 哩 (B) 200 公里 (C) 12 哩 (D) 12 公里。

23. () 由右下圖中兩人的對話可知，我國的哪一項國家組成要素已經逐漸產生變化？(A)人民 (B)政府 (C)主權 (D)領土。

24. () 財政部要求發行「運動彩券」的機構應研提對具有工作能力的身心障礙者、原住民及低收入單親家庭之僱用計畫或回饋機制。請問：上述做法主要在發揮現代民主國家的哪一項功能？

最近看到報紙的一篇報導說，國內的老年人口即將要比小孩多了。

哇！少子化的問題愈來愈嚴重，青壯年的壓力應該也會變大。



(A)保衛國民安全 (B)發展社會福利 (C)維持社會秩序 (D)促進經濟發展。

25. () 右圖中的對話內容顯示現代民主國家的哪一項功能受到影響？(A)保衛國民安全 (B)促進經濟發展 (C)發展社會福利 (D)保障基本人權。

國防部最近積極募兵。

軍力短缺是一個需要正視的問題。



26. () 在民主國家中，人民透過何種方式決定執政者的去留，可避免獨裁國家產生以武力奪取政權的情況？(A)流血革命 (B)階級鬥爭 (C)定期選舉 (D)物競天擇。

27. () 下列關於「政府」的敘述，何者正確？(A)為國家的統治機關 (B)為了達成政策目標，可不受法律約束 (C)掌握國家最高的統治權力，可以完全管束人民 (D)政府的更替將影響國家在國際上享有的權利和地位。

28. () 小語從右圖所示的重大新聞事件學習到民主國家的政府運作方式，根據內容判斷，政府的處置最能體現下列何種特色？(A)政黨政治 (B)責任政治 (C)法治政治 (D)民意政治。

快訊！

全臺發生大停電，臺電董事長、總經理請辭，經濟部長自請處分！相關失職人員將從嚴究責。

29. () 在民主國家中，一旦法律制定後，除了人民有守法的義務之外，政府也應依法行政。上述最能說明民主治理所具備的哪一項特色？(A)法治政治 (B)責任政治 (C)民意政治 (D)政黨政治。

30. () 右側海報內容顯示民主治理所具備的哪一個特色？(A)民意政治 (B)政黨政治 (C)法治政治 (D)責任政治。

非核家園大遊行
歡迎大家扶老攜幼踴躍參與！
呼籲政府停止追加核四預算！
共同加入反核的行列！

【第 3 頁結束—背面尚有試題】

31. () 為完成公民報告，組員必須蒐集相關資料，每個組員被分配到的部分如下所示。請問：這組所負責的主題應該是民主治理所具備的哪一項特色？(A)民意政治 (B)政黨政治 (C)責任政治 (D)法治政治。

分配表

彎彎：透過定期選舉公平競爭

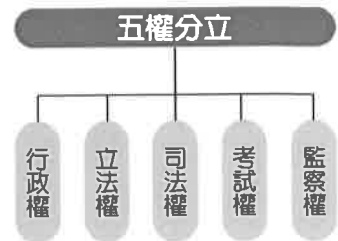
阿德：政權和平轉移

巧柔：組織政府、執行政策

小光：監督政府施政

32. () 在民主國家中，不同的政黨之間有公平競爭執政的機會，這種情形符合民主治理所具備的哪一項特色？(A)責任政治 (B)法治政治 (C)民意政治 (D)政黨政治。

33. () 右圖所呈現的是下列何人所提出的政治理論？(A)艾克頓爵士(B)孫中山先生(C)孟德斯鳩(D)蘇格拉底。



34. () 政治權力不能集中在同一群人手中，以免權力被濫用，而侵害人民的權利。請問：上述與下列哪一句名言的意思相符合？(A)覆巢之下無完卵 (B)羊毛出在羊身上 (C)絕對的權力，絕對的腐化 (D)天將降大任於斯人也。

35. () 阿珠參加一場演講，聆聽一位逃離北韓金正恩政權的民眾分享自身經歷，其講述內容的意涵，應與下列何者最接近？(A)統治者不受法律約束，法律只用來限制人民 (B)在人治社會，法律是所有人唯一的依循標準 (C)不論在何種社會，法律地位永遠高於統治者 (D)必須依賴法律約束，才能促進社會安定和諧。

二、題組(五題，每題1分，共5分)

(一) 引發第二次世界大戰的德國獨裁者希特勒，當時當上德國總理之後，極力奪取政權，除中止總統職權、削弱國會力量外，還擅自任用私人以全面掌控政治實權，嚴重侵害人民權益。請問：

- () 36. 我國為防止如同希特勒任用私人的現象發生，特地將哪一項國家權力從行政權中獨立出來？(A)司法權 (B)監察權 (C)立法權 (D)考試權。

- () 37. 上述希特勒的做法已破壞現代國家中央政府體制設計的何種原則？(A)權力分立 (B)世襲制度 (C)君主立憲 (D)責任政治。

(二) 為爭取勞工權益，抗議資方的不人道對待，育芬決定發起一場遊行活動，向政府表達勞工的心聲。請問：

- () 38. 育芬在網路上尋求贊同者的連署，製作了一份陳情書，遞交給政府部門。上述的做法凸顯民主治理所具備的哪一項特色？(A)法治政治 (B)民意政治 (C)責任政治 (D)政黨政治。

- () 39. 雖然《憲法》保障人民的集會遊行權利，但育芬仍必須向主管機關申請遊行路權，方在法律的保障範圍之內。上述的做法符合民主治理所具備的哪一項特色？(A)政黨政治 (B)責任政治 (C)民意政治 (D)法治政治。

- () 40. 承辦此業務的政府官員接受陳情書後表示，將盡最大的努力妥善處理，否則將辭職以示負責。此官員的態度展現民主治理所具備的哪一項特色？(A)責任政治 (B)法治政治 (C)政黨政治 (D)民意政治。

【第4頁結束—背面尚有試題】

澎湖縣立文光國民中學 111 學年度第 1 學期 第 1 次成績評量 8 年級地理科試卷

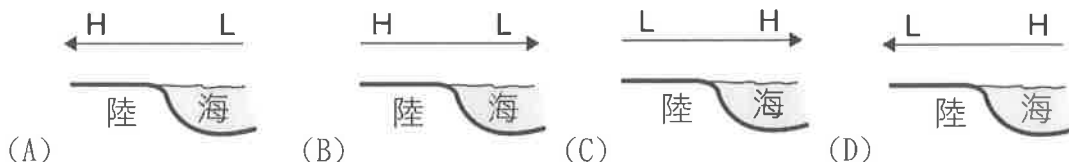
班級：_____ 姓名：_____ 座號：_____ ■ 讀卡 □ 答案卷

一、單一選擇題（十題，每題 2 分，共 20 分）

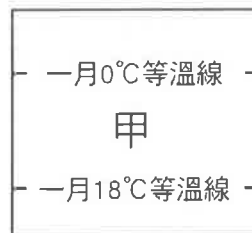
41. () 中國的位置「進可攻、退可守」，是指中國位於海陸交接處，具有可自由向海或向陸發展的優良條件；其所指的海與陸，應分別為何？ (A) 大西洋、歐亞大陸 (B) 印度洋、澳洲大陸 (C) 太平洋、歐亞大陸 (D) 太平洋、北美大陸。
42. () 中國現行的行政分區中，劃分成 22 個省、5 個自治區、4 個直轄市以及 2 個特別行政區。請問：特別行政區分別為下列何者？ (A) 澳門和深圳 (B) 香港和深圳 (C) 香港和澳門 (D) 香港和海南。
43. () 下列何者不是中國目前已設立的自治區？ (A) 新疆維吾爾自治區 (B) 貴州苗族自治區 (C) 寧夏回族自治區 (D) 西藏自治區。
44. () 蘭州最冷月月均溫為 -6.1°C ，最暖月月均溫為 22.1°C ，年降水量為 316 mm。請問：從這些資料可知蘭州是屬於哪一種氣候類型？ (A) 溫帶季風氣候 (B) 溫帶草原氣候 (C) 溫帶沙漠氣候 (D) 高地氣候。
45. () 右圖為中國五大地形面積比例圖。圖中甲、乙所占面積比例最大，分別是指哪兩種地形？ (A) 山地、高原 (B) 平原、高原 (C) 山地、盆地 (D) 平原、盆地。



46. () 下列為氣壓風向示意圖，H、L 各代表高、低氣壓，箭頭代表風向。下列何者是代表正確的「冬季」氣壓風向圖？



47. () 右圖是中國東半部季風氣候分區示意圖。請問：圖中甲代表哪一種氣候類型？ (A) 寒帶 (B) 溫帶 (C) 熱帶 (D) 副熱帶。



48. () 中國曾流傳一個政策的口號：「少生孩子多種樹，少養孩子多養豬。」這個口號主要的目標是在宣導下列哪一項性質的政策？ (A) 加強學前教育 (B) 推動綠化保育 (C) 控制人口成長 (D) 推廣農牧發展。

49. () 洞庭湖原為中國第一大淡水湖，但自一九五〇年代後，湖水面積日益縮減，其主要因素為何？ (A) 氣候變遷 (B) 地勢抬升 (C) 農民圍湖造田 (D) 黃河河流改道。

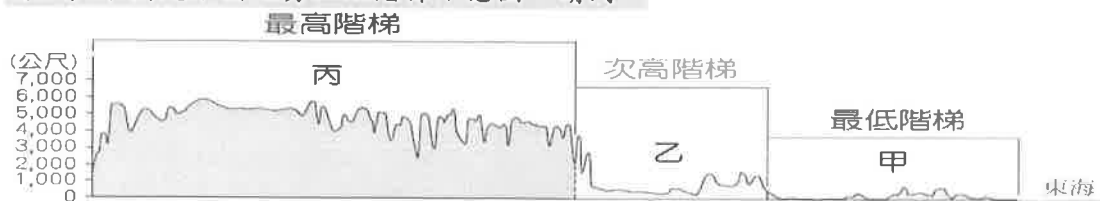
50. () 右圖是小嫻在網路上搜尋到有關中國飲食文化的資料，依據圖中的資料判斷，此一飲食文化差異大致下列哪一條連線為界？ (A) 南嶺、珠江 (B) 秦嶺、淮河 (C) 陰山、黃河 (D) 天山、海河。



【第 5 頁結束—背面尚有試題】

二、題組：（十題，每題1分，共10分）

（一）下圖是中國地勢三級階梯示意圖。請問：



- () 51. 「丙」最有可能是何種地形？ (A)高原 (B)盆地 (C)平原 (D)丘陵。
() 52. 「甲」往右方會和哪一個大洋相接？
(A)太平洋 (B)大西洋 (C)印度洋 (D)北極海。
() 53. 此圖為哪一種地圖？ (A)地形剖面圖 (B)衛星影像 (C)等高線地形圖
(D)立體透視圖。

（二）右圖是中國牧業分區圖。請問：

- () 54. 內蒙古高原東部以放牧為主，西側則以逐水草而居較多，造成兩地畜牧方式有所差別的原因為何？(A)氣溫 (B)地形 (C)雨量 (D)土壤。
() 55. 內蒙古西側以水平移動的方式轉換牧場，青藏高原以垂直移動的方式轉換牧場，造成兩地間牲畜不同移動方式的主要原因為何？ (A)季風 (B)地形 (C)緯度 (D)距海遠近。



（三）中國是多元民族的國家，除了人口最多的漢族外，有多達54個少數民族，每個民族都有其獨特的文化傳統。請問：

- () 56. 青藏鐵路通車後，下列哪一個民族最可能面臨外來文化的衝擊？
(A)壯族 (B)回族 (C)藏族 (D)維吾爾族。
() 57. 下列哪一個民族以游牧為傳統維生方式，人民善於騎射，馳騁於草原及沙漠中？
(A)蒙古族 (B)壯族 (C)回族 (D)苗族。

（四）受到氣候與地形的影響，中國各牧區飼養的主要牲畜也有所不同。請問：

- () 58. 「本牧區所在地區原為板塊擠壓形成，地勢陡峻，是世界最高的高原。」文中牧區最常見的牲畜最可能為何？ (A)馬 (B)牛 (C)駱駝 (D)犛牛。
() 59. 「本牧區位於中國面積最大的盆地內，駱駝能適應本區環境，是主要牲畜之一。」該牧區最可能為下列何者？
(A)新疆牧區 (B)西藏牧區北側 (C)西藏牧區南側 (D)內蒙古牧區東側。
() 60. 中國大部分地區夏季氣溫均高於20°C，但是西藏自治區的首府拉薩，夏季時平均氣溫卻只有15°C。請問：這個現象和下列哪一個氣候因素最為相關？
(A)緯度高低 (B)距海遠近 (C)地勢高低 (D)迎風背風。

【試題結束—文光8年級 社會科】