

澎湖縣立文光國民中學一一一學年度第一學期第二次段考國文科試題【題目卷】

八年 班 座號： 姓名：

讀卡 答案卷

一、國字注音：15%（共 15 字，每字一分）【請將答案寫在答案卷中，否則不予計分】

★請將下列各題「」中的國字寫上注音，注音寫上國字。

1. 雕「ㄉㄨ」又「ㄨ」 2. 僱「ㄍㄨ」 3. 「ㄇ」一「ㄌ」想 4. 遮「ㄗ」一「ㄨ」 5. 「ㄨ」一「ㄗ」柴
6. 匍「ㄇ」又「ㄨ」 7. 肆「ㄛ」口「ㄗ」 8. 氣勢萬「ㄩ」口「ㄨ」 9. 「興」味 10. 「諡」號
11. 「拾」級而上 12. 「黔」婁 13. 陶「潛」 14. 震「懾」 15. 閒「散」

二、解釋：15%（1~6 題每題二分，7~9 題每題一分）【請將答案寫在答案卷中，否則不予計分】

1. 震懾 2. 咫尺 3. 晏如 4. 裊裊 5. 大樹「參天」 6. 環堵蕭然
7. 攬 8. 「極」其言 9. 正襟「危」坐

三、成語配合題：10%（共 10 題，每題一分）【請將答案寫在答案卷中，否則不予計分】

★請利用下表中的成語，選出與各題意義最相同或相近的成語，並依題號填入正確代號。

1. 涇渭分明 / 【 】 2. 馬耳東風 / 【 】 3. 獨占鰲頭 / 【 】 4. 伯仲之間 / 【 】
5. 擲地有聲 / 【 】 6. 風馳電掣 / 【 】 7. 明日黃花 / 【 】 8. 力有未逮 / 【 】
9. 剛正不阿 / 【 】 10. 姹紫嫣紅 / 【 】

甲. 不分軒輊 乙. 花團錦簇 丙. 一字千金 丁. 一日千里 戊. 一清二楚
己. 力不從心 庚. 無偏無黨 辛. 無動於衷 壬. 無出其右 癸. 時過境遷

四、選擇題：50%（共 25 題，每題二分）【請將答案寫在答案卷中，否則不予計分】

- () 1. 有關田園之秋選，下列敘述何者錯誤？
(A) 本文用「黑怪、惡魔、妖巫」來比喻「閃電霹靂」，目的在營造詭譎恐怖的氣氛
(B) 「只覺好像天上的水壩在洩洪似的，是整個倒下來的」是以譬喻修辭強調雨勢之急、之大
(C) 本文將西北雨比喻成一齣戲劇，其演出順序為：烏雲密布→霹靂環起→大雨滂沱→雨過天晴
(D) 從文中可見作者對大自然抱著謙卑與敬畏之心，也流露出對自然的讚嘆與賞愛。
- () 2. 「遇到這樣驚人的大西北雨，誰也不能逞英雄，因為天地間，除了它是英雄外，不准有第二個英雄。」這段話最重要的主旨為何？
(A) 描述西北雨來得又快又急 (B) 相對於大自然，人類是渺小的
(C) 勇猛的人常「英雄惜英雄」 (D) 大西北雨是世界上唯一的主宰。
- () 3. 關於田園之秋選一文所使用的修辭，請問下列分析和者錯誤？
(A) 只覺滿天無數黑怪，張牙舞爪，盡向地面攬來——借代兼轉化
(B) 接著便是閃電纏身，霹靂壓頂——誇飾兼對偶
(C) 牛群在原野上狂奔，羊群在哀哀慘叫，樹木在盡力縮矮——排比兼轉化
(D) 太陽又探出了雲端，樹葉上、草上閃爍著無邊亮晶晶的水珠——轉化兼摹寫。
- () 4. 田園之秋選文末，作者以彷彿聽見貝多芬 田園交響曲描寫雨過天青的景色，透過「聽覺印象來表達視覺印象」的寫作手法，請問下列何者也有異曲同工之妙？
(A) 昨夜的月色，至少有一半是甜的
(B) 秦淮河的水卻盡是這樣冷冷的綠著
(C) 塘上的月色並不均勻，但光與影有和諧的旋律
(D) 微風過處送來縷縷清香，彷彿遠處上高樓的歌聲。

【第一頁結束，背面尚有試題】

- () 5. 田園之秋選中，作者認為**大自然有時很像戲劇**，理由為何？
 (A) 西北雨的情景，如恐怖片般令人膽破魂奪 (B) 西北雨浩大聲勢，需要稱職的配角來襯托
 (C) 西北雨的奇特景致，總吸引人們駐足觀賞 (D) 西北雨變化多端，情勢發展令人應接不暇。
- () 6. 中國古代器具繁多，用途各異。下列成語「 」中的**器具名**，何者正確？
 (A) 觥「 」交錯：觴 (B) 流「 」曲水：筓
 (C) 腹「 」甚廣：籌 (D) 移「 」就教：樽。
- () 7. 下列選項，何者最能描述五柳先生**安於貧窮，不慕榮利**的個性？
 (A) 好讀書，不求甚解 (B) 造飲輒盡，期在必醉
 (C) 短褐穿結，簞瓢屢空——晏如也 (D) 無懷氏之民歟！葛天氏之民歟。
- () 8. 對於五柳先生傳的**文意理解**，下列敘述何者正確？
 (A) 「無懷氏之民歟！葛天氏之民歟！」的無懷氏和葛天氏是上古時代品格高潔的隱士
 (B) 「忘懷得失，以此自終」一句說明了五柳先生真實姓名不為人知的原因
 (C) 「不戚戚於貧賤，不汲汲於富貴」意指五柳先生能忘懷得失，淡泊名利
 (D) 「造飲輒盡，期在必醉；既醉而退，曾不吝情去留」表現出五柳先生傲慢無禮的性情。
- () 9. 下列哪一個「其」字，並**不是**指「五柳先生」？
 (A) 先生不知何許人也，亦不詳「其」姓字 (B) 極「其」言，茲若人之儔乎
 (C) 酣觴賦詩，以樂「其」志 (D) 親舊知「其」如此，或置酒而招之。
- () 10. 陶淵明自述在親舊家醉酒之後，「曾不吝情去留」，其中「去留」只有取「去」的意思，這樣的詞語稱作「**偏義複詞**」。下列各句，何者**並非**這種用法？
 (A) 生子不生男，「緩急」無所益 (B) 天都「早晚」了，你還四處遊蕩
 (C) 踏入古蹟感受歷史的倏忽和「往昔」的煙霧 (D) 這兩國歷史的「恩怨」植根已深。
- () 11. 蕭統在陶淵明集序中說：「有疑陶淵明詩篇篇有酒，吾觀其意不在酒，亦寄酒為跡者也。」根據蕭統的看法，陶淵明的詩作中多出現「酒」的原因是什麼？
 (A) 藉酒壯膽，言人所不敢言 (B) 愛喝酒，所以以酒為主題
 (C) 透過酒可寄託自己的心意 (D) 透過酒可催化寫作的靈感。
- () 12. 「千萬條陌頭細柳，條條不忘根本，常常俯首顧著下面，時時藉了春風之力，向處在泥土中的根本拜舞，或者和它親吻。」上文是**讚美楊柳的何種特質**？
 (A) 飲水思源 (B) 謙恭有禮 (C) 堅忍不拔 (D) 俯仰無愧。
- () 13. 「圖書館本來是『書』最大，但北投分館卻讓所有的自然也成了『書』。」這句話中運用引號有「**特別強調**」的意思，下列何者使用的**引號有相同的作用**？
 (A) 向自然借景，大片落地窗引進自然光，原來這就是「綠建築」
 (B) 我聯想到了唐代 賈島的詩句：「只在此山中，雲深不知處。」
 (C) 孔子說：「學而時習之，不亦說乎？」
 (D) 說他「特別」，因為他愛吃到了瘋狂的境界。
- () 14. 「一間會呼吸的圖書館，有著會讀書的椅子。」這句話中的「**會呼吸**」，點出該圖書館的何種特色？
 (A) 圖書館屋頂有煙囪 (B) 位處北投四周雲霧繚繞
 (C) 室內有乾冰噴霧機 (D) 該圖書館是一座綠建築。
- () 15. 「隨著椅子的空間感，我感覺身體和書有了不同的距離，坐看立看臥看閒散看……，人和書很近也很遠。」根據這段文字，下列**敘述**何者正確？
 (A) 讀書的姿態會隨不同的椅子而變換 (B) 坐在不同椅子上都能擺出相同的姿勢
 (C) 每張座椅都很大，故能變換姿勢 (D) 坐在同一張椅子上讀書，必須不斷變換姿勢。
- () 16. 「我總是在椅子與椅子間轉換我的靈魂，以攝取不同的知識。坐上不同的椅子，身體即有迥異的姿勢，而從姿態大約可嗅出我是在讀什麼樣的書了。」下列何者符合這段文字的**敘述**？
 (A) 坐不同的椅子時不太會變換姿勢 (B) 讀不同的書、坐不同的椅子時，會有不同的閱讀姿態
 (C) 閱讀不同類型的書，就像坐在不同的椅子上 (D) 必須選對椅子，才能靜下心來讀書。
- () 17. 「北投分館就像是三位一體的圖書館：具有『女巫、樹屋與靈屋』之綜合體。」關於這段文字，下列**敘述**何者正確？
 (A) 寫出北投圖書館兼融自然與人文的特色 (B) 北投圖書館是由三位名人共同創辦
 (C) 北投圖書館建築以「樹屋」為設計理念 (D) 志工會扮成女巫，念故事書給小朋友聽。

- () 18. 下列各選項「 」中的部分，何者不是該句的主語？
 (A)「刨冰」也是相當普遍的冰品 (B)「我們」還有做成功的時候嗎
 (C)「電光」只在遙遠的天邊橫掃 (D)「死亡」的陰影吞沒無助的鄉人。
- () 19. 關於句型的判斷，下列何者正確？
 (A)我走了——表態句 (B)生命是什麼呢——有無句
 (C)朋友買了一件衣料——敘事句 (D)球技精湛——判斷句。
- () 20. 表態句是用來描寫人事物的性質或狀態的句子，句型為「主語」+「表語」。下列何者不是表態句？
 (A)十個男人七個傻 (B)這不是肯德基
 (C)認真的女人最美麗 (D)回家的感覺真好。
- () 21. 「平安就是福」是「主語+繫詞+斷語」的判斷句句型，下列何者與之相同？
 (A)實事求是 (B)馬首是瞻 (C)空即是色 (D)各行其是。
- () 22. 關於華、王優劣一文的說明，下列敘述何者錯誤？
 (A)華歆怕人太多而易沉船，故斷然拒絕求助的人 (B)王朗為善不終，華歆思慮周密
 (C)華歆、王朗處理事情時，採取不同的態度及方式 (D)文中以對比的手法描寫人物性格。
- () 23. 有關王藍田忿食雞子一文，下列敘述何者正確？
 (A)王藍田一開始沒咬到雞蛋，雞蛋掉到地上，再用筷子刺
 (B)王藍田先後使用筷子、木屐、嘴來對付雞蛋
 (C)藉靜止不動的雞蛋來反襯王藍田的動
 (D)歷經千辛萬苦，王藍田最後終於吃到雞蛋。
- () 24. 有關華、王優劣及王藍田忿食雞子二則筆記小說的比較，下列說明何者正確？
 (A)兩則皆描寫人物的外貌，凸顯人物氣度 (B)兩則最後都有直接評論
 (C)兩則都以對話凸顯題旨 (D)兩則文字雖簡潔，卻又能充分表現人物形象。
- () 25. 「王右軍聞而大笑曰：『使安期有此性，猶當無一豪可論，況藍田邪？』」關於這段文字，下列敘述何者正確？
 (A)王藍田的性急是遺傳自父親 (B)王藍田的父親雖性急，卻還是很有名望
 (C)王藍田已不如父親，又性急，就更不如了 (D)如果王藍田不性急，就會比父親有名望。

五、題組：10% (共 10 題，每題一分)【答案請寫在答案卷中，否則不予計分】

抓魚要下水，伐木要入林。

- () 1. 「抓魚要下水，伐木要入林」此句諺語強調成功需要具備下列哪一條件？
 (A)理想 (B)技巧 (C)實踐 (D)工具。
- () 2. (甲)事不經不懂，路不走不平(乙)車到山前必有路，船到橋頭自然直(丙)水落見石頭，日久見人心
 (丁)千學不如一看，千看不如一練。以上哪些敘述和此句諺語意義相近？
 (A)甲乙 (B)乙丙 (C)乙丁 (D)甲丁。

萬蟬集 (節選)

孟祥森

萬蟬寺的萬蟬溪，夏日未到，便迫不及待的傳遍了蟬聲。

來吧！讓我們去，千岸壁立，立霧溪的水何其清淺。蟬的聲音浸透你的肌膚，浸透你的內在，像波一樣，讓你悠遊其中。

這滿山滿谷的蟬聲，將谷頂的藍天幻化成一條蟬河，使你像小魚一樣醒在其中，睡在其中，沉緬在其中。使你覺得整個腑臟裡都浸透了蟬嘶，跟隨你肌膚之內的千溪萬溪潺潺流動。

- () 3. 「這滿山滿谷的蟬聲，將谷頂的藍天幻化成一條蟬河。」是形容蟬聲的什麼特色？
 (A)蕩漾河面 (B)翳入天聽 (C)變幻無窮 (D)沉寂消散。

【第三頁結束，背面尚有試題】

- () 4. 本文所描述蟬聲給人的感受為何？
 (A) 吵雜不堪 (B) 淒絕萬千 (C) 沁人心脾 (D) 愁腸百結。
- () 5. 「蟬的聲音浸透你的肌膚，浸透你的內在，像波一樣，讓你悠遊其中。」依此段而言，並未運用何種修辭法？
 (A) 摹寫 (B) 誇飾 (C) 類疊 (D) 借代。

東坡志林 蘇軾

南史：劉凝之，為人認所著履，即與之。此人得所失履，送還，不肯復取。又沈麟士亦為鄰人認所著履，麟士笑曰：「是卿履耶？」即與之。鄰人得所失履，送還，麟士曰：「非卿履耶？」笑而受之。此雖小事，然處世當如麟士，不當如凝之也。

- () 6. 「為人認所著履」是指劉凝之發生了什麼事？
 (A) 認錯了別人的鞋子 (B) 被認為是個劍及履及的人
 (C) 被認為應該履行諾言 (D) 所穿的鞋子被誤認是別人的。
- () 7. 文中沈麟士抱持著什麼樣的態度面對整件事情？
 (A) 粗心大意 (B) 斤斤計較 (C) 瀟灑豁達 (D) 虛與委蛇。
- () 8. 下列何者不適合作為本文篇名？
 (A) 因小見大 (B) 失而復得 (C) 見微知著 (D) 有容乃大。

責子詩

陶淵明

白髮被兩鬢， 肌膚不復實。
 雖有五男兒， 總不好紙筆。
阿舒已二八， 懶惰故無匹。
阿宣行志學， 而不愛文術；
雍、端年十三， 不識六與七。
通子垂九齡， 但覓梨與栗。
 天運苟如此， 且進杯中物。

- () 9. 下列關於本詩的敘述何者正確？
 (A) 作者對五個孩子表現出「恨鐵不成鋼」的心理
 (B) 長子阿舒二十八歲，次子阿宣十五歲，都懶惰不愛讀書
 (C) 雍、端都已十三歲了，數字概念很好
 (D) 輕鬆筆調中帶出兒子們栩栩如生的形象。
- () 10. 「天運苟如此，且進杯中物。」可見作者的人生觀如何？
 (A) 消極無奈，怨天尤人 (B) 樂天知命，順其自然
 (C) 積極進取，永不放棄 (D) 舉棋不定，優柔寡斷。





【試題結束，請再檢查答案是否完整、正確！】

澎湖縣立文光國中 111 學年度第一學期第二次定期評量八年級英語科試題

Class : Number : Name :

一、聽力測驗：10%

(一) 辨識句意-根據聽到的內容，選出正確的圖片代碼：4% (每題 1 分)



(二) 言談理解-根據聽到的對話內容與問題，選出正確的答案：6% (每題 2 分)

- () 5. (A) Mike spent eight hours working every day.
 (B) Mike went on a working holiday in a restaurant.
 (C) Mike worked on the farm for a month.
- () 6. (A) At a beach.
 (B) At a museum.
 (C) At a restaurant.
- () 7. (A) The man cried at the end of the movie.
 (B) The woman watched the movie last night.
 (C) The woman had to prepare for the math test during the movie.

二、文意字彙：16% (每題 2 分)

- _____ 1. You should read this book from b_____g to end.
- _____ 2. Your math homework is too d_____t for me. I can't help you.
- _____ 3. I met four s_____n on my way home. They tried to sell products (產品) to me.
- _____ 4. The e_____e of fixing (修理) cars helps me get jobs more easily than (比) others.
- _____ 5. The b_____ies were caterpillars (毛毛蟲) before.
- _____ 6. A : Can you move the mountain? B : No. It's not p_____e.
- _____ 7. In China, people call s_____es "small dragons (龍)" because they both (都) have long bodies (身體).
- _____ 8. The students in my class are p_____ring for the English singing contest (比賽).

三、填充題：依提示填入正確的介系詞(答案只限一個字)10% (每題 1 分)

1. Paul passed by the park _____ his way to school yesterday.
2. Jenny arrived _____ Linda's home at 5:30 p.m.
3. I'm looking _____ my cellphone. Do you know where it is?
4. Don't give _____ before you try. Work harder.
5. Cathy works _____ a volunteer(志工) in the hospital.
6. Ken spent sixty dollars _____ the milk tea.
7. On wet days, the road to school is always full _____ mud.
8. _____ the end of the movie, everyone was touched and cried.
9. Mr. Chang went _____ a holiday to Japan last week.
10. What kind _____ bag do you want?

四、文法測驗：20% (每題 2 分)

- () 1. A: Remember _____ off the light when you leave the living room. You forgot _____ it off last night.
B: OK, I will.
(A) to turn; to turn (B) turning; turning (C) to turn; turning (D) turning; to turn
- () 2. The Eternals (永恆族) came to the earth 5000 years ago and kept _____ people.
(A) to help (B) helps (C) helped (D) helping
- () 3. I drank a cup of hot milk _____ I went to bed.
(A) after (B) without (C) before (D) because
- () 4. When Anson _____ me in the coffee shop, I was eating breakfast.
(A) sees (B) saw (B) is seeing (D) was seeing
- () 5. Jack is a homebody (宅男). He really enjoys _____ hours _____ the online game, Arena of Valor(傳說對決), at home every day.
(A) spends; plays (B) to spend; to play
(C) to spend; playing (D) spending; playing
- () 6. A: Who _____ to Mrs. Huang at that time? B: I don't know. I wasn't there.
(A) talks (B) is talking (C) was talking (D) talking
- () 7. Bella was watching TV then, but her children _____.
(A) was (B) were (C) wasn't (D) weren't
- () 8. Choose the **RIGHT** sentence.
(A) The children laughed when they were hearing the joke(笑話).
(B) Sometimes Billy played music on the CD player when he read at home.
(C) I could finally win the trophy(獎品) because your help.
(D) After Sally finished to do the dishes, she watched TV with her family.
- () 9. James jogged in the park after he fed his dog. = _____
(A) Before James jogged in the park, he fed his dog.
(B) James fed his dog after he jogged in the park.
(C) After James jogged in the park, he fed his dog.
(D) James fed his cat in the park before he jogged.

() 10. Mom: Your English is not so good. You should go to a cram school(補習班).

Son: _____, please! I just want to study by myself(自己).

(A) You bet (B) Give me a break (C) Let's get the ball rolling (D) You're a smart cookie

五、克漏字測驗：8% (每題 2 分)

Doris: Do you like to eat crabs?

Kelly: I love it __ (1) __. Fall is the best season to eat them.

Doris: My mother and I went __ (2) __ at Joe's Supermarket on Sunday. We bought some crabs from Japan there. They were really fresh.

Kelly: How much is it?

Doris: One for NT\$899.

Kelly: I once bought a crab in Joe's Supermarket, but it tasted terrible.

Doris: How come?

Kelly: It was from Chili. And it wasn't fresh. It tasted stale.

Doris: __ (3) __ can they sell stale food to the customers in the supermarket?

Kelly: Cheating isn't a good thing. They need to stop __ (4) __ stale food.

Doris: You're right. So did you return the crabs to the supermarket?

Kelly: No, I didn't. Kuro found it delicious.

Doris: Who's Kuro?

Kelly: He's my pet dog.

📖 crab 蟹 boil 煮 fresh 新鮮的 taste 品嚐 Chili 智利 stale 不新鮮的 sell 賣
customer 顧客 cheat 欺騙 return 歸還

() 1. (A) a lot of (B) a lot (C) lots of (D) lots

() 2. (A) to shop (B) shop (C) shopping (D) shops

() 3. (A) How (B) Where (C) Why (D) What

() 4. (A) sell (B) sold (C) to sell (D) selling

六、閱讀測驗：16% (每題 2 分)

A.

Many people learn English in Philippines now. There are many English learning institutes in Philippines. People from around the world go and learn English there, including Japanese, Koreans, and many others. The learners can select programs based on their needs. Learners to improve their English skills a lot can choose a program called "The Spartan Program". Learners taking part in this program need to have tests every day, and there is also self-study time for them at night. The English institutes not only teach English, but they also offer learners a room, a restaurant, and entertaining activities. Learners can relax themselves by joining tours on weekends. The tours take people to famous tourist spots in Philippines. They give learners a chance to meet foreign friends. Learners can practice speaking English with others and enjoy the beauty of Philippines at the same time. If you hope to learn English in an English speaking country, Philippines is a great choice.

📖 institute 學院 including 包含 select 選擇 programs 方案 based on 根據
improve 增進 skills 技巧 offer 提供 entertaining activities 娛樂活動 relax 放鬆

- () 1. What is the article (文章) mainly about?
- (A) Great activities in your free time.
 (B) English institutes in Philippines.
 (C) Spartan history.
 (D) Tours in Philippines.
- () 2. Who may choose The Spartan Program?
- (A) Mary. She wants to be a Spartan.
 (B) Sam. He wants to take a five-day trip in Philippines.
 (C) Kathy. She wants to improve her English.
 (D) Jason. He wants to go out with other people in Philippines.
- () 3. According to (根據) the article, how can the learners improve their English outside the class in Philippines?
- (A) Stay at the bedroom and sleep.
 (B) Talk with the learners from other countries.
 (C) Shop in a supermarket.
 (D) Travel in Philippines for a week.

B.

Coco's Shop

<i>Fresh Milk Tea</i>	M	L	<i>Pure Tea</i>	M	L
Black Tea Latte	50	60	Alishan Oolong Tea	30	40
Oolong Tea Latte	55	65	Earl Grey Tea	40	50
Peach Tea Latte	55	65	Orchid Green Tea	50	60
<i>Fruit Tea</i>	M	L	<i>Toppings</i>		
Ice Lemon Tea	40	50	Boba	+10	
Lychee Black Tea	45	55	Grass Jelly	+10	
Winter Melon Tea	35	45	Pudding	+15	
<i>Seasonal</i>	M	L			
Mango Pomelo Sago	40	50	*Closed on Mondays		
Smoked Plum Tea	45	55	*Free Toppings for		
Taro Coconut Milk	35	45	Birthday boy/ girl		



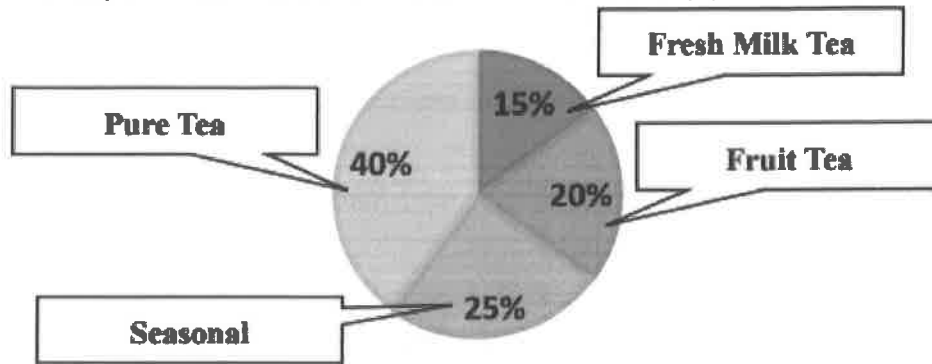
📖 topping 配料

- () 4. Today is Petty's birthday. She goes to the Coco's Shop with Nick. Petty orders a large Black Tea Latte with Grass Jelly and Nick orders a large Alishan Oolong Tea with Boba. How much will they spend?
- (A) 120 (B) 115 (C) 110 (D) 105
- () 5. Which statement (敘述) is not true? 📖 more expensive than 比較貴的
- (A) People can go to the Coco's shop on Saturdays.
 (B) A large Lychee Black Tea is more expensive than a large Earl Grey Tea.
 (C) If Helen orders a medium Peach Tea Latte and a large Smoked Plum Tea, she has to pay NT\$110.
 (D) People can buy Black Tea Soy Milk in Coco's Shop.

() 6. This is the pie chart of 300 customers' favorite types of drinks.

 pie chart 圓餅圖 customer 顧客

How many customers like Fresh Milk Tea the best? 15 (B) 25 (C) 35 (D) 45



C.

Frank: Hey, John. What are you reading there?

John: I'm reading a picture book. I borrowed it from Jerry.

Frank: It looks interesting. Where did he get the book?

John: He said he bought it at the book fair.

Frank: Book fair? Was there a book fair, or is there a book fair?

John: Yes. It is held at the cultural center right now. It started last Saturday and they went there on the first day.

Frank: Did you go there, too?

John: No, but Jerry, Maria, Andy, and Michael did.


Frank: How come you and I didn't know?

John: Well, they discussed it at the library last Friday afternoon. You and I were not there. And they all bought some books at the fair. Some were only half-price.

Frank: Maybe we can go there after school today. Do you know how late it is open?

John: Until eight. And the fair ends on the coming Saturday. Let's ask Jenny to go there with us.

Frank: Fine with me. I'll wait for you both at the bus stop.

 book fair 書展 cultural center 文化中心 be held 舉辦, 舉行 discuss 討論

() 7. Why **DIDN'T** Frank and John visit the book fair with the others last Saturday?

- (A) The others didn't want them to go.
- (B) They were busy at the library.
- (C) They didn't know about the plan then.
- (D) They didn't want to go.

() 8. According to (根據) the dialogue, how many students may go to the book fair today after school?

- (A) Only one. (B) Three. (C) Four. (D) Five.

七、依提示完成句子：20%（每題 2 分）

1. Ruby was cooking in the kitchen when her brother opened the door.

(把 when 置於句首，並將字詞做適當變化)

2. We plan for the trip/ before/ we go to Canada/ last summer (完成句子)

3. { Colby's mom asks Colby. (合併句子)
{ Colby practices playing the violin(小提琴).

4. 幾個禮拜之後，我開始在週末旅行。(中翻英)

5. 我去澳洲前就在英語課程上花了一萬元。(中翻英)

6. 不要在這深河旁邊玩，否則你可能會落入河裡，並且死掉。(中翻英)

7. I cannot wait to go on another working holiday! (英翻中)

8. What are you up to these days? (英翻中)

9. What did you do before you had dinner last night? (依實際情況回答)

10. If you had a chance to take a working holiday, where would you want to go? Why?
(依實際情況回答)

【試題結束~文光國中八年級英文】

澎湖縣立文光國中 111 學年度第一學期第二次定期評量八年級英語科試題答案卷

Class : Number : Name :

一、聽力測驗：10%（每題 2 分）

(一) 辨識句意-根據聽到的內容，選出正確的圖片代碼：4%（每題 1 分）

1.	2.	3.	4.
----	----	----	----

(二) 言談理解-根據聽到的對話內容與問題，選出正確的答案：6%（每題 2 分）

5.	6.	7.
----	----	----

二、文意字彙：16%（每題 2 分）

1.	2.	3.	4.
5.	6.	7.	8.

三、填充題：10%（每題 1 分）

1.	2.	3.	4.	5.
6.	7.	8.	9.	10.

四、文法測驗：20%（每題 2 分）

1.	2.	3.	4.	5.
6.	7.	8.	9.	10.

五、克漏字測驗：8%（每題 2 分）

1.	2.	3.	4.
----	----	----	----

六、閱讀測驗：16%（每題 2 分）

1.	2.	3.	4.	5.	6.	7.	8.
----	----	----	----	----	----	----	----

七、依提示完成句子：20%（每題 2 分）

1.
2.
3.
4.
5.
6.
7.
8.
9.
10.

班級：

姓名：

座號：

讀卡

答案卷

一、單一選擇題(每題4分，共28分)

1. 已知 $4x^2 - ax + 81$ 可因式分解成 $(2x - b)^2$ 的型式，且若 a 為正整數，則 $a + b = ?$

- (A) 45 (B) 36 (C) 27 (D) 9

2. 試問下列因式分解何者正確？

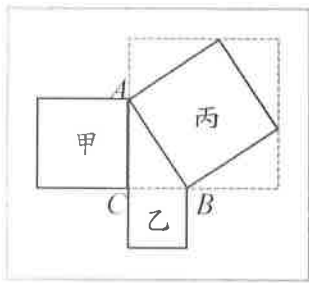
(A) $x^2 - 81 = (x + 81)(x - 81)$ (B) $\sqrt{(-2)^2} = -2$

(C) $4x^2 - 25 = (4x + 5)(4x - 5)$ (D) $x^2 + 20x + 100 = (x + 10)^2$

3. 下列何者不是多項式 $(x - 1)(x + 1)$ 的因式？ (A) $x + 1$ (B) x (C) $2(x - 1)$ (D) $-x + 1$

4. $\triangle ABC$ 是直角 \triangle ，以各邊作正方形面積分別是甲，乙，丙 下列敘述何者正確？

(A) 甲 + 乙 = 丙 (B) $\overline{AC} + \overline{BC} = \overline{AB}$ (C) $\overline{AB}^2 + \overline{AC}^2 = \overline{BC}^2$ (D) 甲² + 乙² = 丙²



5. 下列哪一個根式化簡後，與 $\sqrt{3}$ 為同類方根？ (A) $\sqrt{24}$ (B) $\sqrt{48}$ (C) $\sqrt{18}$ (D) $\sqrt{9}$

6. 在三角形 ABC 中，已知 $\overline{BC}^2 = \overline{AB}^2 + \overline{AC}^2$ ，則哪一個角為直角？

- (A) $\angle A$ (B) $\angle B$ (C) $\angle C$ (D) 無法判斷

7. 下列哪一組不是直角三角形的三邊長？

- (A) 7、24、25 (B) 1、2、 $\sqrt{5}$ (C) $\sqrt{5}$ 、 $\sqrt{12}$ 、 $\sqrt{13}$ (D) 4、 $\sqrt{21}$ 、 $\sqrt{37}$

二、填充題(依答對題數照評分表給分，最簡根式才給分)

1. 將下列各式化為最簡根式：

(1) $\sqrt{\frac{7}{12}} = \underline{\hspace{2cm}}$ 。 (2) $\sqrt{240} = \underline{\hspace{2cm}}$ 。 (3) $\frac{3}{5 - \sqrt{5}} = \underline{\hspace{2cm}}$ 。

2. 一個直角三角形的兩股分別為 5、12，則斜邊上的高為 $\underline{\hspace{2cm}}$ 。

3. 若 $P(-3, 11)$ 、 $Q(2, 1)$ 為坐標平面上的兩點，則兩點之距 $\overline{PQ} = \underline{\hspace{2cm}}$ 。

4. $\sqrt{108} + 2\sqrt{12} - 2\sqrt{45} = \underline{\hspace{2cm}}$ 。

5. $(3\sqrt{3} + \sqrt{2})(\sqrt{6} - 2) = \underline{\hspace{2cm}}$ 。

6. $(-\sqrt{4\frac{4}{5}}) \div (-\sqrt{\frac{3}{5}}) + \frac{1}{\sqrt{2}} =$ _____。

7. 有一長方形，長為5，寬為7，則其對角線為_____。

8. 因式分解下列各題：

(1) $(x-1)(x-2) + (x+3)(x-1) =$ _____。

(2) $(2x-3)(3x+4) + (3-2x)(x+2) =$ _____。

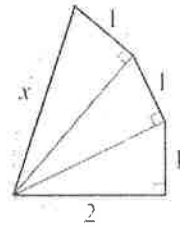
(3) $(x-2)^2 - 9 =$ _____。

(4) $x^2 + 12x - 45 =$ _____。

(5) $(x+1)(x-4) + 6 =$ _____。

(6) $(2x-5)^2 - 7(2x-5) - 30 =$ _____。

(7) $1 - y^2 + (7x-5)^2 + 2(5-7x) =$ _____。

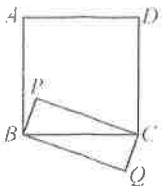


9. 如右圖，則 $x =$ _____。

10. 若 $6x^2 + 7x - 5$ 與 $4x^2 - 16x + 7$ 的公因式為 $2x + a$ ，則 $a =$ _____。

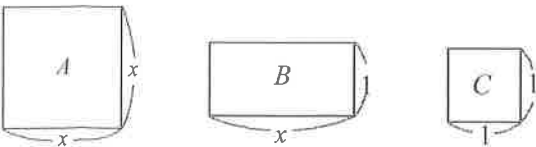
11. 若 x 、 y 皆為整數，且 $x^2 + 14x + 9y^2 + 6y + 50 = 0$ ，則 $x + 3y =$ _____。

12. 如下圖長方形 $BQCP$ 周長為 38， $\triangle BPC$ 面積為 39，則正方形 $ABCD$ 面積為_____。



三、計算應用題(每題4分，共8分。)

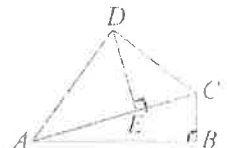
1. 有 A 、 B 、 C 三種不同類型的組合型地毯，如下圖所示：



(1) A 有2塊， B 有11塊， C 有12塊。試問：在不重疊的情況下，緊密組合成一個大的長方形地毯。此大長方形地毯的兩鄰邊分別為何？(以 x 表示，2分)

(2) A 有1塊， B 有8塊， C 有24塊。試問：最少補上幾塊 B 型地毯，可以緊密的組合成一個大的長方形地毯？(2分)

2. 如右圖， $\overline{AB} = 12$ ， $\overline{BC} = 5$ ， $\overline{AD} = 10$ ， $\overline{DE} = 6$ ，則 $\overline{CD} = ?$



【試題完畢】

澎湖縣立文光國民中學 111 學年度第 1 學期第 2 次成績評量 8 年級數學科答案卷

班級：

姓名：

座號：

讀卡

答案卷

一、單一選擇題(每題4分，共28題)

1	2	3	4	5	6	7

二、填充題：(共21題，佔64分，註記題號為難題請留意時間分配)

題數	1	2	3	4	5	6	7	8	9	10
分數	4	8	12	16	20	24	28	32	35	38
題數	11	12	13	14	15	16	17	18	19	20
分數	41	44	47	50	53	56	58	60	62	64

1 (1)	1 (2)	1 (3)	2	3
4	5	6	7	8(1)
8(2)	8(3)	8(4)	8(5)	8(6)
8(7)	9	10	11	12

三、計算應用題(每題4分，共8分。)

--	--

澎湖縣立文光國中 111 學年度第一學期第二次段考 自然科 考試卷

八年 ___ 班 座號：___ 姓名：_____ ■讀卡

答案請填在答案卡上

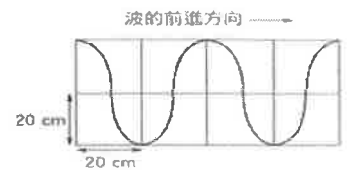
一、選擇 50 題 (每題 2 分, 共 100 分)

1-10 題為是非題, ○的話請選 A, X 的話請選 B

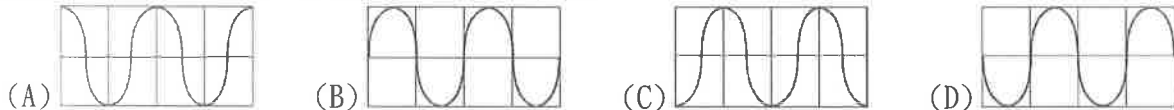
1. 彈簧只能產生疏密波, 不能產生高低波。
2. 聲波上的質點振動速率加快, 則振動頻率變大, 波速也變快。
3. 繩波每完整振動一次, 質點就會在原地振動 4 個振幅。
4. 在空間狹小的空間裡, 不會產生回聲。
5. 超聲波的波長比一般人耳可聽見的聲波更短。
6. 兩支頻率相同的音叉, 共振後音調會加倍。
7. 針孔成像時, 孔洞愈大, 成像越亮越清晰。
8. 凸面鏡可以用來做汽車後視鏡是因為會形成放大的像, 駕駛人可以看得更清楚。
9. 光線經過不同介質的交界面時, 一定會發生偏折。
10. 複式顯微鏡是由一片凸透鏡和一片凹透鏡構成倒立放大虛像。

11. 下列有關繩波的敘述, 哪一項不正確? (A)繩波是由於繩子受到振動而產生的
(B)繩波將振動由一端傳播至另一端 (C)綁在繩子上的絲帶會隨之朝另一端前進
(D)綁在繩子上的絲帶, 其振動方向與繩波傳播方向垂直。

*小雯在平靜的池塘, 以釣魚用的魚餌在水面上製造水波, 8 秒內產生水波的波形如右圖所示, 請回答 12~14 問題:



12. 此水波的振幅及波長分別為多少公分?
(A)20; 40 (B)20; 20 (C)40; 40 (D)40; 20。
13. 請推測再經過 3 秒後, 水波的波形為下列何者?



14. 此水波的波速為公尺/秒? (A)160 (B)10 (C)0.1 (D)0.01。

15. 下列何種現象可證明物體發出的聲音, 是由於物體振動而產生的?
(A)電鈴在玻璃罩內振動, 若將空氣逐漸抽出, 聲音會漸漸變弱
(B)敲擊鼓面發出聲音時, 鼓面上的米粒會隨著鼓面的振動而上下跳動
(C)聲音在水中的傳播速率比在空氣中還快
(D)聲音在空氣中的傳播速率與空氣溫度有關

16. 聲音在下列哪一種介質中傳播速率最快?
(A)20°C 的水 (B)20°C 的鋼鐵 (C)20°C 的空氣 (D)100°C 的鋼鐵。
17. 同學們認為音樂教室的回聲太大, 想請學校進行整修。下列建議何者可提供給學校參考?
(A)將教室四周牆壁處理平整且光滑 (B)將教室內的書櫃和擺設都清空
(C)將教室的天花板設計成對稱的形狀 (D)在教室的窗戶上裝設窗簾或絨布幔。

18. 沛沛帶狗狗散步時, 狗狗不小心跑到遠方, 於是使用犬笛發出哨音來呼喚狗狗回來, 但沛沛卻聽不見哨音。試根據附表數據, 判斷該哨音的頻率可能為多少赫?
(A)10 (B)1000 (C)30000 (D)300000。

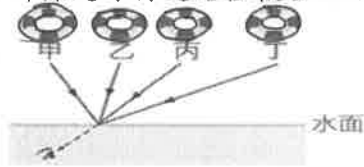
動物	聽覺頻率範圍
人	20~20000 Hz
狗	50~50000 Hz

19. 右圖中有一束光線與平面鏡鏡面夾角成 40 度, 射向平面鏡後發生反射, 則反射線與入射線之間的夾角為幾度?
(A)40 (B)80 (C)100 (D)120。




【第 1 頁結束 背面尚有試題】

20. 將不透明紙板中央刺三個小孔，置於蠟燭與紙屏之間，點燃蠟燭做針孔成像的實驗，則關於燭焰在紙屏上的成像變化，下列何者正確？
 (A) 只有一個像 (B) 變為三個像，且成像縮小許多。
 (C) 依然只有一個像，但成像變大許多 (D) 變為三個像。
21. 光入射到凹凸不平的水泥牆表面並發生反射時，其入射角和反射角的大小關係為何？
 (A) 入射角大於反射角 (B) 入射角等於反射角
 (C) 入射角小於反射角 (D) 視水泥牆表面的凹凸情況而定。
22. 沛沛在游泳池水面下看到岸上的救生圈，請推測右圖中哪條光線行進路徑較合理？



- (A) 甲 (B) 乙 (C) 丙 (D) 丁。
23. 阿康：光從任何角度通過凸透鏡一定會交會，那通過凹透鏡可能交會嗎？
小雯：要看光線射入鏡片的角度，凹透鏡也可能讓光線聚集在一點喔！
 請問下列各圖中，何者能佐證小雯的說法？



24. 下列哪一個選項和折射現象有關？
 (A) 由後照鏡看到後面的來車 (B) 站在池塘邊看到池塘裡自己的影像
 (C) 駕駛經由凸面鏡看到彎道處的對向來車 (D) 站在河邊看到河底的石頭。

* 小軒做凸透鏡的成像實驗，裝置如下圖所示，圖中O點為透鏡中心， F_1 、 F_2 為焦點，而A點與B點分別為透鏡兩側的2倍焦距處，並在透鏡A點左側豎立一支點燃的蠟燭，請回答25~27題：

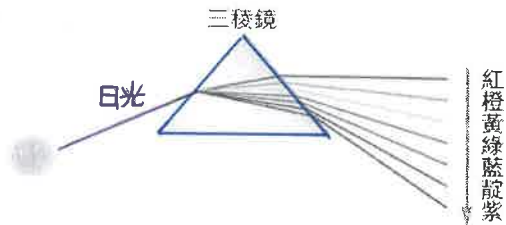


25. 當點燃的蠟燭豎立在A點左側時，燭焰所成的像，其性質為下列何者？
 (A) 正立放大 (B) 正立縮小 (C) 倒立放大 (D) 倒立縮小。
26. 若將透鏡上半部塗黑，如右圖所示，使燭光無法穿過透鏡塗黑部分，下列有關燭焰成像的敘述，何者正確？ (A) 成像只有燭焰下半部，但亮度不變 (B) 成像只有燭焰上半部，但亮度不變 (C) 依然可以成一完整像，但亮度變暗 (D) 無法成像。
27. 若將凸透鏡換成焦距大小相同的凹透鏡，當點燃的蠟燭豎立在A點左側時，必須如何做才能看到燭光經由凹透鏡折射所成的像？ (A) 吹熄蠟燭 (B) 在透鏡右側立一紙屏觀察 (C) 人站在透鏡右側，朝向透鏡觀察 (D) 必須將蠟燭置於透鏡左側的 F_1 焦點內。
28. 近視的沛沛帶著單眼相機和手機去拍攝夜空美景，請問相機、手機的鏡頭與近視眼鏡，分別為哪種透鏡的應用？
 (A) 凸透鏡、凹透鏡、凸透鏡 (B) 凹透鏡、凸透鏡、凹透鏡
 (C) 凹透鏡、凹透鏡、凸透鏡 (D) 凸透鏡、凸透鏡、凹透鏡。
29. 元宵節燈會上，看到燈光透過花燈上的紅色玻璃紙變成紅光，是因為紅色玻璃紙？
 (A) 讓紅光穿透 (B) 吸收紅光 (C) 反射紅光 (D) 發出紅光
30. 在用電腦軟體繪圖時，螢幕上會有一個色盤，可讓使用者變換色彩的種類，例如16色、256色及全彩等。試問這些千變萬化的色彩，是由幾種最基本的色光所調配出來？ (A) 3 (B) 16 (C) 2^{16} (D) 2^{256}



【第2頁結束 背面尚有試題】

31. 如附圖所示，太陽光通過三稜鏡後，會分離出多種顏色的光，其中紅色光在最上層，紫色光在最下層，下列敘述何者錯誤？



- (A) 這種現象稱為色散
 (B) 紅色光在三稜鏡中傳播速率最快、折射角也較大
 (C) 構成各種色光的基本光源為紅、黃、綠這三種色光
 (D) 太陽光是由不同顏色的光混合而成

32. 眼睛的視網膜上之成像情形為何？

- (A) 正立縮小虛像 (B) 正立放大虛像 (C) 倒立縮小實像 (D) 倒立放大實像。

33. 如附圖所示，哲哉發現鉛筆一部分沒入水中時，從水面上觀察會覺得筆彎折了，關於整個觀察的過程，下列敘述何者錯誤？

- (A) 眼睛會以為筆發生彎折，是一種光從水到空氣沒有經過偏折而直線前進的錯覺
 (B) 發生視覺上的錯覺，是因為光在不同介質中行進速率不同
 (C) 眼睛看到筆發生彎折的部分，其成像性質是屬於虛像
 (D) 因為進入眼睛的光線延伸出去的交點不是筆真實的位置，故視網膜上的像是虛像。

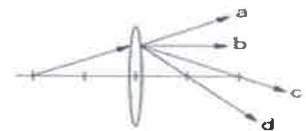


34. 手拿一透鏡置於紙面正上方 5 公分處，觀看紙面上的英文字母，結果如右圖所示，則下列有關此透鏡的敘述，何者正確？

- (A) 焦距大於 5 公分的凹透鏡 (B) 焦距大於 5 公分的凸透鏡
 (C) 焦距小於 5 公分的凹透鏡 (D) 焦距小於 5 公分的凸透鏡。



35. 如右圖所示，由透鏡左方兩倍焦距處所發出來的光線，經過凸透鏡折射後光的路徑應為哪個方向？ (A)a (B)b (C)c (D)d。



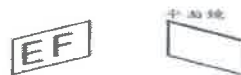
36. 如下圖，如玉向右移動 4 公尺，則像將如何移動？

- (A) 向右移動 4 公尺 (B) 向左移動 4 公尺
 (C) 向右移動 2 公尺 (D) 保持不動。



37. 如右圖所示，「EF」兩字在平面鏡內的成像為何？

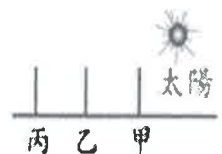
- (A) FEF (B) EEF (C) FE (D) EFF。



38. 由樹葉空隙照射在地面的日光，其形狀為小圓點，此現象的主要原因為下列何者？

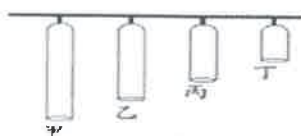
- (A) 樹葉空隙是圓的 (B) 地球是圓的 (C) 圓形面積最小 (D) 太陽是圓的。

39. 水平地面上立三根長度相同的竹竿，如圖所示，其中甲、乙相距 10 公尺，乙、丙相距 8 公尺，而陽光在竹竿右上方，試問竿影的長度大小關係為何？(A) 甲 = 乙 = 丙 (B) 甲 > 乙 > 丙 (C) 丙 > 乙 > 甲 (D) 甲 > 丙 > 乙。



40. 如附圖所示，有四支鐵管，材質及管徑粗細皆相同，但長度為甲 > 乙 > 丙 > 丁，若用鎚子敲打，則哪一管所發出的聲音音調最高？

- (A) 甲 (B) 乙 (C) 丙 (D) 丁。



【第 3 頁結束 背面尚有試題】

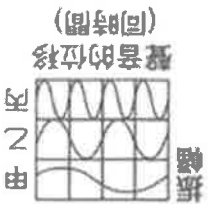
【試題結束】

41. 當聲波遇到障礙物而發生反射時，下列哪些會改變？

- 甲. 頻率；乙. 分貝；丙. 速率；丁. 波的進行方向。
(A) 甲乙 (B) 乙丙 (C) 乙丁 (D) 乙丙丁。

42. 定溫下，在同一地點敲擊甲、乙、丙三支音叉，測得空氣中三支音叉聲波振幅與聲音位移的關係如附圖，則下列敘述何者正確？

- (A) 甲波頻率最大 (B) 乙波與丙波響度一樣 (C) 丙波聲速最快 (D) 三者音色相同。



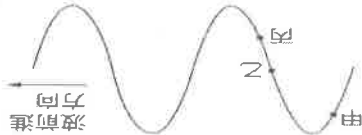
43. 某船以等速度 34 公尺/秒朝懸崖前進，在船上的人於鳴汽笛後經 6 秒後，聽到由懸崖反射之回聲，若當時聲音速率為 337 公尺/秒，則鳴汽笛時，船與懸崖的距離為多少公尺？ (A) 1011 (B) 1113 (C) 909 (D) 807。

*為了探測海底的深度，人們會利用探測船上的聲納儀器發出超聲波及接收其回聲，來推算出海洋的深度。今海龍一號探測船從水面上垂直向海底發射 24500 赫的超聲波以探測海底深度，此時海水的傳聲速率為每秒 1500 公尺。試回答 44~45 題：

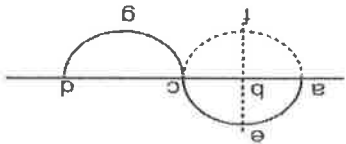
44. 如果聲納發出聲波到接收回聲，總共花了 8 秒鐘，則該處的海洋深度約為多少公尺？ (A) 36000 (B) 18000 (C) 12000 (D) 6000。

45. 當海龍一號探測船把聲納改為 29000 赫超聲波時來探測此處的海洋深度，則從聲納發出聲波到接收回聲，總共花了多少時間？ (A) 16 秒 (B) 8 秒 (C) 4 秒 (D) 2 秒。

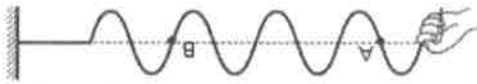
46. 附圖為一向右前進的連續週期波形示意圖，其中介質振動的方向與波前進的方向垂直。請問甲、乙、丙三點下一瞬間的運動方向為何？ (A) 甲向上，乙向下，丙向下 (B) 甲向下，乙向上，丙向上 (C) 甲向上，乙不動，丙向上 (D) 甲向下，乙不動，丙向上。



47. 如附圖所示，波在傳播時，介質往返振動一次的路徑應如何？ (A) a→e→c→g→d (B) e→b→f→b→e (C) a→b→c→d (D) a→f→c→e。



48. 如附圖所示，若振動頻率加倍，則波將如何變化？ (A) 振幅減少 (B) 波長增長 (C) 波自 A 傳到 B 的時間減少 (D) AB 間波數增加。



49. 正鴻到棒球場觀賞棒球比賽，當比賽進行到最緊張的時候，投手將球投出後，打者奮力一揮，「巧一尤」的一聲，球飛出了全壘打牆外，頓時之間，球迷尖叫聲和掌聲四起，試問下列哪項聲音的傳播速率最快？ (A) 「巧一尤」的聲音 (B) 球迷尖叫聲 (C) 球迷的掌聲 (D) 一樣快。

50. 夏沫將耳朵貼在鐵軌上，洛照由鐵軌的另一端敲擊鐵軌。夏沫共聽到兩次聲音，第一次由鐵軌傳來，第二次由空氣傳來，若兩次聲音的間隔相差 5.5 秒，且夏沫與洛照的距離為 2800 公尺，則此時鐵軌中的聲速為多少 m/s？ (假設此時空氣中的聲速為 350 m/s) (A) 509 (B) 875 (C) 1120 (D) 1925。

澎湖縣立文光國民中學 111 學年度第 1 學期第 2 次成績評量 8 年級歷史科試卷

班級：

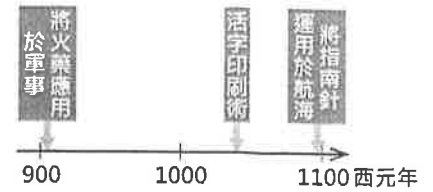
姓名：

座號：

讀卡 答案卷

一、 單選題(1~15 題，每題 2 分；共 30 分)

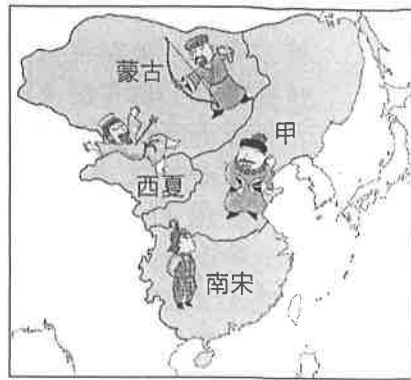
- () 1. 張擇端所繪的〈清明上河圖〉中，描繪出北宋時期商業繁盛、城市生活多樣化，此時甚至出現不受營業時間、地點限制的夜市盛況。然而，會有如此城市繁榮景象的原因，與下列哪項作為最有因果關係？(A)坊市制度的廢除 (B)設立驛站制度 (C)設立市舶司加以管理 (D)紙幣的流傳與使用。
- () 2. 右圖是小璐在課堂報告時所使用的圖片，此一圖片的主題最可能是下列何者？(A)秦漢科技的興盛 (B)隋唐的科技成就 (C)宋朝影響世界的科技 (D)明清時期科技的影響
- () 3. 昱衡不小心掉入了時光隧道，醒了之後，發現所在的時空雖然已經是晚上，但卻熱鬧非凡，有非常多的商店和小攤位，還有很多人手上拿著烤玉米與烤地瓜。請問，昱衡有可能穿越到哪個時代？(A)隋唐(B)宋朝(C)元朝(D)明清。
- () 4. 羽婕最近熱衷於閱讀中國古風小說，她正在看的故事是以宋朝社會作為背景，描述主角從鄉村前往市鎮闖蕩打拚的冒險經歷，但羽婕發現，故事中的敘述有部分並不符合史實。請問：下列哪一小說中的敘述，不符合其故事時代設定？(A)港口的船員告訴主角如何使用指南針辨識方向 (B)官方宣布《四書集注》成為科舉考試的標準本 (C)市集的書坊運用活字版印刷術大量印製書籍 (D)阿拉伯商人在市集販賣香料再用所得購買絲綢。
- () 5. 自從拓展往亞洲的新航路之後，歐洲商人與傳教士都相繼來到亞洲，傳教士擔任傳教的任務，在傳教士利瑪竇與湯若望等人的努力之下，天主教在中國逐漸蓬勃了起來。但不久後，因為羅馬教宗不允許中國信徒祭拜祖先和孔子等行為，引發「禮儀之爭」，後來又因傳教士捲入中國宮廷的政爭，使得某位皇帝展開嚴厲的禁教措施。上述皇帝應是何人？(A)康熙 (B)雍正 (C)乾隆 (D)劉邦。
- () 6. 毅安是東南亞華僑商人之子，他無意中翻到祖先留下來的祖訓，內容提到：「當年我們經過這裡，覺得這是一塊值得開發的地區，於是我們選擇不回中國而留在此地發展，克勤克儉，終於漸有成就，後世子孫務必要守成！」這段內容最有可能與何事有關？(A)遷都北京 (B)鄭和下西洋 (C)海禁政策 (D)渡臺禁令。
- () 7. 明朝由於商貿熱絡而有嚴重的邊境問題。針對邊境問題，部隊因練「鴛鴦陣」禦敵而聞名。「鴛鴦陣」是由十二人組成的隊伍，其特點為「長短相雜，刺衛兼合」，機動性非常高，且因應南方複雜的地形，鴛鴦陣亦可視情況變化為「三才陣」等陣形。請問：「鴛鴦陣」最可能是針對哪種外患而設立？(A)蒙古 (B)女真 (C)倭寇 (D)流寇。
- () 8. 元朝時期的威尼斯商人 A——馬可波羅，曾記錄他在中國的經歷，其中有段內容是：「『蠻子』在他們居住的福建泉州城裡，使用紙幣交易。這裡有印度的商船運載香料，而且附近的福建德化城製造的碗及瓷器，數量多而且相當美觀。」根據居住的地區，請問馬可波羅口中的「蠻子」，應該是以下哪一個種族分類？(A)蒙古人 (B)色目人 (C)漢人 (D)南人。
- () 9. 十七世紀時，巴達維亞總督指出在亞洲貿易的方法：「從日本得到白銀來交換中國的□□，然後再用中國的□□、黃金交換檀香、胡椒和里耳銀幣。印度紡織品可以來交換印尼的胡椒和黃金，接著用印尼的胡椒交換紐西蘭的里耳銀幣和紡織品，而用紐西蘭的紡織品又可以交換香料、其他商品和西班牙大銀元，然後我們再用阿拉伯的西班牙大銀元交換香料和其他小貨物……。」以下對於這段話的解讀，何者正確？(A)白銀為當時主要的國際交易貨幣 (B)黃金為當時主要的國際交易貨幣 (C)中國的□□包括茶、糖、樟腦 (D)此時中國被排除在世界經濟體系之外。
- () 10. 老師在課堂上用右表講解某一主題，根據內容判斷，此主題最可能是下列何者？(A)清帝國的版圖拓展 (B)大食帝國的發展 (C)女真族的擴張 (D)蒙古民族的對外征服。
- () 11. 民國初年的中華民國地圖，造型像是一片美麗的秋海棠葉子。請問：哪一時期蒙古、新疆、西藏、臺灣等地被收入版圖，奠定了近代中國疆域的基本規模？(A)漢朝 (B)唐朝 (C)元朝 (D)清朝。



時間	事件
1220 年代	★擊敗中亞的花刺子模
1230 年代	★消滅金國
	★占領今日俄羅斯、烏克蘭等地
1240 年代	★攻入今日東歐地區

【第 1 頁結束 後面尚有試題】

- ()12. 這個條約可說是中國近世以來，第一個與外族訂定的「平等協定」，但看似平等，中國卻必須每年輸出「歲幣」給予他國，來維持國內穩定。有關「平等協定」的內容，下列敘述何者正確？
 (A)該平等條約於宋徽宗時簽訂 (B)簽訂對象為女真族的金國 (C)從此兩國始以兄弟相稱
 (D)該平等協定的內容等同於傳統政權的對外關係。
- ()13. 右圖是宋元時期的形勢圖，從圖中內容判斷，「甲」應是哪個民族成立的國家？ (A)契丹 (B)日本 (C)女真 (D)鮮卑。
- ()14. 明代末年來到中國想要傳教的傳教士利瑪竇，為了要順利傳教，做了許多努力想要與當時中國的知識分子交流。下列何者是他為了打入當時士大夫文化圈所做的努力？
 (A)與徐光啟合譯《幾何原本》 (B)與徐光啟合著《農政全書》
 (C)協助徐光啟編修《崇禎曆書》 (D)與徐光啟合著《火攻挈要》
- ()15. 呈上題，請問利瑪竇屬於哪一個教派？(A)伊斯蘭教 (B)長老教會
 (C)佛教 (D)耶穌會。



二、題組(第16~60題，每題1分，共5分)

1. 請閱讀資料，回答下列問題：

- ()16. 文中阿合馬出任宰相進行的「改革」，較可能是下列哪一選項？
 (A)整頓稅制與財政 (B)主導對外朝貢貿易 (C)推行種族制度
 (D)推行科舉制度。
- ()17. 阿合馬在種族制度下的元朝工作，在此制度下他最可能是哪一種族階級？ (A)蒙古人 (B)色目人 (C)契丹人 (D)漢人。

2. 請根據下圖回答問題：

近年海外旅遊風氣盛行，距離臺灣不遠的沖繩成為了臺灣人出國度假的熱門地區，不過歷史上沖繩曾是一個獨立的國家——琉球王國。琉球王國活躍於十四至十九世紀，與周邊國家多有貿易往來，這些往來的書信，均被收入於以漢文書寫的《歷代寶案》之中。

該書詳實記錄了琉球王國與中國王朝貿易的交流，當時的中國以「天朝」自居並對周遭的國家採取了特別的貿易制度，即唯有接受中國的冊封才有資格與中國通商，琉球王國自然也不例外。

阿合馬是元世祖忽必烈時的近臣之一，傳統史家對阿合馬之評價都相當負面，如《元史》就把阿合馬收錄於「姦臣傳」裡面，有「益肆貪橫」、「內通貨賄，外示刑威」這些話。然而隨著研究深入，後世對阿合馬之評價也不再極端。當時正值元初，漢人、南人地位較低，出任宰相的阿合馬，其後不管證據虛實都會被視為貪橫暴虐。再者，阿合馬進行的所謂「改革」，其根本原因是因忽必烈長年對外征戰、國庫空虛導致。而他的繼任人不論是漢人盧世榮、或是藏人桑哥，也遇到與阿合馬一樣的悲劇。

- ()18. 根據資料，當時的中國王朝為哪些朝代？ (A)明清 (B)宋元 (C)隋唐 (D)秦漢。
- ()19. 文中所謂「特別的貿易制度」是指下列何者？ (A)自由貿易 (B)朝貢體系 (C)殖民地經濟
 (D)保護主義。
- ()20. 後來琉球王國被下列哪一個國家併吞？ (A)力圖向外擴張的日本 (B)尋找亞洲貿易據點的荷蘭
 (C)實施海禁政策的清朝 (D)為了剿滅海盜的明朝。

【試題結束—文光八年級、歷史科】

澎湖縣立文光國民中學 111 學年度第 1 學期 第 2 次成績評量 8 年級公民科試卷

班級：_____ 姓名：_____ 座號：_____ ■ 讀卡 □ 答案卷

一、單一選擇題（十五題，每題 2 分，共 30 分）

21. () 緊急命令的發布流程為：國家或人民遭遇緊急危難或財政經濟上的重大變故，經行政院會議的決議，由(甲)發布緊急命令後，須於 10 日內提交(乙)追認。請問：(甲)、(乙)分別為何？ (A)行政院、立法院 (B)總統、行政院 (C)立法院、司法院 (D)總統、立法院。
22. () 現代民主國家的政府組織，通常有各自行使的職權。負責訴訟的審判及解釋法律的是政府的哪個部門？ (A)行政 (B)立法 (C)司法 (D)監察。
23. () 憲法法庭是屬於司法院的組織，由大法官所組成。下列何者是憲法法庭所負責的事項？ (A)審議公務員的懲戒案件 (B)審理總統、副總統之彈劾案 (C)提出對總統、副總統罷免案 (D)審核政府的決算。
24. () 西元 2016 年蔡英文贏得總統大選，成為我國第 14 屆總統。下列關於我國「總統」的敘述，何者錯誤？ (A)由人民直接選舉產生 (B)為虛位(無實權)元首 (C)任期 4 年，連選得連任一屆 (D)決定國家安全大政方針。
25. () 我國中央政府五院的院長，哪些須由總統提名經立法院同意後，再由總統任命？(甲)行政院院長 (乙)立法院院長 (丙)考試院院長 (丁)司法院院長 (戊)監察院院長 (A)甲乙丙 (B)甲丙戊 (C)乙丙丁 (D)丙丁戊。

26. () 藝鞍為了製作「我國中央政府組織」的報告，進入以下網站搜尋相關資訊——
根據內容判斷，此網站可能為下列哪個中央政府的網站？ (A)行政院 (B)司法院 (C)立法院 (D)監察院。

☆ 全球資訊網 ☆

✧ 各級法院	院內最新消息： ▶ 院務改革建議信箱 ▶ 本院院內系統公告
✧ 各級行政法院	
✧ 公務員懲戒委員會	
✧ 憲法法庭	
✧ 大法官	

27. () 在民主國家中，政府的各項施政都要向人民負責。為達成責任政治的理想，在我國中央政府組織中，除了監察院外，何者也具有監督行政機關的職權？ (A)行政院 (B)立法院 (C)司法院 (D)考試院。
28. () 新聞報導：「◆◆以三軍統帥的身分視察花蓮佳山空軍基地，並表達其決心：未來的每一天，都會和國軍站在一起，推動改革，負起保家衛國責任。」上述◆◆應是指下列何者？ (A)總統 (B)立法院院長 (C)行政院院長 (D)監察院院長。

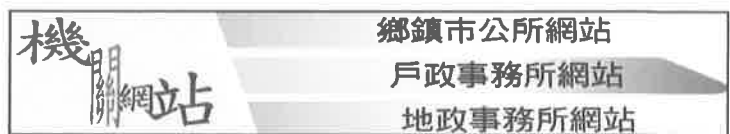


29. () 右圖是立法院與行政院的制衡示意圖——
根據內容判斷，圖中的 應填入下列何者？ (A)覆議 (B)彈劾 (C)糾正 (D)不信任案。

【第 3 頁結束—背面尚有試題】

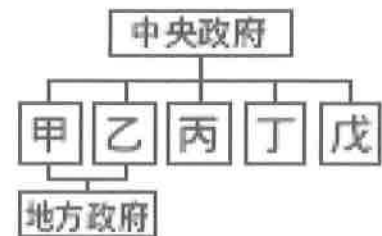
30. () 每到傍晚，炳晨只要一聽到垃圾車的音樂響起，就趕緊出門丟垃圾。「垃圾清運」這項工作，是由下列何者負責？
 (A) 行政院 (B) 立法院 (C) 省政府 (D) 各地方政府。
31. () 依照我國《憲法》，中央政府與地方政府若發生權限劃分的爭議，須交由下列哪個機關處理？ (A) 立法院 (B) 總統府 (C) 考試院 (D) 行政院。
32. () 新聞報導：「嘉義縣朴子鄉有『刺繡之鄉』稱號，位於朴子鄉的嘉義縣刺繡文化館，即日起舉辦個人展覽——鄭淑琴刺繡紙藝展。」根據上述內容判斷，辦理藝文活動是地方政府的哪項自治事務？
 (A) 教育文化 (B) 社會服務 (C) 經濟發展 (D) 安全衛生。
33. () 颱風來襲時，風雨影響上班上課的情況，在各地都不盡相同。根據上述內容判斷，颱風假的宣布應以下列哪種方式較為適當？
 (A) 由地方政府自行判斷 (B) 由中央政府統一宣布
 (C) 由地方政府呈請總統決定 (D) 由行政院會議評估決定。

34. () 復澄要寫公民報告，他在網路上搜尋相關資料，圖為他在某一個政府組織的「所屬機關」中看到的網頁。該網站應是下列哪一政府組織？



- (A) 行政院 (B) 縣政府 (C) 市政府 (D) 縣議會。

35. () 右圖是我國中央政府與地方政府的分權方式。地方政府擁有的甲、乙兩種治權，分別是指下列何者？
 (A) 行政權、司法權 (B) 行政權、立法權
 (C) 考試權、監察權 (D) 考試權、立法權。



二、題組(五題，每題1分，共5分)

(一) 下列為地方政府的重要自治事務，請從選項中選出適合的配對。

A. 社會服務 B. 經濟發展 C. 教育文化 D. 安全衛生

- () 36. 彰化縣政府舉辦各種藝文活動，並維護縣內古蹟。
- () 37. 地方政府設置老人安養機構，提供老人基本的生活照顧，讓老人有一個安適的生活環境。
- () 38. 衛生局印發有關腸病毒的宣導事項。

(二) 中央政府之下設有地方政府，兩者職權各有所司，以便更有效服務人民，請從選項中選出適合的配對。

A. 中央政府 B. 地方政府

- () 39. 發展縣內觀光事業，及縣內道路維護。
- () 40. 購買軍事設備，保障人民安全。

【第4頁結束—背面尚有試題】

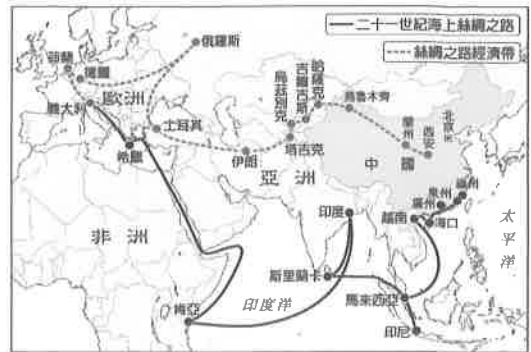
澎湖縣立文光國民中學 111 學年度第 1 學期 第 2 次成績評量 8 年級地理科試卷

班級：_____ 姓名：_____ 座號：_____ ■ 讀卡 □ 答案卷

一、單一選擇題（十題，每題 2 分，共 20 分）

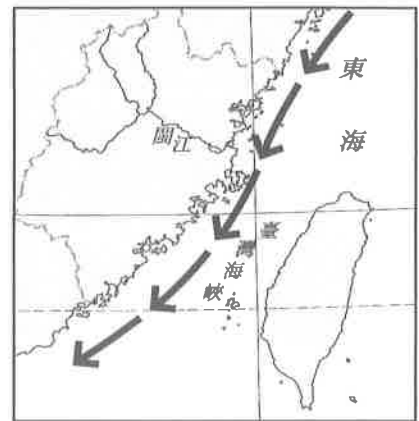
41. () 右圖為中國「一帶一路」路線示意圖。依據右圖判斷，下列何者不屬於中國「絲綢之路經濟帶」的經濟發展範圍？

(A) 亞洲 (B) 非洲 (C) 歐洲 (D) 美洲。



42. () 中國經濟起飛後，民眾的環保意識尚未全面提升，因此許多垃圾會隨著河川及洋流影響到鄰近的國家。右下圖是重煒在某電視節目中所見到的內容。依據右下圖資訊判斷，這些中國的垃圾對下列哪一座臺灣離島的影響最大？

(A) 綠島 (B) 蘭嶼 (C) 龜山島 (D) 金門列嶼。



43. () 中國產業發展規模大，近年對世界環境的影響日增，請問：下列哪些為中國對世界環境主要的影響？

(甲) 碳排放量大 (乙) 沙塵暴影響週遭國家空氣品質 (丙) 核能汙染擴散 (丁) 水壩建設影響下游國家用水

(A) 甲乙丙 (B) 甲丙丁 (C) 甲乙丁 (D) 乙丙丁。

44. () 近年來，好萊塢電影受中國投資的影響，因此有時基於票房或觀眾比例會聘請中國籍演員參與演出，如《環太平洋 2》、《金剛：骷髏島》和《巨齒鯊》等。此現象與中國哪一項經濟發展特徵有密切關係？

(A) 加工製造的工業國 (B) 全球最大消費市場 (C) 網際網路日益普及 (D) 電子支付取代現金。

45. () 走一趟中國會有「只要有手機，就可以買遍天下」的感受，在該國不只超市等有店面的商家是使用無現金支付的方式，就連偏遠地區中的小攤販也可以使用無現金支付的方式，掃一下碼就可以完成交易。請問：上述情形的產生需要依賴何種背景環境？

(A) 眾多的人口總數 (B) 發達的網際網路 (C) 便捷的陸運交通 (D) 民主的政治體制。

46. () 這個城市自鴉片戰爭清廷戰敗被迫開港通商後，因地處中國海岸線中央與長江出海口的的位置，工商業發展迅速，短短不到一百年的時間，就成為中國第一大港市。請問：上文所指的是下列哪一個城市？

(A) 上海 (B) 香港 (C) 天津 (D) 澳門。

47. () 中國為解決北部地區日益嚴重的缺水問題，在二十世紀末期展開「南水北調」工程，將哪一條河川的水資源引入黃河流域？

(A) 長江 (B) 海河 (C) 淮河 (D) 珠江。

48. () 「這個城市為北方的政治、經濟和軍事中心。現為中華人民共和國的首都，也是西元 2022 年冬季奧運的主辦城市。」上文所描述的最可能是下列哪一個城市？

(A) 北京 (B) 西安 (C) 天津 (D) 太原。

49. () 西元 2000 年，中國開始推動「西部大開發」的政策，四大重點工程專案不包括下列哪一項？

(A) 退田還湖 (B) 西電東送 (C) 青藏鐵路 (D) 西氣東輸。

50. () 下列四地為中國東南沿海的經濟特區：(甲) 汕頭 (乙) 珠海 (丙) 深圳 (丁) 廈門。若由北至南依序排列，其順序為何？

(A) 甲乙丙丁 (B) 乙丁丙甲 (C) 丙乙丁甲 (D) 丁甲丙乙。

【第 5 頁結束—背面尚有試題】

二、題組：(十題，每題1分，共10分)

(一) 在外國資金、技術的挹注下，中國的經濟有長足的發展，甚至有「世界工廠」之稱。請問：

- () 51. 目前中國積極促進經濟成長，企圖將工業發展轉以下列哪一種類型為主力？
(A)輕工業 (B)重工業 (C)高科技工業 (D)農產品加工業。
- () 52. 下列對中國目前經濟發展的敘述，何者符合事實？
(A)黃河沿岸都市多開放為經濟特區 (B)「對內改革，對外開放」的國家政策已停止 (C)世界知名行動電話、數位相機等產品零件皆在中國設計 (D)機械、紡織、電子等方面都可見到「中國製造」的商品標籤。
- () 53. 「外商包括跨國公司大量對中國進行投資，加上中國豐富的資源，使其成為亞洲乃至全球加工製造中心，也使國際上有關中國成為『世界工廠』的議論日多。」文中中國「豐富的資源」指的最可能是下列何者？
(A)廉價勞動力 (B)多種礦物 (C)豐沛水力 (D)大量農產品。

(二) 一九八〇年代起，中國在東南沿海設立五個經濟特區，成為中國經濟改革的先驅。請問：

- () 54. 中國的經濟特區中，何者因距離臺灣最近，已和金門進行「小三通」，有船隻載運人員往返兩地？ (A)汕頭 (B)廈門 (C)珠海 (D)深圳。
- () 55. 右圖中，哪一個經濟特區距離香港最近，進出口貿易額最高？
(A)甲 (B)乙 (C)丙 (D)丁。



(三) 右圖為中國三大經濟帶分布圖。請問：

- () 56. 三大經濟帶的劃分，主要是以下列何者作為依據？
(A)地形類型 (B)面積大小 (C)發展程度 (D)人口多寡。
- () 57. 若依三大經濟帶的產值大小排列，由大到小依序為何？ (A)東部>中部>西部 (B)東部>西部>中部 (C)中部>東部>西部 (D)西部>中部>東部。
- () 58. 下列哪些是東部經濟帶發展上的優勢？
(甲)勞力充足 (乙)交通便利 (丙)能源豐富 (丁)教育水準較高 (戊)水源豐沛
(A)甲乙丙 (B)甲乙丁 (C)乙丙丁 (D)乙丁戊。



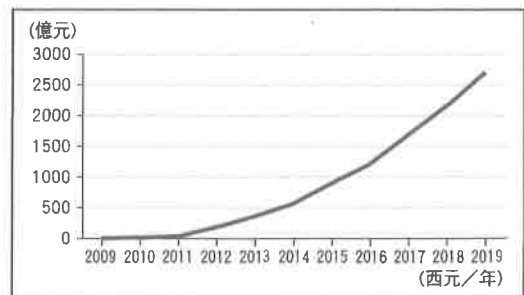
(四) 「雙十一狂歡購物節」是中國阿里巴巴集團旗下購物網站自西元2009年推出的購物活動，該活動於每年11月11日舉行，是中國一年當中網路商家打折促銷力度最大的時候，吸引相當多民眾在該時段上網搶購。附圖為此購物活動推出迄今的年銷售額成長圖。請問：

- () 59. 此圖可用來輔助說明下列何者的資料？

(A)中國勞工薪資低廉 (B)中國平均薪資提高 (C)中國礦產資源豐富 (D)中國產業技術優異。

- () 60. 此種商業模式的興起需要其他環境的配合，其不包括下列何者？

(A)高效率的物流 (B)便捷的交通網 (C)發達電子商務 (D)統一宗教信仰。



【試題結束—文光8年級社會科】

