

澎湖縣立文光國民中學 111 學年度第 1 學期第 3 次成績評量八年級國文科【試題卷】

班級： 姓名： 座號： 讀卡 答案卷

一、國字注音：(每格 1 分，共 14 分)

1. 拔「出ㄨㄛˊ」	2. 洗「滌」	3. 乾「ㄅㄨˊ」	4. 鳥「喙」
5. 草「菅」人命	6. 「尸ㄛˊ」瀘	7. 「ㄨㄛˊ」極泰來	8. 菜「畦」
9. 和「ㄇㄨˋ」相處	10. 火「候」	11. 「梟」雄	12. 「ㄇㄨˋ」泥
13. 繁文「ㄇㄨˋ」節	14. 大快朵「ㄨㄛˊ」		

二、請選出適當的詞，將其代號填入適當的空格內：(每題 2 分，共 14 分)

甲. 肆無忌憚	乙. 百思不解	丙. 褻玩	丁. 徜徉	戊. 蜷伏
己. 廝守	庚. 饕餮	辛. 踟躕	壬. 人聲鼎沸	癸. 鼓噪

小丞最近懶洋洋的，下課時總是趴在桌上，(1.) 不動。即便同學們在他身旁 (2.)，嬉笑地叫他起來，他仍是聞風不動。如此一來，同學對他更是 (3.) 地 (4.) 不已。終於小丞的身子動了動，抬起頭來，臉上露出 (5.) 的表情，不知這群圍繞他的同學要幹嘛！最後他決定起身，往 (6.) 的福利社走去，打算去 (7.) 一番。

三、選出適當的成語，將正確的答案代號填入各題空格處：(每題 1 分，共 12 分)

A. 無獨有偶	B. 隨波逐流	C. 陽奉陰違	D. 不修邊幅	E. 夙夜匪懈	F. 氣宇軒昂	G. 投筆從戎
H. 門庭若市	I. 懸壺濟世	J. 樂不思蜀	K. 戛然而止	L. 自出機杼	M. 優柔寡斷	N. 支吾其詞
O. 目眩神馳	P. 有恃無恐					

- 報國不一定要 ()，在自己崗位上好好努力也是一樣。
- 對於學校的規定，他一向 ()，也難怪會被記過。
- 當老師踏入教室時，同學們的嬉笑叫鬧聲隨即 ()。
- 那間公司上個月才宣布縮編，()，我們的公司這個月也宣布裁員。
- 這孩子就是如此 ()，什麼事情都得別人幫他拿主意。
- 還不是靠著他爹的勢力，否則他敢如此 () 地胡作非為嗎？
- 黃大夫一生 ()，解除了無數病人的痛苦，深受人們的愛戴。
- 他為了參加此次考試，半年來 ()，拚命苦讀，如今終於如願以償，人人稱羨。
- 有的人一到城裡，很快沉迷於五光十色中，()，早忘故鄉事了。
- 他設計的衣服 ()，總是能引領起風潮。
- 一問到這件事，他就 ()，恐怕其中有什麼隱情。
- 這家自助餐店物美價廉，因此每到用餐時間，都是 ()。

四、選擇題：(每題 2 分，共 40 分)

- 「中通外直，不蔓不枝；香遠益清，亭亭淨植，可遠觀而不可褻玩焉。」根據這段文字，關於蓮所象徵的君子特質，下列分析何者正確？

(A) 「香遠益清」代表君子恬淡寡欲 (B) 「亭亭淨植」指君子清靜無為
 (C) 「中通外直」代表君子坦率直爽 (D) 「不蔓不枝」指君子不攀附權貴。

- 2.關於〈愛蓮說〉一文，下列敘述何者正確？
- (A) 採平鋪直敘的方式，直接說明對於三種花的好惡
 - (B) 先說明獨愛蓮花的原因，再敘述三種花象徵的人格特質
 - (C) 全文採對比手法，藉由菊花來襯托牡丹高潔的氣質
 - (D) 全文託物言志，以稱頌菊花來傳達對隱居山林的嚮往。
- 3.「籠子裡的鳥更不用說，常年地關在柵欄裡，飲啄倒是方便，冬天還有遮風的棉罩，充分地『優待』。」關於這段文字的含義，下列敘述何者正確？
- (A) 強調籠中鳥在人類的豢養之下無憂無慮
 - (B) 讚許主人為籠中鳥提供舒適的居住環境
 - (C) 說明籠中鳥已習慣待在柵欄中而不喜飛翔
 - (D) 刻意使用倒反的言詞表達籠中鳥的苦悶。
- 4.下列文句，何者最能看出作者對鳥的喜愛之情？
- (A) 等到旭日高升，市聲鼎沸，鳥就沉默了
 - (B) 鳥的身軀都是玲瓏飽滿的，細瘦而不乾癟，豐腴而不臃腫
 - (C) 有時候稻田裡佇立著一隻白鷺，拳著一條腿
 - (D) 自從離開四川以後，不再容易看見那樣多型類的鳥的跳盪。
- 5.「枯黃的野草地被當作遊戲場，孩子上學時由成群的麻雀霸占著，牠們輪番發表政見，各說各話，誰也不聽誰的。白花花的菅芒不是單純的觀眾或聽眾，還學著騷人墨客邊握著筆桿，邊搖頭晃腦，想必會留下一些詩詞歌賦吧！」根據這段文字，下列說明何者正確？
- (A) 上學的孩子成群結隊在野草地嬉戲笑鬧
 - (B) 風勢猛烈，菅芒被吹得東倒西歪
 - (C) 麻雀總是學騷人墨客發表政見，聒噪不休
 - (D) 麻雀與菅芒為枯黃的野草地增添了生氣。
- 6.「我相信，老太陽一定覺得，還是過去的鄉下人有情有義。」作者這麼說的原因為何？
- (A) 現代人以膚色白哲為美，對陽光往往敬而遠之
 - (B) 過去鄉下人對太陽的信仰，比現代人來得虔敬
 - (C) 現代人倚賴科技產品，不太在意陽光的有無
 - (D) 過去鄉下人的生活智慧，都來自陽光的賞賜。
- 7.「我不要大賣場裡賣的，那些都是印刷品，我要手寫的，筆酣墨濃的書法，看得見汁液的流動、新乾的痕跡，這年頭得到哪兒買這樣的春聯呢？」根據〈買春聯〉一文，作者想要手寫的春聯，而不要印刷的春聯，其理由為何？
- (A) 印刷的春聯少了那分濃厚的人情味
 - (B) 印刷的春聯人人皆有，了無新意
 - (C) 手寫春聯的字體較優美，更具珍藏價值
 - (D) 手寫春聯取得不易，令作者更想求得。
- 8.作者以幽默諷諧的口吻為〈買春聯〉一文增添許多趣味。下列文句，何者無法看出此項寫作特色？
- (A) 那麼難道胖的人練了瘦金體就能減肥嗎
 - (B) 韓伯伯的春聯是過年才貼的，爸爸的字卻與我的生活息息相關
 - (C) 大哥總要趁此機會逗一逗我，寫個「六畜興旺」什麼的要貼我房門口
 - (D) 寫字要穿圍裙，真是煮字療飢啊。
- 9.〈拆牆〉一文作者行文細膩，字裡行間隱藏著許多深意。關於下列文句的含義，何者說明最恰當？
- (A) 「牆不高」代表牆東西兩家的心牆不高，只要願意彼此理解，即能跨越牆的隔閡
 - (B) 「老藤緊貼著牆扭來扭去，扭著扭著就張開了一片片心形的綠葉」暗示啟華與含月、蓋茲與絲黛娜這兩對夫妻的頻繁互動
 - (C) 「現在，牆的西邊只剩下蓋茲，牆的東邊只剩下含月了」說明兩家夫妻的感情均已失和
 - (D) 「星空月下，風鈴晃出的曲子和鋼琴奏出的音樂一樣動聽」意指東方音樂終究難登大雅之堂。

10. 「生活裡的好滋味原來不是只為了自己嘗，而是要有人來分享才有意義。」關於這句話的含義，下列說明何者正確？
- (A) 唯有嘗遍人生中酸甜苦辣的滋味，才能明白共享的重要
 - (B) 悲傷的滋味只能留給自己品嚐，不適合與旁人分享
 - (C) 不要只為了自己而活，應該將生活重心放在他人身上
 - (D) 生活中的美好事物，與他人共享比獨享更快樂。
11. 在〈定伯賣鬼〉的故事裡，關於人與鬼的比較，下列何者**錯誤**？
- (A) 鬼渡水無聲，人渡水有聲
 - (B) 鬼由被動配合變成主動出擊
 - (C) 鬼自始至終說真話，坦誠以待；人時常說假話，以謊言自保
 - (D) 同行時，人不多言，時刻保持警戒；鬼常主動提問，又易被人說服。
12. 《山海經》：「招搖之山，臨於西海之上，多桂，多金玉。有草焉，其狀如韭而青華，其名曰祝餘，食之不飢。有木焉，其狀如穀而黑理，其華四照，其名曰迷穀，佩之不迷。有獸焉，其狀如禺而白耳，伏行人走，其名曰猩猩，食之善走。」假如又全來到招搖山，晚上找不到路，下列何物最能幫他解決這個問題？
- (A) 金玉
 - (B) 祝餘
 - (C) 迷穀
 - (D) 猩猩。
13. 「花之最能持久，愈開愈盛者，山茶、石榴是也。然石榴之久，猶不及山茶，榴葉經霜即脫，山茶戴雪而榮。則是此花也者，具松柏之骨，挾桃李之姿，歷春夏秋冬如一日。」（李漁〈山茶〉）根據這段文字，下列何者最適合用來形容作者賦予山茶的人格之美？
- (A) 堅忍不拔，內外皆美
 - (B) 樸實無華，謙遜有節
 - (C) 百依百順，溫柔嬌媚
 - (D) 熱情浪漫，樂觀自信。
14. 「要了解鳥類如何體驗世界，利用人類的感覺系統只能算是起點，只要能辨別牠們具備我們沒有的感覺，只要我們不自動假設牠們跟我們共有的感覺一模一樣，就可以略窺鳥類的感覺世界。」（柏克海德《鳥的感官·後記》）根據這段文字，下列敘述何者正確？
- (A) 人類窮極一生也無從了解鳥類的感覺世界
 - (B) 人類不應以自我想法妄加揣測鳥類的感覺
 - (C) 人類與鳥類的感覺體驗在多數情境下雷同
 - (D) 人類對於野生鳥類的感官世界已知之甚詳。
15. 「太陽距離地球平均一億五千萬公里，所以陽光需時八分多鐘才能抵達地球。由太陽發出的能量，大約只有二十億分之一被地球截獲，這個比例看起來很小，其實已經十分可觀，足夠使地球成為一個充滿生機的星球。地球上許多熱能和動力，都是以太陽輻射作為它們的直接或間接來源。」根據這段文字，下列敘述何者正確？
- (A) 地球上的許多熱能與動力，都是得力於太陽輻射
 - (B) 太陽所發出的能量，可儲存在地心以供日後取用
 - (C) 地球能充滿生機，是因為截獲了大部分的太陽能量
 - (D) 太陽離地球太遠，陽光需要經過多次折射才能抵達。
16. 「友情如一罈醇酒，愈陳愈濃郁醉人。」句中以「醇酒」比喻「友情」的恆久動人。下列文句，何者也是用具體事物來比喻抽象概念？
- (A) 沿岸的楓葉以血掌印證，船頭是水雲的故鄉
 - (B) 圍牆邊綻放的繁花，是造物主所設下的美麗陷阱
 - (C) 孤獨是一匹衰老的獸，潛伏在我亂石磊磊的心裡
 - (D) 那蓬鬆的髮，如天空的亂雲，把她襯托得更具風情。

17.下列何者文句所述季節為「秋季」？

- (A) 最炎熱的日子裡，整個街道的麻石路面蒸騰著熱氣，人在街上走，感覺到塑料涼鞋下面的路快要燃燒了，手碰到路邊的房屋牆壁，牆也是熱的
- (B) 一家人於陰曆十一月下旬從熱鬧的杭州移居於這荒涼的山野，宛如投身於極帶中
- (C) 那時暄氣初消，月正圓，蟹正肥，桂花皎潔，也未陷入凜冽蕭瑟氣態，這是最值得賞樂的
- (D) 小草偷偷地從土裡鑽出來，嫩嫩的，綠綠的。園子裡，田野里，瞧去，一大片一大片滿是的。坐著，躺著，打兩個滾，踢幾腳球，賽幾趟跑，捉幾回迷藏。風輕悄悄的，草綿軟軟的。

18.文言文裡把賓語提到述語的前面時，中間常加一「之」字或「是」字，「之」與「是」為結構助詞。請問以下「」的部分還原後的句型，哪一個**錯誤**？

- (A) 父母唯「其疾之憂」→憂其疾
- (B) 「牡丹之愛」，宜乎眾矣→愛牡丹
- (C) **明豐**事業有成後積極回饋社會，擺脫商人「唯利是圖」的形象→唯利圖
- (D) 我們既然推選**彭揚**擔任班長，就應以他「馬首是瞻」，全力配合→瞻馬首。

19.「好銳利的喜悅刺上我的心頭」是將抽象的「喜悅」，用「刺」這個字，將它轉化為「具體」的尖銳物體，使人感受特別深刻。請問下列何者也是用這種手法？

- (A) 一把小小黃楊木梳，再也理不清母親心中的愁緒
- (B) 破敗的樓房，像一排腐壞的牙齒
- (C) 木門咿咿呀呀，起風時還會砰砰作響
- (D) 星空月下，風鈴晃出的曲子和鋼琴奏出的音樂一樣動聽。

20.「烏雲密布，操場上頓時暗了下來，連陽光也避不見面，像是深怕與我有牽扯。因為我，害大家輸了……」這段文字的內容採用下列何種抒情結構？

- (A) 藉人抒情 (B) 藉事抒情 (C) 藉物抒情 (D) 藉景抒情。

五、閱讀測驗：(每題 2 分，共 20 分)

2021 年 3 月 23 日埃及標準時間上午 7 時 40 分，400 公尺長的長榮海運貨櫃船長賜輪在埃及蘇伊士運河擱淺。

蘇伊士運河掌管了全球約 12% 的貿易流量，此事件可能會導致全球消費者的日常物品運輸延遲。海事歷史學家薩爾·梅爾科利亞諾 (Sal Mercogliano) 說：「運河一關閉……貨櫃船和油輪就不能向歐洲運送食品，燃料和製成品，也不能從歐洲向遠東出口貨物。」

勞埃德船舶日報估計，清除障礙物所需的每一天將打亂價值 90 億美元商品的運輸。有顧問指出，蘇伊士運河即使是短期中斷，也會誘發整個供應鏈中持續幾個月的骨牌效應，運輸成本將上漲。彭博新聞社指如果蘇伊士運河的阻塞情況持續，依賴此航道取得中東石油的歐美煉油廠可能被迫要找替代來源。如此一來有可能推高地區油價。

(節錄自維基百科 2021 年蘇伊士運河阻塞事件)

1.下列網友所言，何者與雙關修辭**無關**？

- (A) **黃斑部**：不愧是「榮的船人」
- (B) **葉俊麟**：長賜輪要離開埃及，「榮歸故里」的花費甚鉅
- (C) **小麻瓜**：讓世界再次看到臺灣，世界為此「大排長榮」
- (D) **林小翰**：「長榮好會」啊！這種免費新聞宣傳太睿智。

2.海事歷史學家說：「運河一關閉……貨櫃船和油輪就不能向歐洲運送食品，燃料和製成品，也不能從歐洲向遠東出口貨物。」下列哪一選項**無法**說明蘇伊士運河阻塞事件？

- (A) 視若等閒 (B) 環環相扣 (C) 舉足輕重 (D) 牽一髮而動全身。

3. 「彭博新聞社指如果蘇伊士運河的阻塞情況持續，依賴此航道取得中東石油的歐美煉油廠可能被迫要找替代來源。」句中的「替代」，由下列哪一選項「 」中的詞語代換後，意思不同？
- (A) 妳在我心中是無可「取代」的真命天女
 (B) 賓客「輪番」舉杯敬這對新人百年好合
 (C) 汽車零件必須按時「替換」，才能保持良好性能
 (D) 總公司決定由你「接替」老陳業務經理的職務。

楚人有生而不識薑者，曰：「此從樹上結成。」或曰：「從土裡生成。」其人固執己見，曰：「請與子以十人為質，以所乘驢為賭。」已而遍問十人，皆曰：「土裡出也。」其人啞然失色，曰：「驢則付汝，薑還樹生。」
 (江盈科 雪濤小說)

4. 「驢則付汝」中的「驢」是誰的座騎？ (A)楚人 (B)路人 (C)十名證人 (D)與楚人打賭者。
 5. 依據上述文字，下列哪一選項乃楚人的行為表現？
 (A)視若無睹 (B)從善如流 (C)擇善固執 (D)冥頑不靈。

「雅舍」最宜月夜——地勢較高，得月較先。看山頭吐月，紅盤乍湧，一霎間，清光四射，天空皎潔，四野無聲，微聞犬吠，坐客無不悄然！舍前有兩株朶樹，等到月升中天，清光從樹間篩灑而下，地上陰影斑斕，此時尤為幽絕。直到興闌人散，歸房就寢，月光仍然逼進窗來，助我淒涼。細雨濛濛之際，「雅舍」亦復有趣。推窗展望，儼然米氏章法，若雲若霧，一片瀟灑。但若大雨滂沱，我就又惶悚不安了，屋頂溼印到處都有，起初如碗大，俄而擴大如盆，繼而滴水而不絕，終乃屋頂灰泥突然崩裂，如奇葩初綻，轟然一聲而泥水下注，此刻滿室狼藉，搶救無及，此種經驗，已數見不鮮。
 (梁實秋 雅舍)

6. 文中「坐客無不悄然」、「興闌人散，歸房就寢，月光仍然逼進窗來，助我淒涼」，這些詞語所要傳達的是何種思想感情？ (A) 徬徨無助 (B) 遊子思鄉 (C) 悲天憫人 (D) 人生苦短。
 7. 由本文判斷，下列描述何者不是「雅舍」的特殊景致？
 (A) 奇葩初綻，明麗動人 (B) 月光朗照，樹影斑斕
 (C) 細雨濛濛，如雲如霧 (D) 大雨滂沱，滿室狼藉。
 8. 「看山頭吐月，紅盤乍湧」，句中「紅盤乍湧」是指下列何者？
 (A) 月亮突然湧現 (B) 突見滿天星斗 (C) 流星一閃即逝 (D) 彩雲突然出現。

燠熱的酷暑中，拂過玉蘭花樹的風總是能將花朵的清香帶進人們的胸腔，舒緩人們因為暑氣而帶來的煩躁情緒，然而玉蘭花卻可以說是臺灣人最熟悉卻也最不了解的植物。

總是不難在車水馬龍的馬路上看見手拿成串玉蘭花在車陣中穿梭的身影，趁著駕駛停等紅燈的空檔，高舉著手中含苞的花朵，賺取微薄的利潤維生，似乎是很常見的花卉，但是真要到花店買玉蘭花卻也不是件容易的事，通常要買樹苗回家種才能聞到那讓人醒腦的清香。事實上，玉蘭花是臺灣少數不經過花卉買賣系統而自成產銷通路的花卉，就算偶爾出現在批發市場，數量也不會太多。

臺灣本土作家呂赫若，曾在小說《玉蘭花》中，用玉蘭花的清香悠遠來隱喻臺灣的傳統文化和深厚人情。然而這種臺灣本土文化象徵之一的花朵原產地並不在臺灣，而是在海峽對岸的中國大陸南方。成書於一九一九年的《臺灣通史》記載：「玉蘭：種自廣東傳入未久。樹高數丈，花白若蘭，味極清芬。」另外有一種說法是在一六六一年鄭成功收復臺灣前，玉蘭花便由華南移民引進作為茶葉熏香的香料。雖然它在臺灣是如此普遍的香花，卻少有人注意到它是夜間開花的植物，有時可以開到隔天中午，所以採收必須在太陽初下山的七點就開始，大約採收到晚上九點左右。以人工採取長條形花苞，在天亮前就要交到各地販賣者的手中，如此緊湊的時程，也是讓它少見於花卉拍賣系統的主因。

(改寫自廖仁滄 暗香浮動蝶鳳棲——玉蘭花)

9.根據文中對玉蘭花的描述，下列說明何者正確？

- (A) 華南地區自臺灣引進玉蘭花，作為當地重要的熏香原料
- (B) 呂赫若在其小說《玉蘭花》中，記載玉蘭花的生長特性
- (C) 玉蘭花在臺灣屬於普遍的香花，卻不是臺灣的原生植物
- (D) 有關臺灣玉蘭花的紀錄，始見於一六六一年的典籍記載。

10.宏凱到農園見習，與農人一起親手採收玉蘭花，活動結束後他將心得寫在聯絡簿上。老師批改完後，發現有一處與玉蘭花的採收情形不合，根據本文，可推知是下列何者？

今天我與則任一起到陳伯伯的花田採收玉蘭花，當我開心的準備出發時，
【甲】則任告訴我現在日正當中，還不到採摘玉蘭花的時候。【乙】直到黃昏時，陳伯伯全副武裝，帶著我們出發。一路上我和則任沉浸在玉蘭花香中，
【丙】陳伯伯告訴我們手腳要快，兩個小時內必須採收完成。【丁】晚上九點多時，我和則任滿身大汗，開心看著採收成果，籃子中全都是盛開的玉蘭花。

- (A) 甲 (B) 乙 (C) 丙 (D) 丁。

澎湖縣立文光國民中學 111 學年度第 1 學期第 3 次成績評量八年級國文科【答案卷】

班級： 姓名： 座號： 讀卡 答案卷

一、國字注音(每題 1 分，共 14 分)

1.	2.	3.	4.	5.	6.	7.
8.	9.	10.	11.	12.	13.	14.

二、選詞(每題 2 分，共 14 分)

1.	2.	3.	4.	5.	6.	7.
----	----	----	----	----	----	----

三、成語配合(每題 1 分，共 12 分)

1.	2.	3.	4.	5.	6.	7.	8.	9.	10.	11.	12.
----	----	----	----	----	----	----	----	----	-----	-----	-----

四、選擇題(每題 2 分，共 40 分)

1.	2.	3.	4.	5.	6.	7.	8.	9.	10.
11.	12.	13.	14.	15.	16.	17.	18.	19.	20.

五、閱讀題組(每題 2 分，共 20 分)

1.	2.	3.	4.	5.	6.	7.	8.	9.	10.
----	----	----	----	----	----	----	----	----	-----

澎湖縣文光國民中學 111 學年度第一學期第三次段考八年級英文科試卷

班級 座號 姓名

一、聽力測驗:根據聽到的對話內容與問題,選出正確的答案(每題 2 分,共 10 分)

- () 1. (A) She is a doctor. (B) She is a teacher. (C) She is a waitress.
() 2. (A) It is very hot at the beach.
(B) There are visitors everywhere.
(C) She can't enjoy a great movie at home.
() 3. (A) A library. (B) A restaurant. (C) An apartment.
() 4. (A) There was an earthquake.
(B) The table was falling down.
(C) The boy and the girl got hurt.
() 5. (A) Everyone could get one at the store.
(B) The watch was the girl's birthday gift.
(C) The girl didn't spend any money on the watch.

二、字彙與文法選擇(每題 2 分,共 52 分)

- () 6. The cute elephants _____ many people to the zoo.
(A)design (B)print (C)draw (D)learn
() 7. The Lin family will move to the big house next month because the _____ is too small for them now.
(A)apartment (B)convenience (C)scenery (D)metro station
() 8. A: How's your school life _____? B: Everything is okay.
(A)just now (B)so long (C)so far (D)for now
() 9. People know _____ about Frank because he is a shy (害羞的) boy.
(A)a lot (B)little (C)most (D)few
() 10. _____ the Moon Festival, many Taiwanese want to have a barbecue (烤肉) party.
(A)When it comes to (B)By the way (C)Would like (D)Come up with
() 11.If (如果) your _____ stops beating (跳動), you will die.
(A)heart (B)price (C)castle (D)case
() 12.It's going to _____. Let's not go out.
(A)rainy (B)rain (C)rains (D)raining
() 13. Don't forget _____ off the lights when you go out.
(A)turn (B)to turn (C)turning (D)turned
() 14.Although (雖然) it took me lots of time _____ a big meal with my relatives, I was happy about it.
(A)have (B)having (C)to have (D)had
() 15. _____ in the meadow is so wonderful.
(A)Picnic (B)Picnics (C)Picnicked (D)Picnicking
() 16.Jane: How much does an iMac computer _____? Jenny: About forty thousand dollars.
(A)take (B)spend (C)use (D)cost
() 17.Our train will arrive in Taichung _____.
(A)ten minutes ago (B)in ten minutes (C)for five minutes (D)before twenty minutes
() 18. _____ difficult to learn a foreign language (語言).
(A)It is (B)We will (C)There are (D)There is
() 19. _____ a mask (口罩) when you go to the hospital.
(A)Wear (B)To wear (C)Wearing (D)By wearing
() 20. A: Will they have dinner with you tomorrow? B: No, they _____.
(A)won't (B)will (C)can (D)don't

【第一頁結束,背面尚有試題】

- () 21. Joshua _____ going to be at home tomorrow. He'll take a trip to Kaohsiung.
 (A)is (B)isn't (C)won't (D)will
- () 22. The workers _____ a new house last spring.
 (A)build (B)will build (C) were building (D)built
- () 23. She _____ with the dog when her mother came home.
 (A)played (B)was playing (C)is playing (D) will play
- () 24. Chloe: How long did it take Stella to walk _____ the bridge _____ the convenience store?
 David: I am not sure.
 (A)over; at (B)to; in (C)from; to (D)on; to
- () 25. A: _____ does it _____ to watch this movie? B: About two hours.
 (A)How often; cost (B)How much; spend (C)How long; take (D)How far; pay
- () 26. My cousin will go to Taipei by bus because _____ a train is expensive.
 (A)take (B)takes (C)taking (D)took
- () 27. It is interesting for them _____ this story.
 (A)understand (B)to understand (C)understood (D)understanding
- () 28. James' table is always clean because he _____ twenty minutes _____ it every day.
 (A)takes; clean (B)saves; to clean (C)spends; cleaning (D)costs; cleaned
- () 29. There _____ a basketball game in Taoyuan tomorrow afternoon.
 (A)is going to has (B)are going to be (C)will have (D)will be
- () 30. David: Did this new jacket _____ you a lot of money?
 Ken: Yes, I _____ NT\$9,000 for it.
 (A)cost; paid (B)pay; cost (C)spend; paid (D)take; spent
- () 31. Collecting postcards (收集卡片) _____ his favorite(最愛). He often shares them with his friends.
 (A)is (B)are (C)being (D)to be

三、閱讀測驗：(每題 2 分，共 18 分)

1.

Taiwanese Bian-dang in Manhattan, New York City
 5/30/ 2014 by Eva Schmidt

During lunch time, on 53rd Street, you'll see a long line of people in front of a Taiwanese food truck for their "bian-dang," a Taiwanese word for "lunch box." On the menu you can find fried chicken with rice, pork dumplings(水餃), tea eggs, and other popular(受歡迎的) Taiwanese dishes.

The owners of the food truck are Thomas and Diana Yang, two Taiwanese-Americans. This brother-sister team started their business in 2009. Back then, there were a few Taiwanese restaurants in the city and several thousand food trucks, but the Yangs were the first to sell Taiwanese food on a food truck.

At first, business was slack. People thought(認為) they were just another(另一個的) Chinese food truck, and the food truck's name, "Cravings," often made people think of desserts(甜點), not lunch. Few people would stop by and try their food. "I couldn't even give away(贈送) free food," said Thomas. To catch people's eye, they painted their truck blue, and drew Taiwan's national(國家的) flower, the plum blossom(梅花), on it. They also changed the food truck's name to "bian-dang." Soon people started to notice them, and business finally got better(更好的). Now on a good day, they can sell about 150 bian-dangs in about two hours.

So what's next for Thomas and Diana? Well, they hope one day there will be a block with Taiwanese food in the city, just like there is a Chinatown, a Korea Town, and a Little Italy. And their bian-dang food truck might just help to make that happen.

Big Apple News



- () 32. What does the news story say about the Yangs' food truck?
(A) What people love about their food.
(B) What made them start their business.
(C) How they made delicious fried chicken.
(D) How they fixed(解決) their business problems.
- () 33. What does it mean when business is slack?
(A) It is bad.
(B) It is for sale.
(C) It is growing 成長.
(D) It is open every day.
- () 34. What does that mean in the news story?
(A) A Taiwanese restaurant.
(B) A second Taiwanese food truck.
(C) A city block that sells Taiwanese food.
(D) A business that is popular(受歡迎的) across the country.

2.



Rita February 25



This was the first time I ordered from Megan's and certainly will not be my last. The cake was cheap and delicious. My mother didn't like cake, but she ate three pieces of Megan's cake. My father and I were surprised at that. It's not close to my house, but I'll order from Megan's again. (No one paid me to write this review.)



Sam July 20



My daughter, Viola, liked cars, so I ordered a cake with some car decorations on it. The cake was beautiful. When my friend saw the cake, they couldn't stop talking about it. Guess what? Viola wanted a cake with animal decorations for her birthday next month. I'm going to order her birthday cake tomorrow.



Kristina September 11




There weren't any signs outside the shop, so we spent forty minutes trying to find the store. You should make a map and put it on Facebook. After we finally got there, the clerk told us that they forgot our order. This was my first time but also my last time to order from Megan's.

certainly 當然 last 最後的 surprised 驚訝的
review 評論 decoration 裝飾品
sign 標誌 clerk 店員

- () 35. What does that mean in the reading?
 (A) Rita's mother likes Megan's cake.
 (B) Megan's is not close to Rita's house.
 (C) The cake from Megan's is cheap and delicious.
 (D) It's the first time for Rita to order Megan's cake.

- () 36. What will Viola's birthday cake look like?



- () 37. Which of the following is true in the reading?
 (A) Sam's birthday is in August.
 (B) It's hard to find where Megan's is.
 (C) Megan's paid Rita for the four-star review.
 (D) Kristina wants to order cake from Megan's again.

3.

Mr. and Mrs. Lin are taking their two children from Taipei to Hualien this weekend. They will stay there for two days and the followings (下列) are plans for their Hualien trip. In each way of transportation (交通工具), they can stay in a three-star hotel for two nights, have round tickets(來回票) of the transportation, and join each plan with a discount (折扣) of NT\$500 per (每一) person.

Traveling Plans	
Plan A:	Enjoy the one-day trip of Taroko Gorge National Park.(NT\$1,700 per person)
Plan B:	Join the whale and dolphin watching trip.(NT\$850 per person)
Plan C:	Join the one-day river trekking (溯溪) tour.(NT\$1,000 per person)
Plan D:	Join the trip of old temples, the sugar factory, and hot springs (溫泉) .(NT\$1,200 per person)

Ways of Transportation		
By train	2-2.5 hours	NT\$3,000 per person
By airplane (飛機)	50 minutes Only 2 flights (航班) a day	NT\$16,000 per person
By renting (租) a car	4-5 hours	NT\$3,300 per person Book the car two days before the trip.
By bus	3-4 hours	NT\$1,500 per person Check the timetable (時刻表) and book tickets first.

- ()38. What's the best (最佳的) way for the Lin family to travel to Hualien if (假如) they want to save both money and time?
 (A) By train. (B) By airplane. (C) By renting a car. (D) By bus.
- ()39. According to (根據) the reading, how much do the Lin family take the trains and join Plan A and Plan C?
 (A) They spend NT\$10,200. (B) They spend NT\$18,800.
 (C) They spend NT\$22,800. (D) They spend NT\$24,400.
- ()40. According to the reading, which is true about Hualien?
 (A) It's convenient for people to take planes to Hualien from Taipei every hour.
 (B) People can't enjoy hot springs here.
 (C) People can have fun of the nature of mountain and ocean (海洋) here.
 (D) There are no temples and dolphins here.

(1~40 選擇題請在答案卡上劃記)

四、依提示回答問題:寫在答案卷上(每題 2 分,共 20 分)

【試題結束—文光國中八年級英文】

澎湖縣文光國民中學 111 學年度第一學期第三次段考八年級英文科答案卷
 班級 座號 姓名

1.有了我們特別的 3D 列印機,你的夢想能成真。(翻成英文)
2.當一個外國人需要幫助時,總是會有人在那幫忙。(翻成英文)
3.看這部電影花了我兩個半小時。(翻成英文)
4.我們想在一月底前買自己的沙發。(翻成英文)
5.As Taiwanese, we should also look at the good things of our country and be proud of them. (翻成中文)
6.It takes <u>five hours</u> to go from Taipei to Kaohsiung by bus. (依畫線部分造原問句)
7.What can people do in the dining area in a convenience store? (依事實回答)
8.Will Larry mop the floor after school tomorrow? (以 be going to 改寫句子)
9.My uncle will spend three thousand dollars on his new shoes. (以 cost 改寫句子)
10.It is easy for students to use cellphones. (以動名詞為主詞改寫句子)

澎湖縣立文光國民中學 111 學年度第 1 學期第 3 次成績評量 8 年級數學科試題卷

班級：

座號：

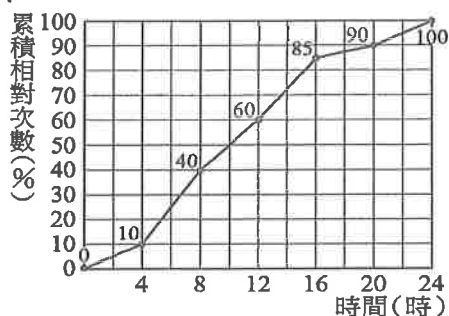
姓名：

讀卡 答案卷

一、選擇題 (每題 4 分，共 40 分)

- () 1. 下列何者為一元二次方程式?
 (A) $2x^2+x+3$ (B) $2x^2=3$
 (C) $2x+3y=5$ (D) $(x-2)(2x+3)$

- () 2. 附圖是某路段在七月所發生的交通事故之肇事時段統計累積相對次數分配折線圖，則發生事故相對次數最低的時段為何?



- (A) 4~8 時 (B) 8~12 時
 (C) 12~16 時 (D) 16~20 時

- () 3. 一元二次方程式 $x^2+5x=0$ 可配方成 $(x+a)^2=b$ 的形式，其中 a 、 b 為兩數，求 $a+b$ 之值為何?

- (A) $-\frac{15}{4}$ (B) $\frac{35}{4}$ (C) 0 (D) 5

- () 4. 判斷一元二次方程式 $x^2+8x-a=0$ 中的 a 為下列哪一個數時，可使得此方程式的兩根均為整數?

- (A) 12 (B) 16 (C) 20 (D) 24

- () 5. 下列何者是 $(x+4)(x-3)=0$ 的解?

- (A) 4, -3 (B) -4, 3
 (C) -4, -3 (D) 4, 3

- () 6. 薇薇使用配方法解 $x^2+3x-5=0$ 的步驟依序如下，試問薇薇在哪一個步驟開始發生錯誤?

- (A) 步驟一： $x^2+3x=5$
 (B) 步驟二： $x^2+3x+(\frac{3}{2})^2=5$
 (C) 步驟三： $(x+\frac{3}{2})^2=\frac{11}{4}$
 (D) 步驟四： $x=\frac{-3\pm\sqrt{11}}{2}$

- () 7. 關於 $(x+2)(x-5)=(x+2)(4x-3)$ 此方程式的敘述，下列何者正確?

- (A) 此方程式只有一根，而且這個根是分數
 (B) 此方程式有兩根，而且兩根的正、負號相同
 (C) 此方程式有兩根，而且一根為正數，一根為負數
 (D) 此方程式無解

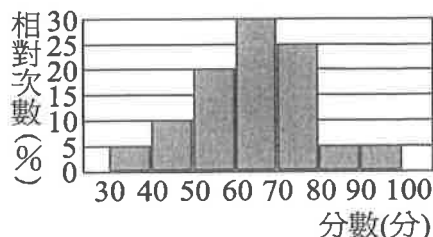
- () 8. 已知小桃、阿葦兩人均在同一地點，若小桃向北直走 160 公尺，再向東直走 80 公尺後，可到溫光國中，則阿葦向西直走多少公尺後，她與溫光國中的距離為 340 公尺?

- (A) 100 (B) 180 (C) 220 (D) 260

- () 9. 下列方程式中，哪一個的解不是重根?

- (A) $(3x-5)^2=0$ (B) $x^2-9=0$
 (C) $x^2-2x+1=0$ (D) $4x^2+12x+9=0$

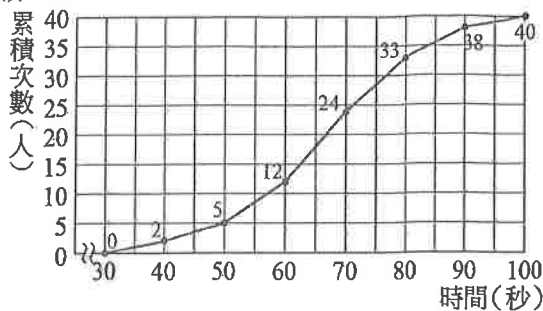
- () 10. 八年幼幼班學生共有 40 人，第一次數學測驗成績的相對次數分配直方圖如附圖。請問成績不及格(未滿 60 分)的學生共有多少人?



- (A) 11 (B) 12 (C) 13 (D) 14

二、填充題 (①~⑩每格 3 分, ⑪~⑬每格 4 分, 共 42 分)

1. 附圖為游泳隊 40 名隊員測試水中閉氣秒數的累積次數分配折線圖, 試問:



- (1) 閉氣秒數不到一分鐘的有 ① 人。
 (2) 閉氣秒數 50 秒以上, 但不到 70 秒的人數為 ② 人。

2. 在下列空格中填入適當的數:

- (1) $x^2 + 16x + \text{③} = (x + \text{④})^2$
 (2) $x^2 - \frac{2}{5}x + \text{⑤} = (x - \text{⑥})^2$

3. 解下列各一元二次方程式:

- (1) $x^2 + x - 4 = 0$, $x = \text{⑦}$ 。
 (2) $4x^2 - 4x - 3 = 0$, $x = \text{⑧}$ 。
 (4) $2x^2 + 16x + 32 = 0$, $x = \text{⑨}$ 。

4. 甲、乙兩數皆為整數, 且乙數為甲數的 2 倍多 3, 若甲、乙兩數的乘積為 44。若甲數為 x , 依題意可列出方程式為

⑩。

5. 若 $2 - \sqrt{5}$ 為一元二次方程式 $x^2 + kx - 1 = 0$ 的一根, 則 $k = \text{⑪}$ 。

6. 若方程式 $x^2 - 3|x| - 10 = 0$ 之兩根為 a, b , 則 $a + b = \text{⑫}$ 。

7. 直角三角形的三邊長為連續偶數, 則斜邊上的高為 ⑬。

三、計算題 (共 18 分)

1. 解下列一元二次方程式:

(4分)

$$x^2 + 4x - 4890 = 6$$

2. 若一元二次方程式 $2x^2 + bx + c = 0$ 的解為 4 和 -5, 求 b, c 的值。

(4分)

3. 若 m 為一元二次方程式 $x^2 - x - 2 = 0$ 的一根, 則 $\sqrt{(m-3)(m+2)+6}$ 的值為何?

(5分)

4. 烏魯木齊精品公司近期推出新的文創產品, 且當此產品售價為 100 元時, 單月銷售量會有 1500 個。然而根據市場專家調查, 售價每減少 5 元, 單月銷售量就會增加 300 個。公司董事長孔固力若想單月總收入 24 萬元, 則此產品售價可訂為多少元?

(5分)

試題結束

祝各位考試順利

澎湖縣立文光國民中學 111 學年度第 1 學期第 3 次成績評量 8 年級數學科答案卷

班級：

座號：

姓名：

讀卡 答案卷

一、選擇題 (每題 4 分, 共 40 分)

1.	2.	3.	4.	5.
6.	7.	8.	9.	10.

二、填充題 (①~⑩每格 3 分, ⑪~⑬每格 4 分, 共 42 分)

①	②	③	④
⑤	⑥	⑦	⑧
⑨	⑩		⑪
⑫	⑬		

三、計算題 (共 18 分)

<p>1. 解下列一元二次方程式： $x^2 + 4x - 4890 = 6$</p> <p style="text-align: right;">(4分)</p>	<p>2. 若一元二次方程式 $2x^2 + bx + c = 0$ 的解為 4 和 -5, 求 b、c 的值。</p> <p style="text-align: right;">(4分)</p>
<p>3. 若 m 為一元二次方程式 $x^2 - x - 2 = 0$ 的一根, 則 $\sqrt{(m-3)(m+2)+6}$ 的值為何?</p> <p style="text-align: right;">(5分)</p>	<p>4. 烏魯木齊精品公司近期推出新的文創產品, 且當此產品售價為 100 元時, 單月銷售量會有 1500 個。然而根據市場專家調查, 售價每減少 5 元, 單月銷售量就會增加 300 個。公司董事長孔固力若想單月總收入 24 萬元, 則此產品售價可訂為多少元?</p> <p style="text-align: right;">(5分)</p>

澎湖縣立文光國民中學111學年度第一學期第三次段考八年級自然科試卷

班級： 座號： 姓名：

■ 讀卡 □ 答案卷

單選題 (每題2分, 共100分)

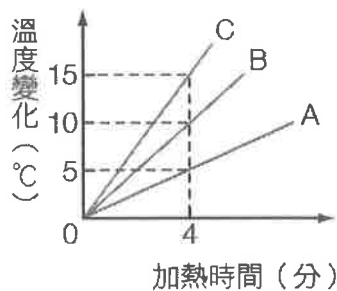
- () 阿城在錐形瓶內盛水，並於瓶塞插入細玻璃管，如附圖所示。將錐形瓶浸入 20°C 的水域時，水面高出瓶塞2公分，浸入 70°C 的水域時，水面高出瓶塞12公分。將錐形瓶放入 60°C 的熱水中，則細玻璃管內的水面最後高出瓶塞幾公分？ (A)6 (B)8 (C)10 (D)12。
- () 關於溫度計，下列四位同學的說法，何者有誤？ (A)阿哲：實驗室的酒精溫度計是利用物質熱脹冷縮的特性所製作而成 (B)西西：溫度計的管徑越大，管內液體上升或下降的高度越大 (C)小恆：耳溫槍則是利用物體不同溫度下所散發的紅外線來測量 (D)全全：傳統溫度計的測溫是利用溫度計與待測物體接觸達到熱平衡，故溫度計應該越輕巧越好。
- () 有關攝氏溫標與華氏溫標的敘述，下列敘述何者正確？ (A)攝氏溫標將水的冰點與沸點等分成100份，每一份即為 1°C (B)若測量物的溫度高於水的沸點，則無法用攝氏溫標表示 (C)華氏溫標中水的冰點為 32°F ，因此其溫標數值不會出現負數 (D)甲物為 45°C ，乙物為 50°F ，因此乙物的溫度高於甲物。
- () 凱宏某日和爸爸在觀看洋基隊的比赛，主播說當日的氣溫為 59°F ，則當時氣溫最接近多少 $^{\circ}\text{C}$ ？ (A)-5 (B)5 (C)15 (D)25。
- () 有甲、乙、丙三個物體，當甲和乙接觸時，熱能由甲流向乙；當乙和丙接觸時，熱能由乙流向丙，則三者的溫度高低，何者正確？ (A)甲>乙>丙 (B)丙>乙>甲 (C)乙>甲>丙 (D)丙>甲>乙。
- () 已知A、B為質量相等的兩個固體物質，吸收相同熱量時，A物體上升的溫度較B物體少。請參考附表，若B物體為玻璃，請推測A物體可能是哪種物質？



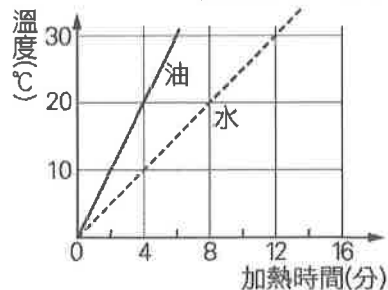
物質	銀	鋅	鐵	玻璃	鋁
比熱 (cal / (g · $^{\circ}\text{C}$))	0.056	0.093	0.113	0.143	0.211

(A)銀 (B)鋅 (C)鐵 (D)鋁。

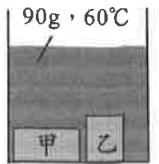
偉成取相同的三個燒杯A、B、C，裝水後在發熱均勻的酒精燈上加熱，得到溫度變化與加熱時間的關係如附圖所示，請回答7~8題：



- () 三杯水的質量比 $M_A : M_B : M_C$ 為何？ (A)1 : 1 : 1 (B)1 : 2 : 3 (C)3 : 2 : 1 (D)6 : 3 : 2。
- () 若B杯水加熱30分鐘後，恰好到達沸騰狀態，則推測其初溫應為多少 $^{\circ}\text{C}$ ？ (A)20 (B)25 (C)30 (D)35。
- () 在絕緣良好的裝置內，以相同的穩定熱源分別加熱10 g的水和10 g的油，得到溫度與時間的關係如右圖，則下列敘述何者正確？ (A)油的比熱比水大 (B)加熱相同的時間，兩者吸收的熱量相等 (C)加熱相同的時間，甘油因比熱較小，溫度上升較慢 (D)若要到達相同的溫度，甘油需要比較多的熱量。
- () 承上題，試問油的比熱為多少卡 / (公克 · $^{\circ}\text{C}$)？ (A)1.0 (B)0.8 (C)0.5 (D)0.2。
- () 已知沖泡牛奶的理想溫度為 45°C ，則 35°C 、100g的水必須加入 65°C 的熱水多少g？(假設沒有熱量散失) (A)50 (B)60 (C)70 (D)80。
- () 使用熱水袋取暖、工廠及汽車利用水來冷卻各種機械及引擎的溫度，以上主要是利用水的何種特性？ (A)無色透明 (B)比熱較大 (C)密度較大 (D)具流動性。



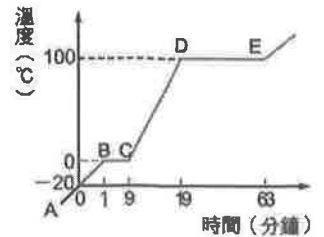
13. () 如附圖所示，恩恩在裝有90g、60°C水的燒杯中放入甲、乙兩個皆為50g、10°C的金屬塊，且乙金屬塊的比熱是甲的兩倍，若熱量散失忽略不計，達成熱平衡時的溫度為40°C，試問乙的比熱為多少cal/g·°C？ (A)0.4 (B)0.6 (C)0.8 (D)0.9。



14. () 撒哈拉的沙漠氣候，白天太熱，晚上太冷；而臺灣的海洋性氣候，早晚溫差不大，這是因為： (A)沙的比熱大，容易吸熱，也容易放熱 (B)沙的比熱小，溫度變化大 (C)海水的比熱大，溫度上升或下降變化大 (D)海水的比熱小，溫度不易明顯改變。

15. () 下列哪一種現象或反應會釋放出能量？ (A)木炭燃燒 (B)冰融化 (C)酒精蒸發 (D)植物行光合作用。

宏哲將一個100公克、-20°C的冰塊，其加熱後溫度隨時間變化的情形，如附圖所示，試回答16.~17.題：



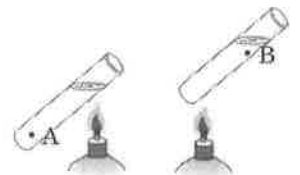
16. () 加熱5分鐘後，冰塊將處於何種狀態？ (A)固態 (B)固、液共存態 (C)液態 (D)液、氣共存態。

17. () 冰塊加熱至汽化的過程中，哪個過程所吸收的熱量最多？ (A)A至B的過程 (B)B至C的過程 (C)C至D的過程 (D)D至E的過程。

18. () 曉婷打算在寒假時與家人到韓國旅遊，行程規劃時計劃參與一項「冰魚慶典」活動，是在結冰的湖面上鑿洞，垂釣湖底的鱒魚，他查了一下旅遊期間當地的氣溫預估是-12°C~3°C，請估計一下湖底的水溫大約是多少°C？ (A)-8 (B)-4 (C)0 (D)4。

19. () 下列哪一項是屬於放熱的化學變化？ (A)冰塊融化 (B)白色硫酸銅粉末加水變成藍色 (C)粉紅色氯化亞鈷變成藍色 (D)水蒸氣凝結成水。

20. () 如附圖，在大小相同的兩試管中，裝有等量、等溫的水，以火力相等的酒精燈同時加熱。圖中A處位於左試管底部，B處位於右試管頸部，則A、B兩處水溫，何者上升較快？ (A)一樣快 (B)A較快 (C)B較快 (D)不一定。

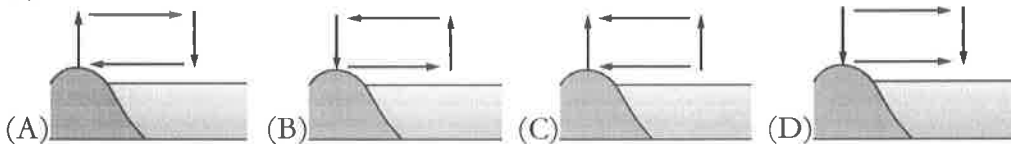


21. () 同樣材質的傘，塗上何種顏色的隔熱效果最好？ (A)傘內塗銀色，傘外塗黑色 (B)傘內塗黑色，傘外塗銀色 (C)傘內、傘外皆塗黑色 (D)傘內、傘外皆塗銀色。

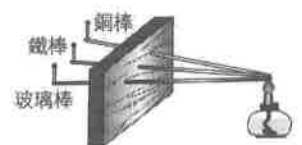
22. () 小瑜的保溫瓶各部構造如附圖所示，有關保溫瓶的功能與熱傳播原理，下列敘述何者錯誤？ (A)真空夾層可防止熱的傳導與對流 (B)內壁鍍銀是防止熱輻射的方法 (C)絕熱材質的瓶蓋可使熱不易因傳導而散失 (D)保溫瓶不適合保存低溫的冰水。



23. () 夏天豔陽高照的白天，當海陸溫差達最大時，風的流向應為下列何者？



24. () 宣萱將粗細相同的鐵棒、銅棒、玻璃棒分別穿過木板，且將一端靠在一起，並在另一端分別以蠟油黏住火柴棒，然後在靠在一起的那一端加熱，如圖所示，火柴棒距熱源有一段距離，但在加熱後卻會掉下來，此時的熱主要是以何種方式傳播？



- (A)對流 (B)傳導 (C)輻射 (D)以上皆是。
25. () 有關金屬元素的性質，下列哪一位同學的說法需要修正？ (A)阿慧：常溫常壓下，金屬都以固態存在 (B)小玉：大部分具有延性及展性 (C)佩容：大部分金屬具有銀灰色的光澤 (D)珍珍：金屬皆為電與熱的良導體。

26. () 下列關於元素性質的敘述，何者錯誤？ (A) 溴(Br)常溫常壓下為液態 (B) 鐳(La)為銀白色金屬 (C) 硒(Se)具有延展性 (D) 氣(Rn)化學性質穩定，不易反應。
27. () 有關合金的敘述，下列何者錯誤？ (A) 黃銅是銅與錫的合金 (B) 不鏽鋼是鐵與鈷、鎳等的合金 (C) K金是在金中加入銀、銅等其他金屬 (D) K金較純金堅硬。
28. () 關於元素週期表，請判斷下列敘述何者錯誤？ (A) 現代週期表依質量排列 (B) 週期表中的橫列稱為週期 (C) 同族元素的化學性質相似，例如氮、磷、砷 (D) 週期表中許多元素的性質，具有週期性與規律性的變化。
29. () 元素週期表中，「族」是利用各元素的何種特性相似而加以分類？ (A) 常溫常壓下的狀態 (B) 原子量的大小 (C) 化學性質 (D) 物理性質。

附圖為部分元素週期表，表中標示有甲~己共六種元素，試回答30.~32.題：

30. () 表中哪一元素的性質與其他三者差異最大？(A)甲 (B)丙 (C)戊 (D)己。
31. () 關於表中戊和己的敘述，下列何者正確？(A)兩者皆為非金屬 (B)戊為金屬，己為非金屬 (C)戊為鹼金屬，己為鹼土金屬 (D)兩者皆會與水反應，但劇烈程度不同。
32. () 關於表中丙和丁的敘述，下列何者正確？ (A)兩者皆為非金屬 (B)丙為鹼土金屬，丁為鹼金屬 (C)兩者屬於同一週期 (D)兩者屬於同一族。
33. () 右圖為元素週期表的一部分，下列相關敘述何者錯誤？
- (A)甲代表週期 (B)乙為元素的中文名稱
(C)丙代表原子量 (D)丁代表元素符號。

甲	—	² He	—	丁
乙	—	氮	—	
丙	—	4.003	—	

34. () 有一種神奇的魔術「水點火」：就是先將一張紙折成漏斗狀，再把尖端處放入水中，不久，整張紙就會在水中燃燒起來了，燒起來的同時水的顏色也會變紅。今天這裡要公布這個魔術的祕密：就是將鉀粒放在漏斗狀的紙裡，當水逐漸浸潤紙張時，鉀便與水劇烈反應使紙燃燒。至於水為何會變成粉紅色，其實魔術師事前就在水中加入何種物質呢？
(A)礦物油 (B)酒精 (C)酚酞 (D)石蕊。
35. () 下列關於原子的描述，何者與道耳頓原子說的觀點差異最大？ (A)物質都是由微小的原子組成 (B)原子可再分割成更小的粒子 (C)相同元素的原子，其原子的質量與性質均相同 (D)化合物是由不同種類的原子以固定比例所結合而成。
36. () 科學家卜利士力以凸透鏡將陽光會聚在紅色的氧化汞上，發生的變化可表示為：氧化汞→汞+氧。根據上述反應，請判斷下列敘述何者錯誤？ (A)此反應為化學變化 (B)氧化汞是純物質 (C)汞與氧無法再用一般化學方法分解出其他物質 (D)氧化汞是元素。
37. () 有關原子內三種基本粒子的敘述，下列何者錯誤？

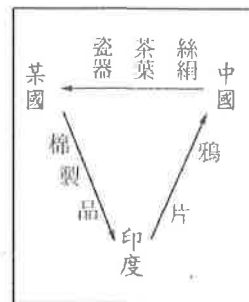
選項	粒子	質子	中子	電子
(A)	發現者	拉塞福	查兌克	湯姆森
(B)	發現順序	最晚	其次	最早
(C)	質量對比	1	1	1/1836
(D)	電量電性	帶正電	不帶電	帶負電

澎湖縣立文光國民中學 111 學年度第 1 學期第 3 次成績評量 8 年級歷史科試卷

班級： 姓名： 座號： 讀卡 答案卷

一、 單選題(1~15 題，每題 2 分；共 30 分)

- () 1. 右圖是西元 19 世紀前期某國與中國的三角貿易關係，箭頭所示代表輸出的商品。圖中的某國應是哪個國家？(A)法國(B)英國(C)荷蘭(D)西班牙。
- () 2. 某段時期曾出現這樣的言論：「此鸞語拳亂已起，皇太后始請乩，其識謂庚子年義和拳，丙午年真主降生，甲子由秦中到燕京。」請問：此應發生於哪個戰爭爆發前夕？
(A)鴉片戰爭 (B)英法聯軍 (C)甲午戰爭 (D)八國聯軍。
- () 3. 每個時代都有自己的審美觀念，現代的臺灣若回溯過往二十年來的髮型、裝容、服裝，也可以看到相當不同於今天的審美，很難想像短短二十年內的審美差異會如此之多。請問：清朝末年的審美觀開始有較大轉變，最可能是從何處開始興起？
(A)朝廷內部 (B)通商口岸 (C)各國使館 (D)官宦之家。
- () 4. 自強運動期間，官員在各地籌辦鐵路，卻有人認為築鐵路會破壞龍脈。請問：由此例可推斷哪項自強運動失敗的原因？ (A)改革重心偏向軍事與經濟 (B)政策缺乏完整規畫 (C)忽視西方的政治制度與思想觀念 (D)守舊派人士的攻擊。
- () 5. 中國改革運動的推動，皆有受到一些外來事件的刺激。請問：以自強運動、戊戌變法而言，這兩次的改革分別是受到什麼樣的刺激？ (A)英法聯軍、甲午戰爭 (B)鴉片戰爭、甲午戰爭 (C)鴉片戰爭、英法聯軍 (D)牡丹社事件、中法戰爭。
- () 6. 詹姆士是乾隆時期的英國商人，他來到中國經商。請問：下列哪一個狀況是他會遇到的？
(A)到中國北京去買賣古董 (B)與福建巡撫討論貿易事宜 (C)面見清朝皇帝，達成通商協議 (D)將鴉片運到廣州進行買賣。
- () 7. 在馬關條約中，日本要求清朝允許日人在各通商口岸設立工廠，後來西方人也都可以照章辦理，不用另簽條約。請問這是因為清朝與西方列強簽訂的條約中，有哪個條款？ (A)租界 (B)協定關稅 (C)片面最惠國待遇 (D)領事裁判權。
- () 8. 清末曾有人說：「而今也於東方大陸，有最大之國，最賤之壤，最腐敗之政府，最散弱之國民。彼族一旦窺破內情，於是移其所謂民族帝國主義者，如群蟻之附羶，如萬矢之向的，離然而集注於此一隅。彼俄人之於滿洲，德人之於山東，英人之於揚子江流域，法人之於兩廣，日人之於福建，亦皆此新主義之潮流，迫之不得不然也。」意思是中國政局腐敗，國土被帝國主義侵略者占據瓜分。依照這位知識分子所描述的清朝政局推斷，這應該是哪一場戰爭後，才有如此的局勢？
(A)鴉片戰爭 (B)英法聯軍 (C)甲午戰爭 (D)八國聯軍。
- () 9. 建毅在報紙上看到如附圖的報導。請問：圖中的報導所提到的賠款，是依據下列哪一個條約的規定？ (A)《南京條約》 (B)《馬關條約》 (C)《辛丑和約》 (D)《北京條約》。
- () 10. 傳統中國的文化價值以儒學為主，也限制了女性的社會位置。強調「女子無才便是德」，「德」與「才」互相排斥，也看出男性、女性在社會要求之下的差異。清末維新變法的發起者康有為認為「中國婦女如此的生存狀態，就是中國落後的象徵。如同『民主』、『自由』引進中國一樣，女性的解放也應該被認同和實踐。」由上文內容推斷，可以歸納出哪一項結論？ (A)改變儒學價值對社會的影響 (B)「德」與「才」應以「才」為重 (C)「自由」「民主」為女性實踐自我價值的方式 (D)女性解放是現代化的指標。
- () 11. 這個地方是自《南京條約》以來出現的「國中之國」，在晚清時期成為中國接觸世界的窗口。請問：下列關於當時上海該區內的描述何者正確？ (A)義和團的拳民在此區內殺人 (B)各國的公使館皆位於此區內 (C)領事裁判權是因此區而出現 (D)自來水或電燈進入市民生活。



清華大學歡度百年校慶，但許多人可能不知道，與中華民國同壽的清大，創校源自近代中國的苦難歷史。滿清政府因八國聯軍之役慘敗而有「庚子賠款」，清大就是運用美國退還的庚子賠款而設立；但這筆錢的利息一直是臺灣清華獨享，北京清華反而沒有。

【第 1 頁結束 後面尚有試題】

- () 12. 中國首位駐英使節郭嵩燾，在了解歐洲政治與教育梗概後，有「西洋政教、製造，無不出於學」的感嘆，他盛讚西方現代化的管理概念和政策，建議清廷加以仿效，卻引起滿朝文武的誤解，認為他想向英國稱臣，最後被迫辭職。請問：郭嵩燾的遭遇，顯示當時中國推動的改革仍局限於哪個層面？ (A)制度 (B)器物 (C)思想 (D)文化。
- () 13. 英國在十九世紀時大量走私鴉片進入中國，以達成其商貿上的目的，當時英國進口鴉片到中國的目的為何？ (A)中國對鴉片有需求 (B)減少對華貿易的入超 (C)鴉片的關稅較低 (D)鴉片的品質良好，物美價廉。
- () 14. 劉圓在閱讀歷史資料時，看到如附圖的資料。請問：劉圓的報告主題最有可能是下列哪項？ (A)〈清末的百日戊戌變法〉 (B)〈明治維新的成功〉 (C)〈皇民化運動的始末〉 (D)〈革新圖強的自強運動〉。
- () 15. 清末推行自強運動，總理各國事務衙門是當時成立的第一個新機構。該機構最初設立的目的最可能為下列何者？(A)籌辦議會政治 (B)辦理外交事宜 (C)籠絡境內民族 (D)裁決司法案件。

- 一、精簡政府機構的作法，引起許多守舊派分子的不滿。
- 二、主導人物康有為、梁啟超受到英、日的援助，逃亡海外。

二、題組(第 16~60 題，每題 1 分，共 5 分)

1. 請閱讀資料，回答下列問題：

- () 16. 文中提到廣州、上海等地與四川、九華等地的場景有著極大差別，下列哪一敘述符合「從廣州、上海到四川、九華」的變化？ (A)從古色古香的傳統廟宇到洋房林立 (B)從西洋樓閣到傳統中國式建築 (C)從深山峻嶺到壯闊的海岸線 (D)從黃沙滾滾到一幢幢的洋房林立
- () 17. 文中提到服裝上也有極大的改變。請問主要的改變可能是下列何者？ (A)男性換上西裝，女性穿上洋裝 (B)男性穿著長袍馬褂，女性穿著端莊旗袍 (C)無論男女，皆習得騎馬狩獵的技巧 (D)男性編著小辮子，女性裹小腳。
- () 18. 根據上文得知，「中華一番」所描繪的時代背景可能是下列何者？ (A)唐末宋初 (B)宋末元初 (C)元末明初 (D)清末民初。

著名動畫「中華一番」最近重製，加入了更多細緻的畫風，以及延續舊著的劇情。其中我們也可以看到主角小當家到各地尋找「傳說中的廚具」時都市場景的風貌。從廣州到上海的國際都市場景、還是四川、九華的純樸農村風格，都讓劇情走得更加流暢。除此之外，走在街道上的人們服裝也有所變化，也增加了許多外國人面孔。讓觀賞動畫的觀眾們更能夠「神入」劇情裡的時空背景。

2. 請閱讀資料，回答下列問題：

西元 1852 年，美國派遣艦隊與日本通商，但因日本拒絕，導致美國強制以武力打開日本的通商門戶，稱為「黑船事件」。此事件後，日本急起直追，進行一連串的西化改革，並對外侵略。

- () 19. 日本進行一連串的西化改革，應是下列何者？ (A)明治維新 (B)維新變法 (C)自強運動 (D)庚子後新政。
- () 20. 日本在哪一場戰爭的勝利，被認為是「君主立憲」的勝利，也促使中國知識分子推動國內的「立憲運動」？ (A)吞併琉球 (B)併吞朝鮮 (C)擊敗中國 (D)日俄戰爭。

【試題結束—文光八年級、歷史科】

澎湖縣立文光國民中學 111 學年度第 1 學期 第 3 次成績評量 8 年級公民科試卷

班級：_____ 姓名：_____ 座號：_____ 讀卡 答案卷

一、單一選擇題（十五題，每題 2 分，共 30 分）

21. () 二手菸害議題引發關注，【甲】結果指出，有高達 8 成 6 民眾支持在《菸害防制法》增列「應逐年降低二手菸害」的條文；超過 7 成 9 民眾支持全面禁售紙菸，以維護青少年遠離菸害。【甲】應是指下列何者？ (A) 集會 (B) 遊行 (C) 民意調查 (D) 陳情抗議。
22. () 紙菸吸菸者面臨的健康風險，主要來自燃燒時菸霧含有許多有毒物質，有逾 7 成民眾支持能減少汙染與危害的「非燃燒式」菸草產品，但有 3 成民眾認為此類產品仍會造成健康風險而反對。文中畫線處呈現出公共意見的哪一項特性？ (A) 議題性 (B) 複雜性 (C) 變動性 (D) 影響性。
23. () 育哲用投票的方式表達個人對右圖事務的立場：這種向政府表達公共意見的方式為下列何者？ (A) 選舉投票 (B) 公民投票 (C) 參加遊行 (D) 民意調查。
24. () 大選過後，天龍國的主要政黨得票情形為：A 黨 62%、B 黨 32%、其他 6%，A 黨成功翻轉新格局。而在政權完成交接後，A、B 兩黨的新角色依序為何？ (A) 執政黨，組織政府；在野黨，監督政府 (B) 在野黨，監督政府；執政黨，組織政府 (C) 執政黨，監督政府；在野黨，組織政府 (D) 在野黨，組織政府；執政黨，監督政府。
25. () 卉育在行事曆上記錄了未來一星期的活動行程，包括右側四項：其中哪一項屬於政治參與的方式？ (A) 甲 (B) 乙 (C) 丙 (D) 丁。
26. () 依據我國某選區某類型的選舉結果公告，當選者為 1 號與 5 號兩位候選人，由上述可以判斷此為何種公職人員的選舉？ (A) 臺東縣長 (B) 高雄市長 (C) 澎湖縣七美鄉長 (D) 屏東縣議員。
27. () 下列有關直轄市長、縣(市)長、鄉(鎮、市)長、直轄市山地原住民區長任期的敘述，何者正確？ (A) 任期 4 年，連選得連任 (B) 任期 4 年，連選得連任一次 (C) 任期 6 年，連選得連任 (D) 任期 6 年，連選得連任一次。
28. () 在投票日當天，廷亦親自帶著相關證件到投票所領取選票，投票給心目中理想的總統候選人。上述廷亦親自去投票的行為，符合選舉的何種原則？ (A) 普通 (B) 平等 (C) 直接 (D) 無記名。

議題名稱		
議題內容	同意	不同意
票數	16	
主題	您是否同意：廢除 電業法第95條第1 項，即廢除「核能 發電設備應於中華 民國一百十四年以 前，全部停止運轉」 之條文？	
備註		

- (甲)到合歡山健行
- (乙)參加馬拉松路跑比賽
- (丙)到美式餐廳與大學同學聚會
- (丁)參加市長候選人的競選辯論會

【第 3 頁結束—背面尚有試題】

29. () 喬巴今天去參加總統和立法委員選舉的投票，投完票他開心的在社群網站上打卡，並上傳一張已蓋章選票的照片。姐姐看了很擔心，因為喬巴貼文的內容已經違法了。喬巴的行為違反下列何種投票原則？
(A)普通原則 (B)平等原則 (C)直接原則 (D)無記名原則。
30. () 「一人一票，票票等值」指的是下列哪一種選舉原則？
(A)普通 (B)平等 (C)直接 (D)無記名。
31. () 女人的年齡一直是個祕密，吳震于終於得到選民的支持，當選了台中市市長，由此可知吳震于至少已年滿幾歲？ (A)23歲 (B)26歲 (C)30歲 (D)40歲。
32. () 具有投票資格的公民，在投票日當天，依規定應攜帶哪些物品到指定的投票所投票？
(甲)印章 (乙)健保卡 (丙)選舉公報 (丁)國民身分證 (戊)投票通知單
(A)甲乙丙 (B)甲丙戊 (C)甲丁戊 (D)丙丁戊。
33. () 選舉委員會在選舉投票前，透過大眾傳播媒體呼籲：「請選民不要攜帶手機或任何具照相、錄影功能的器材進入投票所，不然會被處以3萬元到30萬元罰鍰，如果選民是使用攝影器材刺探選舉人圈選選舉票內容，還會被重罰5年以下有期徒刑，併科50萬元以下罰金，被查獲的攝影器材也會被沒收。」上述規定，應與下列何種選舉原則最有關係？ (A)普通 (B)平等 (C)直接 (D)無記名。
34. () 在我國，要具備總統、副總統的投票資格，戶籍必須設在選舉區達幾個月以上？
(A)3個月 (B)4個月 (C)6個月 (D)12個月。
35. () 關於我國公職人員選舉的過程，下列順序何者正確？
(A)選舉公告→登記參選→競選→投票→開票→當選公告
(B)登記參選→選舉公告→競選→投票→開票→當選公告
(C)選舉公告→登記參選→競選→投票→當選公告→開票
(D)當選公告→競選→投票→開票→登記參選→選舉公告。

二、配合題：(五題，每題1分，共5分)

(一) 試針對下列的文字說明，找出適當正確的配對：

- A. 議題性 B. 複雜性
C. 影響性 D. 變動性

36. () 社會成員針對共同面臨的特定議題表達意見想法。
37. () 公共意見的形成，影響政治人物或政府的作為，促使其推動或制定符合公共意見的政策。
38. () 已經形成的公共意見可能因為時空的變化，或是其他的因素造成民眾的立場隨之改變。

(二) 試針對下列的文字說明，找出適當正確的配對。

- A. 利益團體
B. 政黨

39. () 以執政或促進和保障特定政治思想、政治利益為目標的團體。
40. () 為了影響公共政策與政府決策，會使用不同的方式來表達意見與訴求，例如：遊說、示威、宣傳。

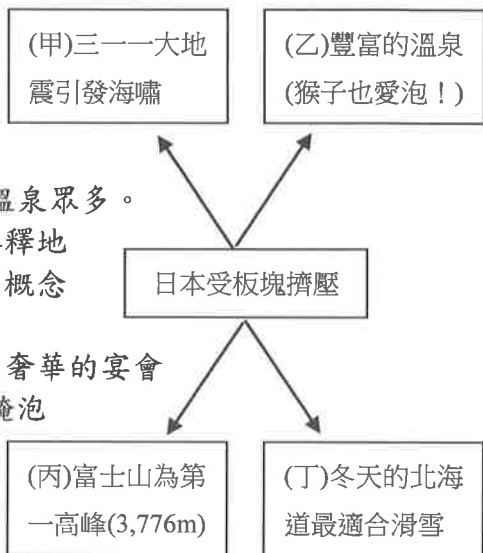
【第4頁結束—背面尚有試題】

澎湖縣立文光國民中學 111 學年度第 1 學期 第 3 次成績評量 8 年級地理科試卷

班級：_____ 姓名：_____ 座號：_____ ■ 讀卡 □ 答案卷

一、單一選擇題（十題，每題 2 分，共 20 分）

41. () 根據氣候型態可以將亞洲劃分為四大地區，請問：東北亞(日韓)應該為哪一種氣候區？ (A)熱帶氣候區 (B)季風氣候區 (C)高地氣候區 (D)乾燥氣候區。
42. () 日本地震頻繁，且有火山地形，境內「富士山」就是一座活火山，這應與何項因素有關？ (A)緯度橫跨廣 (B)經度範圍大 (C)處板塊交界 (D)高低壓多變。
43. () 右圖為日本列島分布圖。圖中甲、乙分別為下列何者？
 (A)甲：九州；乙：本州 (B)甲：四國；乙：九州
 (C)甲：北海道；乙：九州 (D)甲：北海道；乙：本州。
44. () 為了慶祝孩子的成長，日本有男孩節。男孩節的時間在夏季，此時許多人家會在門前掛起鯉魚旗，期望自己家的男孩可以鯉躍龍門，一躍成龍。依據日本夏季的盛行風向判斷，此時旗幟多朝哪一個方向飄去？
 (A)東北 (B)東南 (C)西南 (D)西北。
45. () 臺灣與日本均位於東亞島弧上，在環境上有其相似性，下列何項說明錯誤？
 (A)高山眾多，平原狹小 (B)坡陡流急，富含水力
 (C)冬夏季風，方向一致 (D)地震頻繁，溫泉眾多。
46. () 家家學習東北亞地理時，自製了一張心智圖來解釋地理現象的因果關係，但下列何者與心智圖中間的概念明顯不符？(A)甲 (B)乙 (C)丙 (D)丁。
47. () 南韓有句俗話說：「泡菜是半個糧食」。不管多奢華的宴會飲食，餐桌上也少不了泡菜，尤其過冬之前是醃泡菜的季節，傳統上每家大約要醃 100~150 顆白菜。請問：這種習俗主要是配合南韓何項環境特色而形成？
 (A)梅雨季長，食物保存不易 (B)冬季嚴寒，缺乏新鮮蔬菜
 (C)降水量稀少，無法種植蔬菜 (D)夏季酷熱，食物容易敗壞。
48. () 右圖為亞洲某半島的山脈形勢，其中甲地區所指的應為下列哪一地形區？ (A)黃土高原 (B)青藏高原 (C)蓋馬高原 (D)蒙古高原。
49. () 日本、南韓推動智慧型農業政策，如農業產銷輔助人工智慧、無人駕駛耕耘機等，這項政策的推動除了因應未來市場需求以外，還受到什麼因素的影響？ (A)氣候異常愈發頻繁 (B)國土空間嚴重不足 (C)農業勞動人口減少 (D)水土流失增加風險。
50. () 「日本現有人口約 1.26 億，而 65 歲以上的人口已超過四分之一。其中，至少百萬人為癡呆患者，因此常發生失蹤或誤闖火車軌道不幸被撞身亡的事故。除了許多民間團體發起協助尋找失蹤人口的行動，政府也為了減輕家庭負擔，投入資源擴大社區看護範圍。」上述內容主要在說明目前日本哪一項人口現象所衍生的問題？ (A)少子化 (B)人口老化 (C)勞動力不足 (D)都市人口過多。



【第 5 頁結束—背面尚有試題】

二、題組：(十題，每題1分，共10分)

(一) 朝鮮半島特殊的交通地位讓朝鮮深受兩個鄰國的勢力影響，更於第二次世界大戰後處於長期分裂、衝突的情勢。請問：

51. () 朝鮮半島與中國的國界大致以下列哪一條河流或山脈為界？(A) 太白山脈 (B) 長白山 (C) 漢江 (D) 蓋馬高原。
52. () 南韓總統曾因登上具爭議的領土獨島(竹島)，引發日方不滿，其位置如圖所示。請問：這個具爭議的島嶼，應位在下列哪一個海域？(A) 黃海 (B) 南海 (C) 日本海 (D) 北極海。
53. () 南、北韓雙方曾在圖中「X」附近的海域發生衝突，則臺灣媒體的相關報導中，最可能使用下列何者當作新聞標題？
(A) 南海衝突，一觸即發 (B) 黃海衝突，一觸即發
(C) 北極海衝突，一觸即發 (D) 日本海衝突，一觸即發。



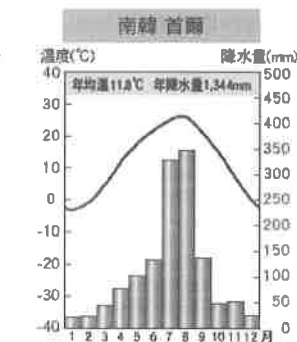
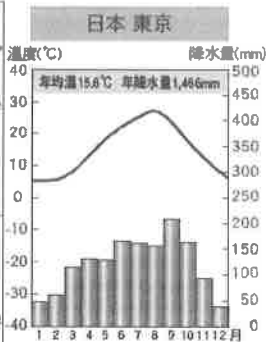
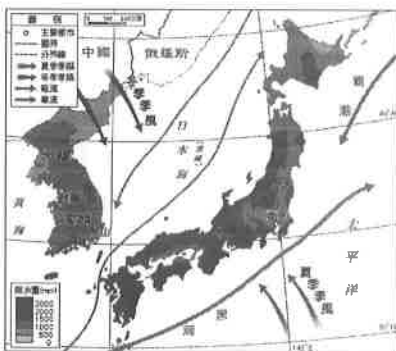
(二) 日本使用年號來紀年的方式仿自於中國；而在南韓，農曆過年、端午、中秋則並列為年度三大節日，歲時節慶與中國相似。此外，中、日、韓三國的人們為了適應各自不同的自然環境，也發展出各具特色的住屋形式與設施。請回答以下問題：

54. () 上述國家在文化、制度上相仿或相似的原因為下列何者？
(A) 地理位置相近 (B) 地形種類相同 (C) 氣候條件相似 (D) 人民種族相同。
55. () 一個地區的住屋形式與、設施與其氣候條件息息相關，然而下列哪一種建築或居住設施，其設置的考量與氣候無關？ (A) 中國黃土高原的人們多闢窯洞而居 (B) 南韓的人民在屋中設置暖炕設施 (C) 日本合掌村使用傾斜度較大的屋頂 (D) 日本房舍多以輕質木造建築為主。

(三) 受新冠肺炎(COVID-19)疫情影響，導致全球的宅經濟崛起，也帶動了任天堂Switch和Sony PS4等遊戲機的熱賣。

56. () 上述熱賣的遊戲機來自哪一個國家？ (A) 日本 (B) 南韓 (C) 臺灣 (D) 北韓。
57. () 該國的許多生產部門外移至中國、馬來西亞、菲律賓等地，主要是考慮了上述國家的何項條件？ (A) 動力充足 (B) 交通便利 (C) 市場廣大 (D) 薪資較低。

(四) 附圖為東北亞季風、洋流與降水量的分布圖與東京、首爾地區的氣候圖。請問：



58. () 根據東京的氣候圖，研判日本的氣候應屬於下列何種？
(A) 熱帶季風氣候 (B) 副熱帶季風氣候 (C) 溫帶季風氣候 (D) 草原氣候。
59. () 東北亞冬、夏季節各吹哪一個方向的風？
(A) 冬--東南風、夏--西北風 (B) 冬--西北風、夏--東南風
(C) 冬--西南風、夏--東北風 (D) 冬--東北風、夏--西南風。
60. () 流經日本列島的寒、暖洋流分別為下列何者？
(A) 寒流--黑潮、暖流--親潮 (B) 寒流--親潮、暖流--黑潮
(C) 寒流--黑潮、暖流--中國沿岸流 (D) 寒流--中國沿岸流、暖流--親潮。

【試題結束—文光8年級社會科】