

班級：

姓名：

座號：

讀卡 答案卷

一、成語辨識與應用題(每題 2 分)

A. 鳳毛麟角 B. 一蹴可幾 C. 吉光片羽 D. 不可言喻 AB. 歃血為盟 AC. 哀毀骨立
AD. 布衣之交 AE. 分爨而食 BC. 黯然神傷 BD. 鳳凰于飛 BE. 血流漂杵 DE. 白璧無瑕

1. 昭明太子為生母守喪時哀痛欲絕，原本腰帶十圍的他瘦到只剩一半，真是()。
2. 小明和哥哥在父母過世後就()，但是仍然一起過年維持好感情。
3. 「秀才遇到兵，有理說不清」，這種胡攪蠻纏的人真是()。
4. 「一將功成萬骨枯」，每個朝代的更迭總會殺到橫屍遍野、()。
5. 想要完成這件公提案要循序漸進、徐徐圖之，絕不可能()。
6. 這種有情有義的人在現今功利社會中已經是()，你真的很幸運可以嫁給他。
7. 今天是阿嬌和阿明兩人的大喜之日，同學們相約前往祝賀他們()、永結同心。
8. 泰山刻石的碑石至今已殘碎，我們只能從碑上殘存的()中一窺小篆之美。

二、生字題(每題 2 分)

()9. 選出正確的國字注音，(跟)(ㄍㄨㄥ)：

A. ㄍㄨㄥ 槍 B. ㄍㄨㄥ 倉 C. ㄍㄨㄥ 搶 D. ㄍㄨㄥ 踰。

()10. 如(ㄍㄨㄥ)薄冰的正確國字是：A. 履 B. 屨 C. 屣 D. 屨

()11. 沉(ㄍㄨㄥ)一氣的字音與何字相同？：A. 謝 B. 協 C. 寫 D. 些

()12. 選出正確的國字注音，(ㄍㄨㄥ)(ㄍㄨㄥ)：

A. ㄍㄨㄥ 又 ㄍㄨㄥ B. ㄍㄨㄥ 又 ㄍㄨㄥ C. ㄍㄨㄥ 又 ㄍㄨㄥ D. ㄍㄨㄥ 又 ㄍㄨㄥ

()13. 嘴(ㄍㄨㄥ)的正確國字是：A. 纏 B. 饒 C. 蟾 D. 讒。

()14. (ㄍㄨㄥ)(ㄍㄨㄥ)吞棗正確的國字注音，：

A. ㄍㄨㄥ 倫 B. ㄍㄨㄥ 倫 C. ㄍㄨㄥ 圖 D. ㄍㄨㄥ 圖。

()15. (ㄍㄨㄥ)目結舌的正確國字是：A. 撐 B. 膛 C. 瞠 D. 程。

()16. 吞(ㄍㄨㄥ)的正確國字是：A. 嗜 B. 噬 C. 舐 D. 弑。

()17. 牆壁(ㄍㄨㄥ)裂的正確國字是：A. 均 B. 鈞 C. 軍 D. 龜。

三、單選題(每題 2 分)

- ()18. 「科舉制度本想對中國知識分子作一番選擇的，沒想到選擇過程變成了塑造過程，而這種塑造有一部分是惡性的。科舉像一面巨大的篩子，本想用力地顛簸幾下，在一大堆顆粒間篩選良種，可是實在顛簸得太狠太久，把一切上篩的種子全給顛壞了。科舉像一個精緻的開口，本想匯聚散逸處處的溪流，可是坡度挖得過於險峻，把一切水流都翻捲得又渾又髒。」有關上文的敘述，何者錯誤？
- A. 「科舉像一個精緻的開口」指科舉制度能把各地的優秀人才匯聚在一起
 - B. 「把一切上篩的種子全給顛壞了」是說科舉制度對讀書人造成不良的影響
 - C. 「科舉像一面巨大的篩子」，指最早設計科舉制度的目的是為了籍制讀書人
 - D. 「選擇過程變成了塑造過程」與現今教育「考試方式影響教學」的情況相近。
- ()19. 「一次，蘇東坡退朝回家，指著自己的腹部問侍婢：『你們有誰知道我這裡面有些什麼？』有一人答：『文章。』另一個人說：『見識。』蘇東坡搖搖頭。侍妾朝雲笑道：『您一肚子不合時宜。』蘇東坡聞言笑道：『知我者，唯有朝雲也。』」有關上文的說明，下列敘述何者最恰當？
- A. 東坡當日上朝時的身體狀況不佳
 - B. 朝雲藉機嘲笑東坡身材發福走樣
 - C. 東坡藉讚美朝雲來調侃其他侍婢
 - D. 東坡的見解不被朝廷主流所認同。

- ()20. 有人曾詢問蔡珠兒對「無國界料理」的看法。她認為：「有些廚師不知該如何好好煲一鍋廣東湯，索性粵式、臺式混一起，美其名為臺粵式；不知道如何扎實的做一鍋西班牙海鮮飯，就來個義式臺式混合。甚或根本就興之所至，方便取材，冒然改變了食物的味道。」根據上文，蔡珠兒對「無國界料理」廚師的評價為何？
- 肯定他們別出心裁，勇於突破料理既定框架
 - 認為他們畫虎類犬，基本功不足就隨意烹調
 - 批評他們崇洋媚外，忽視傳統料理的價值
 - 覺得他們通權達變，迎合顧客喜好而創新。
- ()21. 「導演摩根想探討美國的速食文化，決定自行擔綱主角，拍一部連續三十天三餐只吃麥當勞的低成本紀錄片麥胖報告。開拍前其健康狀態良好，但三十天後他被診斷有憂鬱症和肝臟衰竭。影片一發行即引發爭議，有人開始檢討速食對消費者的身心危害，但也有人認為此片僅從個人經驗著手，不但缺少廣泛證據，其焦點也不夠清晰。」關於本文，下列說明何者正確？
- 麥胖報告是摩根斥資鉅額，自導自演的紀錄片
 - 麥胖報告紀錄片中，摩根僅僅改變了生理狀況
 - 麥胖報告上映後，受到廣大觀眾的喜愛與肯定
 - 麥胖報告遭人詬病，認為這只是個案而非通例。
- ()22. 東坡嘗云：「東坡居士自今日以往，早晚飲食，不過一爵一肉。有尊客，盛饌則三之，可損不可增。有召我者，願以此先之，主人不從而過是者，乃止。一曰安分以養福，二曰寬胃以養氣，三曰省費以養財。」根據本文，下列敘述何者最恰當？
- 每次餐飲時，各種酒都要搭配特定肉品
 - 款待賓客時，至少準備三道以上的盛饌
 - 自己受邀時，則以客隨主便的心態面對
 - 不論對己或待客，飲食都必要有所節制。
- ()23. 根據射鵰英雄傳故事脈絡的發展，下列情節的排列順序何者正確？甲、郭靖背黃蓉上山求醫，在石梁要衝處遇書生擋路 乙、書生出析字謎，黃蓉迅速解出謎底並揭曉其身分 丙、黃蓉妙解論語，引起書生好奇而決定出題測試黃蓉 丁、書生依約讓路，並對黃蓉的機智與郭靖的武藝大為佩服 戊、書生藉「絕對」為難黃蓉，卻遭黃蓉化解並暗諷其師兄弟 己、書生即景出上聯自抬身分，黃蓉也即景對出下聯譏諷書生
- 甲→己→丙→丁→戊→乙
 - 丙→乙→甲→戊→己→丁
 - 丁→甲→丙→乙→己→戊
 - 甲→丙→乙→己→戊→丁。
- ()24. 黃蓉回答書生：「魑魅魍魎，四小鬼各自肚腸」，其用意為何？
- 讚許四名弟子足智多謀，所出難題神鬼莫測
 - 暗諷四名弟子各懷心機，刻意刁難來訪客人
 - 肯定其居住環境極佳，達到鬼斧神工的境界
 - 感嘆世道衰微，戰亂不斷，讓人飢寒起盜心。
- ()25. 根據射鵰英雄傳的情節發展，對黃蓉機智靈敏的說明，下列何者錯誤？
- 刻意曲解書生所讀的論語篇章，以吸引他的注意
 - 從書生的模樣推測其來歷後，判斷出析字謎謎底
 - 將夏荷凋零之景融入對句，營造淒苦情感以博得書生同情
 - 借用父親的對句，巧妙應對書生的「絕對」，以化解難題。
- ()26. 「武俠小說多以武林俠客作為主角，他們憑藉精妙的武功招式，四處行俠仗義，贏得眾人信賴。不過也有人認為武俠小說是『男性沙文主義』的心理滿足，因為小說裡的男俠，幾乎是女性角色的傾慕對象，是她們獲取安全感的主要來源。然而，在『智鬥書生』一文裡，我們難得看到女性獨當一面的情節，打破武俠小說由男性擔綱主角的窠臼。此創作固然別出心裁，但綜觀整個武俠小說界的創作，這種潛在的既定模式仍難以被突破。」請問就上述內容來看，何者是作者意圖陳述的主要論點？
- 武俠小說最精彩的部分是角色在武功招式上的互相較勁
 - 武俠小說的性別描寫失衡，刻畫女性角色的篇幅比較少
 - 武俠小說遵循男性沙文主義的精神，就連「智鬥書生」亦然
 - 武俠小說描寫男性角色的篇幅居多，故女性讀者遠少於男性。
- ()27. 「蘇東坡那一封封用美妙絕倫、光照中國書法史的筆墨寫成的信，千辛萬苦地從黃州帶出去，卻換不回一丁點兒友誼的信息。」此段話透露出何種訊息？

- A. 朋友不了解蘇東坡書法的價值 B. 朋友擔心被波及刻意保持距離
C. 黃州太過偏僻，書信難以到達 D. 朋友分散各地，書信聯絡不易
- ()28. 蘇東坡「經歷了一次整體意義上的脫胎換骨」，「脫胎換骨」指的是什麼？
A. 體魄鍛鍊後，由文弱變強健 B. 能夠與寂寞孤獨好好地相處
C. 由鋒芒畢露轉變為沉穩內斂 D. 深切地悔悟過去的政治立場
- ()29. 「與古往今來許多大家一樣，成熟於一場災難之後，成熟於滅寂後的再生，成熟於窮鄉僻壤，成熟於幾乎沒有人在他身邊的時刻。」有關文旨下列何者最貼切？
A. 求人不如求己 B. 出淤泥而不染 C. 孤獨使人絕望 D. 困厄使人成熟
- ()30. 蘇軾又答王庠書：「書富如入海，百貨皆有。人之精力不能兼收盡取，但得其所欲求者爾！」這句話的主要涵義，與下列何者最接近？
A. 盡信書，則不如無書 B. 讀書百遍，則其義自見
C. 好高求速，學者之通患 D. 學貴約取，不以泛濫為高。
- ()31. 根據我們的饕餮時代所示，作者不斷地吃著爆米花的原因為何？
A. 爆米花太可口，讓她愛不釋手 B. 作者飢腸轆轆，以致狼吞虎嚥
C. 因友人的分享，一時盛情難卻 D. 不由自主的反射動作藉以紓壓
- ()32. 「這年頭到底什麼是主食，什麼是零食？小時候媽媽總是說，正餐之前不可以吃零食，但是這條原本清楚嚴明的分界線，現在逐漸變得漫漶模糊，甚至互相錯位了。」這段話主要想表達什麼？
A. 人們分辨主食、零食的標準，已隨著時代演進而不同
B. 以往母親管教過於嚴格，現今作者已不再遵循此要求
C. 現代食物的成分標示不清，讓人不清楚自己吃了什麼
D. 零食的營養價值高於主食，已逐漸取代了主食的地位
- ()33. 「以脂肪窒息焦慮，用糖漿淹死憂傷；酗可樂酗咖啡直到醺醺然，在口腔的滿足快感裡暫忘現實，讓強烈的甜蜜或者辛辣麻痺所有感覺。」這段話說明了什麼現象？
A. 不同的零食可能會導致不同的疾病 B. 零食潛藏大量添加物而傷人於無形
C. 透過美食盛饌能讓生活更多姿多彩 D. 人們藉零食滿足口腹之欲紓解壓力
- ()34. 武俠小說中的人物，常以謙遜的口吻自稱。下列哪個人物沒有使用自謙詞？
A. 鐵心蘭：「妾身就此告退。」 B. 花無缺：「承蒙閣下對本人的指點。」
C. 燕南天：「這劍法確實是在下自創。」 D. 小魚兒：「敝人這就前往一探究竟。」
- ()35. 「以翻雲手張嵐為代表的無影劍派，在張嵐死後，由柳青接續掌門。他們的劍法，基本上並未超出旋風劍派的範圍。因為張嵐習武的寂空門，本是捲雨僧嚴峻所創立，而嚴峻為追魂客蕭玉的門徒，正是旋風劍派的正宗嫡傳。」文中所提及的人物，彼此間傳承的先後關係最可能是下列何者？
A. 張嵐→柳青→蕭玉→嚴峻 B. 張嵐→柳青→嚴峻→蕭玉
C. 蕭玉→嚴峻→張嵐→柳青 D. 蕭玉→張嵐→嚴峻→柳青。
- ()36. 在行文說話時，經常把文字的形體、意義加以分析，就形成了析字的藝術。如「愁」可拆為「心上秋」，「少女」可合為「妙」。下列聯語，何者是利用這種特質寫成的？
A. 三光日月星，四詩風雅頌 B. 日月明朝昏，山風嵐自起
C. 袖中有滄海，襟上多白雲 D. 遠水碧千里，夕陽紅半樓。
- ()37. 下列何者最能表現范鳳龍醫生對貧苦病人的仁愛心腸及無私貢獻？
A. 病人沒依約前來開刀時，怒氣沖沖質疑醫院向病人收保證金
B. 行醫一生不曾離開臺灣，即使母親重病也並未回去
C. 晚年向神父致歉，說自己再也沒有辦法幫助病人了
D. 菩薩心腸，認為病人微笑著離開醫院是他最大的安慰。
- ()38. 「他就是這麼一個，做了遠超過上帝要他所做的人」一句中，透露出范醫生的為人如何？
A. 繼承上帝遺志，擔任神職人員布道救濟世人
B. 可見其醫術精良、技術高超，非常人所能比
C. 受到上帝肯定，成為醫學界楷模，當之無愧
D. 用盡一生的力量，發揮博愛精神，博施濟眾。
- ()39. 愛因斯坦：「一個人的價值，應當看他貢獻什麼，而不應當看他取得什麼。」下列選項，何

人最適合佐證愛因斯坦所謂「有價值的人」？

- A. 英國 哈利王子與其妻梅根結婚後，就放棄皇室身分，遷居到美國
 - B. 五歲小孩凱瑟琳響應「只要蚊帳」運動，造成巨大迴響，讓數百萬孩童免受瘧疾之苦
 - C. 特斯拉總裁馬斯克曾經公開呼籲要注意人工智慧，認為這是未來人類最大的威脅
 - D. 比爾·蓋茲最近因為離婚事件榮登各大報頭版，一時沸沸揚揚，全球矚目。
- ()40. 巴爾德斯：「把別人的幸福當作自己的幸福，把鮮花奉獻給他人，把棘刺留給自己。」與下列哪一句相呼應？
- A. 勤勞一日，可得一夜安眠；勤勞一生，可得幸福長眠
 - B. 每一個發憤努力的背後，必有加倍的賞賜
 - C. 只有努力攀登頂峰的人，才能把頂峰踩在腳下
 - D. 點燃了的火炬不是為了火炬本身，就像我們的美德應該超過自己照亮別人。

請閱讀後回答各問題。

1080 年

初貶黃州，作答李端叔書，文中「得罪以來，深自閉塞」與「平生親友，無一字見及，有書與之亦不答」道出自己貶謫後的處境與感受。寄居定惠院，作卜算子，用極美的意境呈現自身孤寂的感受，與不隨流俗的堅持。

1082 年

貶謫黃州第三年，作定風波，詞中「莫聽穿林打葉聲，何妨吟嘯且徐行」呈顯出坦然處之的豁達。遊赤壁，作念奴嬌赤壁懷古及寫景抒懷的前、後赤壁賦。

1083 年

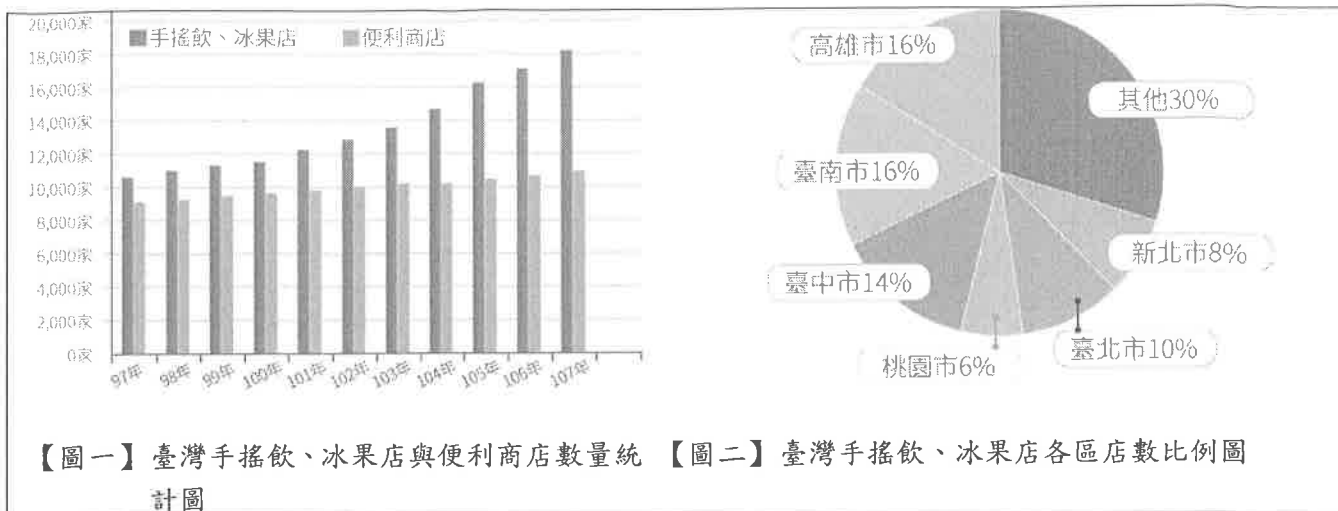
貶謫黃州第四年，與好友夜遊，寫下記承天夜遊，展現閒靜的情懷。

- ()41. 關於蘇軾貶謫黃州時的敘述，以下何者正確？
- A. 生性豁達，貶謫期間始終保持灑脫的心境
 - B. 此時期的創作皆屬於寄情山水的抒懷之作
 - C. 貶謫期間，仍與友人保持密切的音信往返
 - D. 在黃州歷經孤寂後，逐漸展現曠達的心境。
- ()42. 「何夜無月？何處無竹柏？但少閑人如吾兩人耳！」這段話的涵義為何？
- A. 感嘆時光易逝，應當及時行樂
 - B. 抒發懷才不遇，知音難尋的落寞
 - C. 表達心情閒適，方能欣賞景物之美
 - D. 暗指美景當前，獨樂樂不如眾樂樂。

請閱讀以下圖文後，回答各問題。

徵收糖稅有利有弊

有鑑於此，世界衛生組織曾呼籲各國重視賦稅等政策運用，提高含糖飲料的售價，幫助消費者改變飲食選擇，進而改善肥胖、糖尿病及齲齒問題。然而，對於這項建議卻引起正反不同的意見，支持者相信徵收糖稅不只能改變消費行為，更可讓業者主動修改配方、讓政府增加公衛計畫的經費等。反對者則認為開徵糖稅反而促使人們改買其他垃圾食品，甚至會影響經濟，造成失業問題。目前我國也有開徵食品健康稅的提議，但專家認為時機尚未成熟，除了須凝聚各界共識、界定不健康食品、研究肥胖與飲食的關連性外，更應先加強國人健康飲食觀念，畢竟財政工具並非唯一的解決之道。



【圖一】臺灣手搖飲、冰果店與便利商店數量統計圖 【圖二】臺灣手搖飲、冰果店各區店數比例圖

- () 43. 下列關於圖一、圖二的說明，何者正確？
- 北部的三大都會區店數遠多於中南部的三大都會區店數
 - 都會區手搖飲、冰果店店數由北到南呈現出遞增的趨勢
 - 手搖飲、冰果店數量逐年增加，但便利商店數量卻不增反減
 - 手搖飲、冰果店的展店速度，比起便利商店要來得更加快速。
- () 44. 民意代表郝欣欣想要推動食品健康稅，積極說服民眾開徵此稅好處多多。根據本文所述，下列何者並非其可能帶來的好處？
- 能改變大眾的消費習慣，減少購買垃圾食物
 - 促進廠商主動修改配方，使食品更有益健康
 - 鼓勵人們多買保健食品，讓藥補與食補雙贏
 - 增加政府公衛經費來源，讓執行者更有餘裕。

請閱讀以下小說，並回答問題：

黃蓉見兩人爭執難決，說道：「爹爹，師父，我倒有個法兒在此。你倆既可立時比武，爹爹又不占便宜。」兩人齊道：「好啊，什麼法兒？」黃蓉道：「你們兩位是多年好友，不論誰勝誰敗，總是傷了和氣。可是今日華山論劍，卻又勢須分出勝敗，比出誰為天下第一，是不是？」

洪、黃二人本就想到此事，這時聽她言語，似乎倒有一個妙法竟可三全其美，既能立時動手，又可不讓黃藥師占便宜，而且還能使兩家不傷和氣，齊問：「你有什麼好主意？」黃蓉道：「是這樣：爹爹先跟郭靖過招，瞧在第幾招上打敗了他，然後師父再與郭靖過招。若是爹爹用九十九招取勝，而師父用了一百招，那就是爹爹勝了。倘若師父只用九十八招，那就是師父勝了。」

洪七公笑道：「妙極，妙極！」黃蓉道：「郭靖先和爹爹比，兩人都是精力充沛，待與師父再比，兩人都是打過了一場，豈不是公平得緊麼？」黃藥師點點頭道：「這法兒不錯。」

- () 45. 根據本文，黃蓉提議的優點不包含下列何者？
- 減少比賽的場次
 - 顧及比賽的公平性
 - 毋須等待，可立刻開戰
 - 不必直接對戰，不傷和氣。
- () 46. 根據黃蓉所提的賽制，假設比武結果最後是黃藥師天下第一，下列哪件事一定會發生？
- 郭靖打贏洪七公
 - 黃藥師打贏郭靖
 - 洪七公打贏黃藥師
 - 黃藥師打贏洪七公。

那女子（瑛姑）沮喪失色，身子搖了幾搖，突然一跤跌在細沙之中，雙手捧頭，苦苦思索，過了一會，突然擡起頭來，臉有喜色，道：「你的算法自然精我百倍，可是我問你：將一至九這九個數字排成三列，不論縱橫斜角，每三字相加都是十五，如何排法？」黃蓉心想：「我爹爹

經營桃花島，五行生剋之變，何等精奧？這九宮之法是桃花島陣圖的根基，豈有不知之理？」當下低聲誦道：「九宮之義，法以靈龜，戴九履一，左三右七，二四爲肩，六八爲足，五居中央。」邊說邊畫，在沙上畫了一個九宮圖。依照黃蓉所言，請問9要填在何處？

()47. (A) (B) (C) (D)

.	.	.
.	9	.
.	.	.

.	.	.
.	.	.
.	.	9

.	.	.
9	.	.
.	.	.

.	9	.
.	.	.
.	.	.

遠望巍巍塔七層，紅燈點點倍加增，共燈三百八十一，請問尖頭幾盞燈？

()48. 根據上述，第1層有幾盞燈？ (A)1 (B)2 (C)3 (D)4

1955年明尼蘇達州菲爾德的聖尤拉夫學院畢業的美國人白寶珠與潘錦章在澎湖開設「特別皮膚科門診」，推廣「全人、全程、全家、全社區關懷」的痲瘋病人照顧工作。

早期台灣社會對痲瘋病人還是有很多的誤解、排斥，大部分病患會被隔離，且因害怕、畏懼而沒有得到好的照顧，白寶珠不僅滿懷愛心毫不拒絕的接受病人，她挨家挨戶尋找病人，勸家屬帶病人接受治療，並鼓勵病人有信心回歸社會，由於她的信心、天真、善良感動了澎湖人，「白姑娘」成為澎湖家喻戶曉的人物，她走遍澎湖大街小巷及每個島嶼，四處演講，為澎湖的痲瘋病人就醫就業不斷奔走。

此外她也關心許多澎湖生活困難的民眾和越南難民，她的工作不只被世界衛生組織讚許為最合乎人性的醫療，她也使澎湖成為全台灣照護痲瘋病人的典範。1994年她得到「醫療奉獻獎」，經過50年終於在2006年讓痲瘋病人走入澎湖的歷史，而「白姑娘」也已經變成了「白阿姨」，又變成了「澎湖阿嬤」！

()49. 文本中提到早期台灣的痲瘋病人無法得到好的治療原因，何者不是？

- A. 因為病人被隔離 B. 因為人們害怕痲瘋病
C. 因為人們誤解痲瘋病 D. 因為政府不想協助。

()50. 你覺得白寶珠、范鳳龍這些在偏鄉服務的人員為什麼能夠堅持這麼多年？

- A. 因為政府有補助 B. 想要博得好名聲 C. 因為社會的要求 D. 滿懷愛心不拒絕病人。

【試題結束—文光 9 年級、國文】

澎湖縣立文光國中 111 學年度第一學期第三次定期評量九年級英語科試題

Class : Number : Name :

一、聽力測驗：10% (每題 2 分)

言談理解-每題均有三個選項，請依據所聽到的對話與問題，選出一個最適當的答案。

- () 1. (A) The man is someone who is cared for by doctors.
(B) The man is someone who has knowledge of how to keep fingers clean.
(C) The man is someone who is good at making plants grow well.
- () 2. (A) One hundred fifteen dollars.
(B) One hundred fifty dollars.
(C) One hundred ninety-five dollars.
- () 3. (A) A tomato. (B) A lemon. (C) A pumpkin.
- () 4. (A) "If you want to buy a cheaper computer, don't pass up the chance to get one here."
(B) "People with shorter tongues can't read this word clearly."
(C) "I want to buy the latest phone whose screen is big."
- () 5. (A) He sold expensive products at low prices.
(B) He made a lot of money by cheating.
(C) He set up a shop on the Internet.



二、單題測驗：50% (第 6~30 題，共 25 題，每題 2 分)

- () 6. Look at the picture. The fruits that the vendor does NOT sell are _____.
(A) Lemons and peaches (B) Oranges and tomatoes
(C) Pumpkins and lemons (D) Pears and watermelons
- () 7. Mr. Jackson has a wide _____ of music. He knows many kinds of music, such as country music and rock and roll.
(A) meaning (B) knowledge (C) package (D) million
- () 8. George used to hang out with his friends all night on weekends before he got _____. Now, he likes to spend time with his wife and daughter at home.
(A) married (B) natural (C) foreign (D) simple
- () 9. It was clear Kevin was unhappy at work. _____, it comes as no surprise when he left the job.
(A) Besides (B) Also (C) Therefore (D) However
- () 10. My sister agreed to take her medicine after my father told her she could eat a _____ after she did that.
(A) pumpkin (B) pot (C) tool (D) lollipop
- () 11. The old apartment is on sale. Don't _____ the chance to have your own house.
(A) deal with (B) belong to (C) think of (D) pass up
- () 12. On _____, people play jokes on each other and have fun trying to make others believe things that are not true.
(A) April Fools' Day (B) Easter Sunday (C) Mother's Day (D) Christmas Eve
- () 13. The department store is having a summer sale _____. Let's go and take a look.
(A) promotion (B) profit (C) sample (D) height
- () 14. A _____ is a person who owns or manages (管理) a shop, usually a small one.
(A) worker (B) soldier (C) vendor (D) shopkeeper
- () 15. I'm sorry. I didn't mean to say that. It just _____ out.
(A) rose (B) burned (C) popped (D) fulfilled
- () 16. Jolin didn't say anything, so we're not sure _____ she needs.
(A) when (B) what (C) that (D) how
- () 17. I am sure _____ I will be the winner of the contest.
(A) if (B) that (C) which (D) what

- ()18. I _____ every day when I was young, but I don't do it now.
 (A) am used to swim (B) used to swim (C) use to swim (D) am used to swimming
- ()19. A: Do you know the girl _____ a purple dress?
 B: Yes, she's Hank's girlfriend.
 (A) with (B) of (C) on (D) in
- ()20. I know the book, Butt Detective, is about a detective (偵探) _____ face looks like a butt (屁股).
 (A) who has (B) whose (C) with (D) who with
- ()21. My teacher made me finish my homework at school, and my classmate, Lucy, waited for me _____ I finished it.
 (A) until (B) though (C) whether (D) if
- ()22. Who is the woman _____ often helps the poor?
 (A) which (B) who (C) whom (D) that
- ()23. Amy is the girl _____ I talked last night.
 (A) who (B) whom (C) with what (D) with whom
- ()24. We couldn't find the park _____ we used to play before.
 (A) who (B) which (C) where (D) whose
- ()25. The stories in Curious George all begin with the man and the monkey _____ are about to visit different places.
 (A) × (B) which (C) that (D) those
- ()26. Every time I feel down, Jane always tells me _____ to make me laugh. She is really a good friend.
 (A) funny something (B) nothing funny (C) funny thing (D) something funny
- ()27. 下列劃線的字中，何者不可省略？
 (A) Tom is not only brave but also kind.
 (B) Tom believed that Santa Claus would give him a gift.
 (C) Tom, who was born without limbs, makes his life without limits.
 (D) Tom is a brave man who nothing can knock down.
- ()28. 下列哪個選項的意思和這個句子“Jean's son, who works in Taipei, is a police officer.”的意思不同？
 (A) Jean's son is a police officer, and he works in Taipei.
 (B) Jean has only one son, and he is a police officer.
 (C) Jean has many sons, and one of them is a policer officer.
 (D) Jean's son is a policer officer in Taipei.
- ()29. 哪一個選項是錯的？
 (A) The house with a big yard is very expensive.
 (B) The girl in straight hair is my classmate.
 (C) The teenagers in hats are Mr. Lee's students.
 (D) Sandy is listening to the speech about emotional control.
- ()30. Allen didn't understand what “took off” meant in the reading below:

..... He just took off. He couldn't wait for the meeting to finish. He needed to pick up his daughter at the airport.


He looked it up in the dictionary and found more than one meaning. What does “took off” mean here?

- (A) To start to be successful.
 (B) To copy something somebody does and make people laugh.
 (C) To leave without telling anyone.
 (D) To leave the ground and begin to fly.

三、題組測驗：40% (第 31~50 題，共 20 題，每題 2 分)

(31~33)

Here are the rules for a game called "Snake & Ladder."

1. Each player begins at START.
2. In each turn, a player throws a  to decide how many spaces to move.
3. If there is a sentence on the place you arrive at, do the thing it asks you to do, or answer the question.
4. Other rules for different pictures :



Take a break.
























Go up.




Slide down.

5. The first one who gets to **FINISH** will win.



- () 31. What can we learn about the game?
- (A) There cannot be more than 3 players.
 - (B) We can win the game less than 3 turns.
 - (C) If we see , we have to stop for one turn.
 - (D) There is no need to throw a  in each turn.
- () 32. Sally and her friends played "Snake & Ladder." They threw the  four turns, and below are the numbers. Who won the game?
- (A) John :  →  →  → 
 - (B) Robin :  →  →  → Take a break.
 - (C) Cindy :  →  →  → 
 - (D) Sally :  →  →  → 
- () 33. What does it mean?
- (A) The space with a  or 
 - (B) The sentence on the space.
 - (C) The game "Snake & Ladder."
 - (D) The picture for the rules.



order 順序 adjective 形容詞 vowel 母音

- () 34. After listening to Martha talk about the right order of adjectives, Robin made a new sentence with no mistakes. Which one may the sentence be?
- (A) Martha is a Taiwanese young lovely girl.
 - (B) Martha is a lovely young Taiwanese girl.
 - (C) Martha is a young Taiwanese lovely girl.
 - (D) Martha is a young lovely Taiwanese girl.
- () 35. Which group of words may NOT follow the rule of reduplication?
- (A) splash-splash-splash
 - (B) ping-pong
 - (C) flip-flop
 - (D) dangle-dingle
- () 36. What is NOT true about *The Element of Eloquence*?
- (A) It was written by Mark Forsyth.
 - (B) It is about English language rules.
 - (C) People know all the rules in it well.
 - (D) Many people talk about it online.

(37~39)

Palm reading can give you some ideas about yourself. Before you do that, you need to know what the most important lines are and where they are on the palm.

First is the big line that begins at the side of the palm between the thumb and index finger and usually goes down to the wrist. It is called the life line, and it gives you an idea about your health and how old you might live.

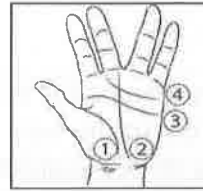
Next is the line that starts at the same place as the life line and runs across the palm. It is called the head line, and its length tells how smart a person is. So, the longer it is, the smarter you are. Above that is the heart line. It runs across the palm to below the little finger at the edge of the hand. It shows how strong your heart is and how you feel about love.

After that is the line that runs from the bottom of the palm up to the bottom of the middle finger. It shows when and how you will become successful and is called the fate line.

📖 palm 手掌 thumb 拇指 index finger 食指 wrist 手腕 above 在.....的上面 below 在.....的下面 edge 邊緣 bottom 底部

() 37. What does "its length" mean?

- (A) How short the middle finger is.
- (B) How strong the heart line is.
- (C) How big and wide the palm is.
- (D) How long the head line is.



() 38. Look at the picture. Which line is line two?

- (A) The heart line. (B) The head line. (C) The fate line. (D) The life line.

() 39. Which is correct?

- (A) The heart line tells a person's feelings. 📖 feeling 感覺
- (B) The head line tells when a person's life ends.
- (C) The fate line shows how smart a person is.
- (D) The life line is all about a person's money.

(40~42)

Helen : Peter, you're free now, aren't you?

Peter : Not really, but I can be. What can I do for you?

Helen : I need you to send this package to Mr. Anderson at Matrix Systems right away.

Peter : It's that important, isn't it? Then express mail will be fast enough for you, won't it?

Helen : No way! That takes a day or two at the least, and my client can't wait around that long for it.

Peter : Why not? It's not like he's a VIP or anything.

Helen : As a matter of fact, he is, and he's leaving on a business trip to Berlin, Germany, this afternoon. Now you can see that express mail won't be fast enough, can't you?

Peter : Yes, loud and clear. Then I think it's best to call a messenger over to pick it up this morning.

Helen : I was thinking the same thing. Also, can you make sure that they rush it over to Matrix Systems before noon?

Peter : That shouldn't be a problem, but I think it's going to cost more than the regular price.

Helen : Money is not an issue at this point. We really can't lose this client.

📖 package 包裹 express 快遞的 client 客戶 VIP 重要人物 messenger 郵遞員 rush 急送 regular 一般的 issue 問題

- () 40. What do we learn about Mr. Anderson?
 (A) He's already left on his trip.
 (B) He is from Berlin, Germany.
 (C) He is a very important client.
 (D) He will still be at his office after 2 p.m. today.
- () 41. Why does Helen say that Peter's first idea won't work?
 (A) It's too slow.
 (B) It's fast enough.
 (C) It costs too much.
 (D) It takes less than a day.
- () 42. How is Peter going to get the package to the client?
 (A) Send it by express mail.
 (B) Ask someone to take it over.
 (C) Have the client pick it up himself.
 (D) Take it to the client's office himself.

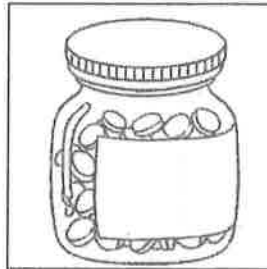
(43~45)

The other day, Renata felt a little weak and sick. She didn't think that staying home was the right thing to do, so she went to a doctor near her apartment.

There were a lot of people there that day, but it didn't take Renata long to see the doctor. When the doctor asked her what was wrong with her, she told him she had a bad cough, a headache, and a fever. After that, he checked her out and told her not to worry. At last, he gave her some medicine.

Here is what it says on the bottle.

1. Take one pill with water after each meal and before going to bed.
 2. Do not take the medicine with coffee, tea, milk, or other drinks.
 3. If you suffer any side effects or don't feel well after taking the medicine, see your doctor right away.
 4. If there is no change in how you feel after two days, talk to your doctor and get his or her help.
- Don't take the medicine past its expiration date. It's not safe.
 - Keep the medicine out of reach of children and away from heat and sunlight.
 - Don't share the medicine with someone else.



📖 cough 咳嗽 pill 藥丸 suffer 受
 折磨 side effect 副作用 expiration
 date 到期日 reach 伸手可及的距離

- () 43. Which is NOT true about Renata?
 (A) Her head hurts.
 (B) Her temperature is a little high. 📖 temperature 溫度
 (C) She has a cough.
 (D) Her throat is sore.

- () 44. How should the medicine be taken?
 (A) With food and coffee.
 (B) With water after eating.
 (C) With tea before going to sleep.
 (D) With water during each meal.
- () 45. Where should the medicine be kept?


(A)



(B)



(C)



(D)



(46~50)

Have you always wanted to have a vacation which was so special that you would never forget it? If your answer is yes, then a trip that takes you to outer space is something ___ 46. ___ you need to do.

You can't just jump in a spaceship and fly off. Instead, you have to go through space training that lasts eight weeks first. ___ 47. ___, you can take a spaceship to a space hotel. There, you can look at the stars and our beautiful home planet from your room. What's more, if you want to catch the sunrise, you don't need an alarm clock to get yourself up because that is a sight ___ 48. ___ you can see 15 times a day.

___ 49. ___ because a stay at the space hotel is not cheap; it costs around three million US dollars per person. Also, each spaceship only has six seats. In the future, ___ 50. ___. When that happens, people who are like you and me can get the chance to send friends messages from outer space.

outer space 外太空 spaceship 太空船 sunrise 日出 alarm clock 鬧鐘 per 每一

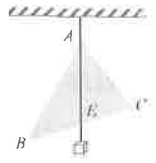
- () 46. (A) who (B) what (C) where (D) that
- () 47. (A) Before you can come back
 (B) After you finish the training
 (C) When you are out there
 (D) Since you were on the ground
- () 48. (A) × (B) what (C) when (D) is
- () 49. (A) Most people who want to fly to space are interested in it
 (B) The space trip appears to be exciting
 (C) This is something very few people are able to do right now
 (D) Taking a spaceship to a space hotel is easy
- () 50. (A) flying in spaceships will be a secret
 (B) taking trips into space will still be something strange
 (C) staying in space hotels won't be anything common
 (D) traveling this way is probably going to be less expensive

9 年 班 座號： 姓名： 讀卡 答案卷

一、選擇題(32分，每題4分)

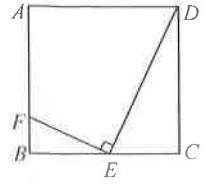
- () 1. 如右圖，在質地均勻的三角形木板的頂點 A，穿一個小洞懸吊起來，線的另一端綁上重物，自然垂下，下列敘述何者正確？

(A) \overline{AE} 平分 $\angle BAC$ (B) \overline{AE} 垂直 \overline{BC} (C) E 為 $\triangle ABC$ 外心 (D) \overline{AE} 為 \overline{BC} 邊上的中線



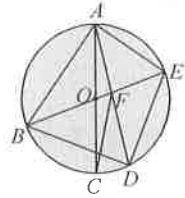
- () 2. 如圖，正方形 ABCD 中，E、F 兩點分別在 \overline{BC} 、 \overline{AB} 上，且 $\angle FED = 90^\circ$ ，則下列敘述何者錯誤？

(A) $\overline{BE} = \overline{CE}$ (B) $\angle DEC = \angle EFB$ (C) $\angle FEB = \angle EDC$ (D) $\triangle CDE \sim \triangle BEF$



- () 3. 如右圖，圓 O 中有多個三角形，則 O 點不是下列哪一個三角形的外心？

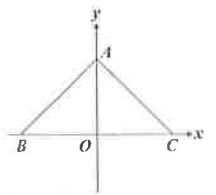
(A) $\triangle AFB$ (B) $\triangle ABE$ (C) $\triangle ADE$ (D) $\triangle BDE$



- () 4. 已知整數 a, b, c, d 滿足 $ab = 2cd$ ，判斷下列各式那個數不可能為乘積 $abcd$ 的值？

(A) 50 (B) 100 (C) 200 (D) 450

- () 5. 如右圖，坐標平面上有 $A(0, a)$ 、 $B(-10, 0)$ 、 $C(9, 0)$ 三點，其中 $a > 0$ 且 $\overline{BC} > \overline{AB} > \overline{AC}$ 。若 $\angle BAC = 85^\circ$ ，則 $\triangle ABC$ 的外心在第幾象限？



(A) 一 (B) 二 (C) 三 (D) 四

- () 6. 下列述敘何者正確？

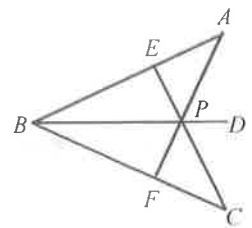
(A) 三角形的三中垂線將三角形的面積六等分 (B) 三角形不一定有內切圓
(C) 若 a 是 9 的倍數，則 a^2 也是 9 的倍數 (D) 若 a^2 是 9 的倍數，則 a 也是 9 的倍數

- () 7. 如右圖，P 點在 \overline{BD} 上，連接 \overline{AP} 並交 \overline{BC} 於 F 點，連接 \overline{CP} 並交 \overline{AB} 於 E 點，則下列哪一個選項可以證明 $\triangle BPE \cong \triangle BPF$ ？

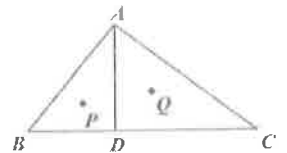
(甲) $\angle BAP = \angle BCP$ (乙) $\angle PEB = \angle PFB = 90^\circ$

(丙) $\overline{PB} = \overline{PB}$ (丁) $\overline{PE} = \overline{PF}$

(A) 甲、乙、丙 (B) 甲、乙、丁 (C) 甲、丙、丁 (D) 乙、丙、丁



- () 8. 如右圖， $\triangle ABC$ 中，D 點在 \overline{BC} 上，且 $\overline{AD} \perp \overline{BC}$ 。若 P、Q 兩點分為 $\triangle ABD$ 和 $\triangle ACD$ 的內心，則下列那一個作法可以找出 $\triangle ABC$ 的內心？

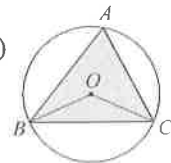


(A) 作 \overline{PQ} 的中點 (B) 作 \overline{PQ} 和 \overline{AD} 的交點 (C) 作直線 BP 和直線 CQ 的交點 (D) 作 $\angle BAC$ 的角平分線和 \overline{PQ} 的交點

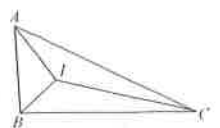
二、填充題(52分，每格4分，全對及須化到最簡才給分)

1. 如右圖一，銳角 $\triangle ABC$ 中，O 為外心，若 $\angle BAC = 89^\circ$ ，則 $\angle BOC =$ _____ 度。

(圖一)

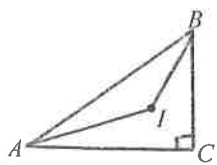


2. 如右圖二，若 I 點為 $\triangle ABC$ 的內心， $\overline{AB} : \overline{BC} : \overline{AC} = 3 : 6 : 7$ 。已知 $\triangle ABC$ 的面積為 32，則 $\triangle AIB$ 的面積 = _____。

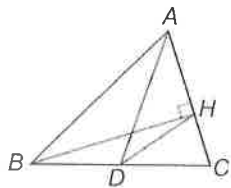


(圖二)

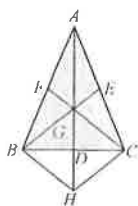
3. 如圖三，設 I 點是直角 $\triangle ABC$ 的內心。若 $\angle C=90^\circ$ ，求 $\angle AIB=$ _____ 度
4. 如圖四， $\triangle ABC$ 中， D 點為 \overline{BC} 的中點， $\overline{BH} \perp \overline{AC}$ ，且 $\overline{BC}=8$ ，則 $\overline{DH}=$ _____
5. 如圖五， G 點為 $\triangle ABC$ 的重心， H 點在 \overline{AD} 上，且 $\overline{GD}=\overline{DH}$ ， $\triangle ABC$ 面積=72，則四邊形 $BFGD$ 面積=_____
6. 如圖六，有一質地均勻的三角形鐵片，其中一條中線 \overline{AD} 長 24 公分。若陳群老師想用食指撐住此鐵片，則支撐點離 D 點 _____ 公分最恰當
7. 如圖七， $\square ABCD$ 中， $E、F$ 兩點分別是 \overline{AD} 與 \overline{CD} 的中點，連接 \overline{BE} 與 \overline{BF} ，分別與 \overline{AC} 交於 $G、H$ 兩點。若 $\overline{AC}=12$ ，則：(1) $\overline{CH}=$ _____ (2) 若 $\triangle AGE$ 的面積為 4，則 $\square ABCD$ 的面積=_____



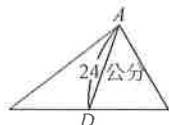
圖三



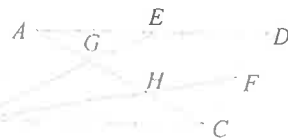
圖四



圖五



圖六



圖七

8. 如右圖， $\triangle ABC$ 為直角三角形， $\angle B=90^\circ$ ，過 \overline{AC} 中點 D 作 $\overline{DE} \perp \overline{BC}$ ，且交 \overline{BC} 於 E 點，試證： $\overline{CE}=\overline{BE}$ 。

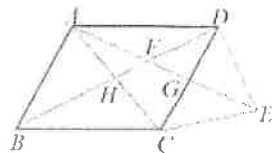
證明： $\because \angle CED=$ _____ $\therefore \overline{DE} \parallel$ _____

又因為 D 點為 \overline{AC} 的中點，所以 $\overline{AD}=$ _____，

故 $\overline{CE}=$ _____



9. 如圖，四邊形 $ABCD$ 平行四邊形，四邊形 $ACED$ 是鸞形。若 $\overline{AD}=13$ ， $\overline{CD}=10$ ，則 $\overline{BD}=$ _____

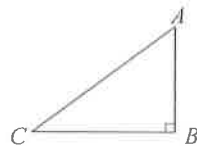


四、計算題(16分，每小題4分，需寫過程)

1. 如右圖， $\triangle ABC$ 中， $\angle B=90^\circ$ ， $\overline{AB}=12$ ， $\overline{BC}=16$ ，則：

(1) 外接圓半徑

(2) 內切圓半徑



2. 若 $a>0, b>0$ ，證明 $\sqrt{a}+\sqrt{b}>\sqrt{a+b}$ 。(每格1分)

解： $\because (\sqrt{a}+\sqrt{b})^2=a+2$ _____ $+b$ 又 $(\sqrt{a+b})^2=$ _____

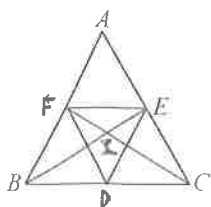
$\therefore (\sqrt{a}+\sqrt{b})^2-(\sqrt{a+b})^2=$ _____ >0

因此 $(\sqrt{a}+\sqrt{b})^2$ _____ $(\sqrt{a+b})^2$ (填入“>”、“=”或“<”)

故 $\sqrt{a}+\sqrt{b}>\sqrt{a+b}$ 。

3. 如圖， I 為等腰三角形 ABC 的內心 ($\overline{AB}=\overline{AC}$)， $\overline{ID} \perp \overline{BC}$ ， $\overline{IE} \perp \overline{AC}$ ， $\overline{IF} \perp \overline{AB}$ 。若 $\triangle AFE$ 面積= $\triangle FBD$ 面積+ $\triangle EDC$ 面積，

求 $\frac{\overline{AF}}{\overline{BF}}=?$



澎湖縣立文光國中 111 學年度第一學期第三次段考 自然科 考試卷

九年 ___ 班 座號：___ 姓名：_____ ■ 讀卡

答案請填在答案卡上

一、選擇 50 題 (每題 2 分, 共 100 分)

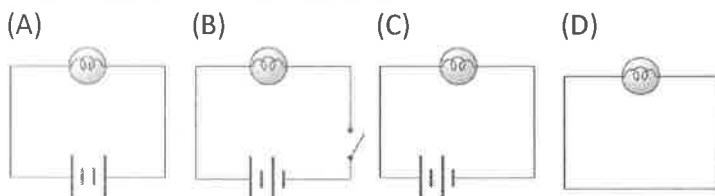
1~10 題為是非題, ○的話請選 A, X 的話請選 B

1. 在台灣地區的七月份時, 因地球位於近日點, 所以天氣最熱。
2. 對北半球的人而言, 地球由西向東轉, 對南半球的人而言, 地球由東向西轉。
3. 月球用同一面面向地球, 所以月球上被太陽照射到的區域, 位置皆相同。
4. 大年初一的白天有可能發生日全食。
5. 每天會有兩次大潮, 兩次小潮。
6. 絲絹和玻璃棒摩擦後, 玻璃棒帶正電是因為質子的數量比電子多。
7. 靜電力可能為排斥或吸引力, 但萬有引力必定為吸引力。
8. 兩燈泡並聯在電路上, 若其中一個燈泡燒毀, 則另一個燈泡會更亮。
9. 電流的定義是每單位截面積通過此導線截面的電量。
10. 電阻的成因是因為電子在導體中流動時與導體內的原子碰撞產生阻礙。

11. 甲.將絲絹摩擦過後的玻璃棒接觸不帶電的金屬球; 乙.將帶正電的金屬球接地; 丙.將毛皮摩擦過後的塑膠尺碰觸保麗龍球。對於以上三者的描述, 下列敘述何者正確?
 (A)甲、乙、丙三種方式, 都是質子在移動 (B)甲、乙、丙三種方式, 都是電子在移動
 (C)甲、乙兩種方式是質子在移動, 丙則是電子在移動
 (D)甲、丙兩種方式是質子在移動, 乙則是電子在移動

12. 根據導體的意義, 判斷下列何者不屬於導體? (A)石墨棒 (B)食鹽水 (C)毛皮 (D)銅棒。

13. 下面哪個電路圖中的燈泡會亮?

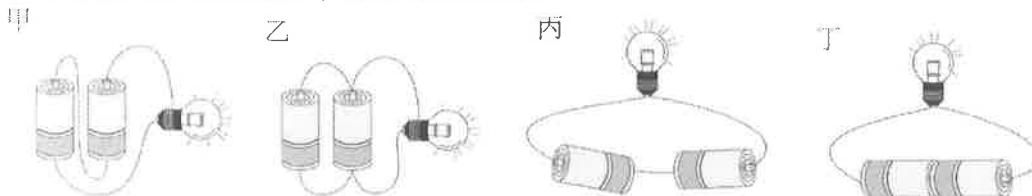


14. 某電路的電流 0.1 安培, 則 10 分鐘會有多少庫倫的電量流經導線? (A)1(B)60(C)600 (D)160。

15. 下列敘述何者錯誤?

- (A)導線上任何兩點的電壓相同才會有電流
- (B)電壓是造成電流的原動力
- (C)電池的功用是提供電壓, 使導線上的電子流動
- (D)電子由能量高的地方流向能量低的地方

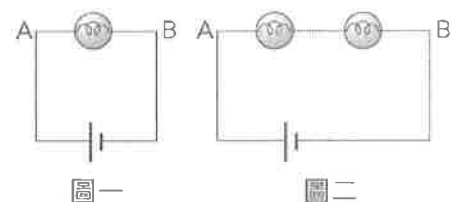
16. 下列何者是兩個乾電池串聯的连接方式?



- (A)甲、丙 (B)乙、丁 (C)甲、丁 (D)乙、丙。

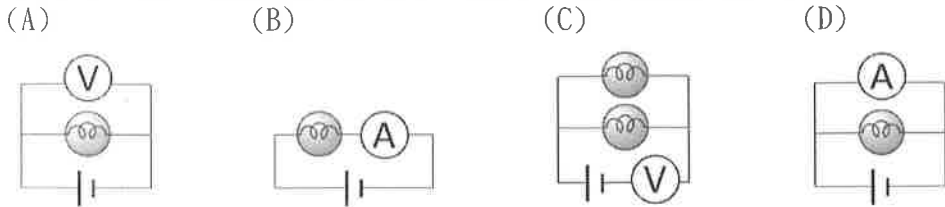
17. 一電路中接乾電池一個、燈泡一個 (如圖一), 如果在 A、B 導線上再接 1 個燈泡 (如圖二), 則原先燈泡的亮度會有何改變?

- (A)亮度變亮 (B)亮度不變(C)亮度變暗(D)燈泡不亮。

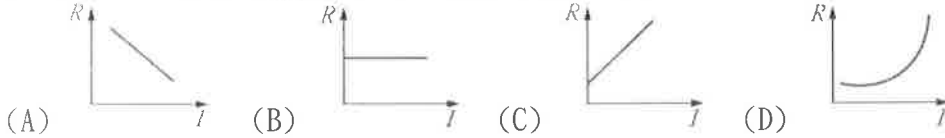


【第 1 頁結束 背面尚有試題】

18. 下列哪一電路圖是正確使用儀器，來測量燈泡電壓的连接方式？



19. 同一溫度下，金屬導體的電阻與電流關係圖形何者正確？



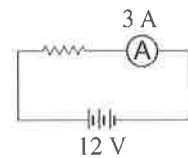
20. 若金屬導體的溫度維持在某一固定溫度，則此金屬導體的電阻大小和下列何者無關？

(A) 導體的材質 (B) 導體的截面積 (C) 導體的長短 (D) 導體所接的電壓。

21. 右圖電路中，電源電壓為 12 V，安培計的讀數為 3 A，

則電阻器的電阻為多少歐姆？

(A) 2 (B) 4 (C) 6 (D) 36。



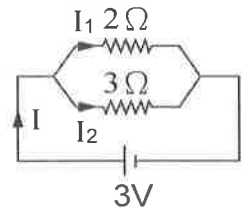
* 據右圖所示的電路圖，請回答第 22~25 題：

22. 圖中兩電阻連接方式為何？ (A) 串聯 (B) 並聯 (C) 縱聯 (D) 橫聯。

23. 3Ω 電阻兩端的電壓為多少伏特？ (A) 2 (B) 3 (C) 5 (D) 6。

24. 通過 2Ω 電阻的電流為多少安培？ (A) 0.5 (B) 1.5 (C) 2.5 (D) 5。

25. 電池提供的總電流為多少安培？ (A) 0.5 (B) 1.5 (C) 2.5 (D) 5。



26. 倘若以光速進行星際旅行，估計跨越銀河系需要十萬年的時間，請推算銀河系的直徑應較接近下列哪一數值？

(A) 10 萬光年 (B) 10 萬天文單位 (C) 10 萬海裡 (D) 10 萬公里。

27. 關於太陽系中類地行星和類木行星的敘述，下列何者錯誤？

(A) 類木行星的密度較類地行星來得大

(B) 類木行星的體積較類地行星來得大

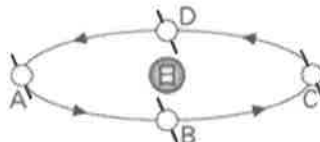
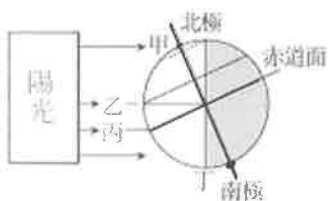
(C) 類木行星與太陽的距離較類地行星與太陽的距離來得大

(D) 類木行星的質量較類地行星來得大。

28. 下列何者屬於宇宙層級中的「星系」？ (A) 太陽系 (B) 北極星 (C) 銀河系 (D) 昴宿星團。

29. 當太陽光直射南回歸線，北半球正處於什麼季節？ (A) 春分 (B) 夏至 (C) 秋分 (D) 冬至。

* 圖 (一) 為某日太陽照射地表的情形，圖 (二) 則為地球繞日公轉軌道圖，試回答 30~33 題：



30. 依據圖 (一) 太陽入射狀況判斷，正午時，何處地表單位面積所接受的太陽輻射能量最多？ (A) 甲 (B) 乙 (C) 丙 (D) 丁。

31. 此時北半球的晝夜長短為何？ (A) 晝夜等長 (B) 晝短夜長 (C) 晝長夜短 (D) 無法判斷。

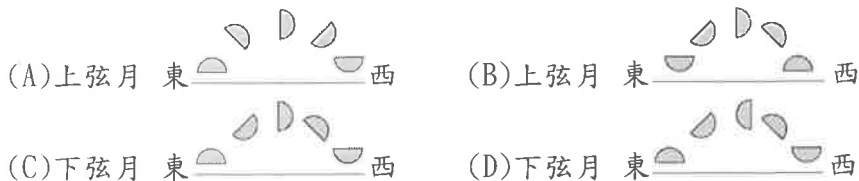
32. 此時地球應運行至圖 (二) 中的哪一個位置？ (A) A (B) B (C) C (D) D。

33. 若地球從圖 (二) 位置 C 運行到其他位置時，南半球的白天時間將有何變化？

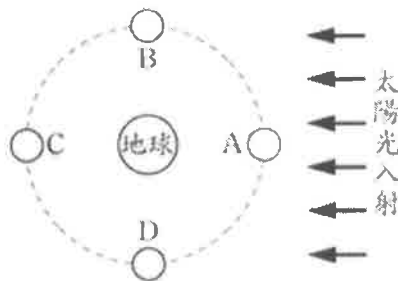
(A) 變長 (B) 不變 (C) 變短 (D) 無法判斷。

【第 2 頁結束 背面尚有試題】

34. 臺灣地區春分與秋分時，太陽升起的位置在?方位?(A)東偏北(B)東偏南(C)正東(D)正西方。
 35. 「弦月」是因為月相貌似弓弦而得名。當月亮西沉時，弦邊(直的那一邊)若在上、稱為上弦月；反之則為下弦月。試問下列圖示何者正確?

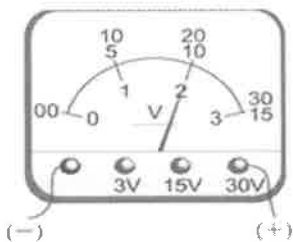


*右圖為太陽、地球及月球三者相對位置示意圖，A、B、C、D分別代表月球繞地球公轉的不同位置。試回答 36~38 題：



36. 當月球位於C位置時，應該為農曆幾號?
 (A)初一(B)初八前後(C)十五前後(D)二十三日前後。
 37. 當月球位於D位置時，其月相為何?
 (A)新月(B)上弦月(C)下弦月(D)滿月。
 38. 發生月食現象時，月球應在圖中的哪個位置?
 (A)A (B)B(C)C(D)D。

39. 早期澎湖當地利用人造的石滬來捕魚，若某日上午滿潮時間為6:10，則當日漁民應於幾點時去收成漁獲較佳?
 (A)上午8點左右(B)上午11點左右(C)下午4點左右(D)下午6點左右。
 40. 若現有四個帶電的小油滴，分別測量油滴所帶的電量，下列何者不合理?
 (已知 $1e \doteq -1.6 \times 10^{-19}$ 庫侖)
 (A) $+6.4 \times 10^{-19}$ 庫侖(B) -8.0×10^{-19} 庫侖(C) -4.0×10^{-19} 庫侖(D) $+1.6 \times 10^{-18}$ 庫侖。
 41. 若5歐姆電阻的伏特計讀數如右圖，則通過此電阻的電流計的讀數應為多少安培?
 (A) 10 (B) 2 (C) 20 (D) 4。



42. 地球上會有四季變化的主因是?
 (A)地球靠近太陽變熱，遠離太陽變冷(B)地球會自轉
 (C)地球會公轉，造成大氣對流而有冷暖變化(D)地球會公轉，且地球自轉軸傾斜 23.5° 。
 43. 若居住臺中的小胖在晚上七點看到北極星在北方，請問當天晚上十二點，北極星在天空的哪一方位? (A)北方 (B)東方 (C)西方 (D)南方
 44. 相距4公分之A、B兩質點，A所帶之電量為B之兩倍，設作用於A及B之靜電力大小分別為 F_A 及 F_B ，下列何者正確?
 (A) $F_A=2F_B$ (B) $F_A=F_B$ (C) $F_B=4F_A$ (D) $4F_A=F_B$
 45. 流星雨是流星在短時間內較密集出現的天文現象，觀測時通常會選擇視野開闊且黑暗無光害的地點，因此除了避開路燈、建築物燈光等人為光害，也會盡量避開月光等天然光害，以提高觀測的成功率及可觀測的時間。小靜查詢數個流星雨的資料，其各自可能出現流星數量最多的日期如表(四)。根據表(四)判斷，選擇觀測哪一場流星雨其受到天然光害的影響最小?

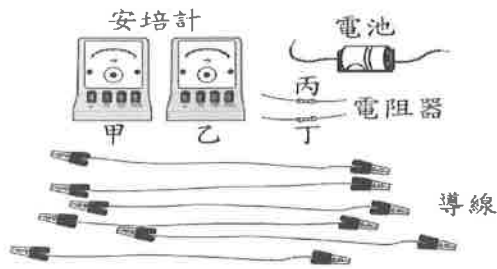
表(四)

名稱	國曆日期	農曆日期
牧夫座流星雨	6月27日	5月16日
御夫座流星雨	9月1日	7月23日
天龍座流星雨	10月9日	9月2日
雙子座流星雨	12月14日	11月9日

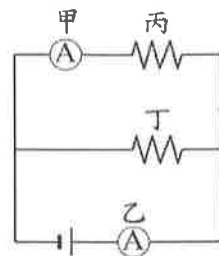
- (A)牧夫座流星雨
 (B)御夫座流星雨
 (C)天龍座流星雨
 (D)雙子座流星雨

【第3頁結束 背面尚有試題】

*圖(二十六)為兩個安培計、兩個電阻器、一個電池與數條導線，其中的電阻器為符合歐姆定律的導體，圖(二十七)為一電路圖。老師要求小玉將圖(二十六)中的器材依據圖(二十七)組裝，並將兩個安培計測得的電流值記錄於實驗報告中。請回答 46~47 題：

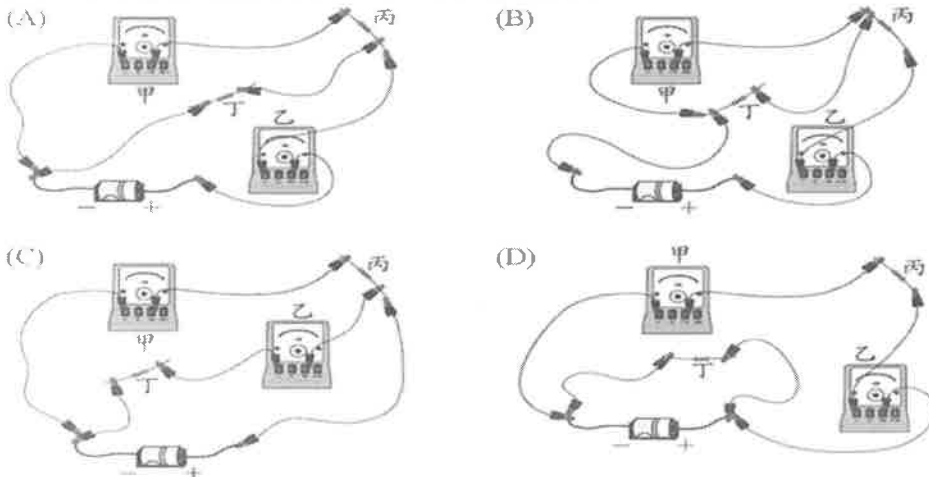


圖(二十六)



圖(二十七)

46. 下列哪一個組裝方式符合圖(二十七)中的電路圖？



47. 表(十二)為小玉報告中所記錄的電流值，若根據圖(二十七)來判斷表中 $I_{\text{甲}} > I_{\text{乙}}$ 是否合理，下列的判斷與論述何者最適當？

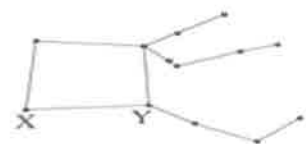
- (A) 合理，因為負極為電子流流出端，甲較靠近電池負極，所以 $I_{\text{甲}} > I_{\text{乙}}$ 合理
- (B) 合理，因為甲測得的電流值應為流過丙與丁的電流值相加，所以 $I_{\text{甲}} > I_{\text{乙}}$ 合理
- (C) 不合理，因為正極為電流流出端，而乙較靠近電池正極，所以 $I_{\text{乙}} > I_{\text{甲}}$ 才合理
- (D) 不合理，因為乙測得的電流值應為流過丙和丁的電流值相加，所以 $I_{\text{乙}} > I_{\text{甲}}$ 才合理

表(十二)

安培計	代號	電流
甲	$I_{\text{甲}}$	200 mA
乙	$I_{\text{乙}}$	100 mA

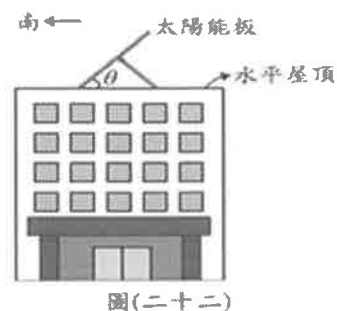
48. 在秋季夜空可看到組成飛馬座的大四邊形，其中包括 X、Y 兩顆恆星，如圖(十五)所示。已知 X 星距地球約 335 光年，Y 星距地球約 140 光年，下列敘述何者最合理？

- (A) Y 星發出的光到達地球需要花 140 天
- (B) X、Y 兩星與太陽系皆位於不同的星系之中
- (C) X 星發出的光比 Y 星發出的光更快傳到地球
- (D) 現在所觀察到的 X 星約是它 335 年前時的情況



圖(十五)

49. 住在北緯 35 度的阿義希望在夏至正午時，太陽可以直射頂樓的太陽能板，以收集最大能量，故將太陽能板朝向正南方放置，如圖(二十二)所示。
關於圖中太陽能板與水平屋頂間的夾角 θ ，下列何者最符合阿義的需求？
(A) 11.5° (B) 23.5° (C) 35° (D) 47°



圖(二十二)

50. 某次小哲寒假出國旅行途中，發現飛機上方無雲，但下方卻有一片雲海，此時東方的滿月剛好升起。他朝向座位右側窗外拍攝了一張照片，如圖(三十二)所示，此時飛機位於北緯 35 度附近、高度約為 1 萬 2 千公尺。小哲回家查詢資料後，認為拍攝此照片時，飛機高度大致位於大氣分層中的對流層頂部和平流層底部之交界附近。



圖(三十二)

關於小哲拍攝此張照片時，他所在位置的當地時間與當時飛機航行的方向，最有可能是下列何者？

- (A) 傍晚 6 點，航向北方
(B) 傍晚 6 點，航向南方
(C) 清晨 6 點，航向北方
(D) 清晨 6 點，航向南方

【試題結束】

澎湖縣立文光國民中學 111 學年度第 1 學期第 3 次成績評量 9 年級地理科試卷

班級：

姓名：

座號：

讀卡

答案卷

單一選擇題（第 1 題～第 20 題，第 1～15 每題 2 分，第 16～20 題，每題 1 分，共 35 分）

*簡易選擇題：（第 1 題～第 10 題，每題 2 分，共 20 分）

1. 下列關於北美洲的描述，何者正確？(A)種族、文化多元並存 (B)包含美國、墨西哥兩國 (C)拉丁語為主要流通語言 (D)主要移民來自西班牙、葡萄牙等南歐國家。
2. 北美洲北極海沿岸，冬季嚴寒而長，主要影響因素是什麼？(A)地形崎嶇 (B)緯度偏高 (C)河湖密布 (D)海岸曲折。
3. 下列哪一個山脈地勢高峻，由加拿大、美國向南延伸至墨西哥，為北美洲西部的地形主體？(A)海岸山脈 (B)喀斯開山脈 (C)洛磯山脈 (D)阿帕拉契山脈。
4. 北美洲的農業經營呈現專業化農作帶的分布，這種農業特色不包括下列哪一項？(A)總產量大 (B)耕地面積大 (C)機械化程度高 (D)農業人口比例高。
5. 美國西南部的拉斯維加斯，其位於溫帶沙漠氣候區，造成當地氣候乾燥少雨的主要原因為何？(A)副熱帶高氣壓籠罩 (B)深居內陸、距海遙遠 (C)受海、陸位置影響 (D)位西風的背風側。
6. 北美洲加拿大東岸的多倫多與西岸的溫哥華緯度相近，但溫哥華的氣候較為溫暖，主要原因為何？(A)開發較早 (B)距海較近 (C)地勢較低 (D)洋流性質。
7. 南美洲的氣候類型中，以熱帶氣候區分布最廣。請問：下列何者是解釋這種現象形成的最適當因素？(A)東西兩側都有暖流經過 (B)地勢低平相對氣溫較高 (C)火山活動劇烈地表氣溫較高 (D)陸地最寬廣的部分接近赤道。
8. 均均到祕魯參觀古印加文化遺址，導遊說原住民曾在此地建立輝煌的文化與帝國，但如今已不復存在。下列哪一項是導致當地古文化消失的直接原因？(A)熱帶雨林消失 (B)非洲黑奴輸入 (C)火山活動頻繁 (D)西班牙人的入侵。
9. 全球面積最大的雨林，且有「地球之肺」稱呼的是哪一個地區？(A)巴西高原 (B)亞馬孫盆地 (C)彭巴草原 (D)中美地峽。
10. 哪一種駝獸主要分布於安地斯山脈，毛皮可作為紡織原料？(A)犛牛 (B)駱駝 (C)羊駝 (D)驢。

*閱讀理解題：（第 11 題～第 16 題，第 11～15 每題 2 分，第 16 題 1 分，共 11 分）

11. 「此區地質古老，礦產豐富，為了開採地底下的煤礦，一座座山峰被剝成了凹谷，溪裡流著橘色的酸水。西元 1948 年 10 月，正在賓夕法尼亞州多諾拉小鎮觀賞高中足球賽的群眾，突然發現他們既看不到球員，也看不到球，原來，是附近一座燃煤煉鋅廠飄來煙霧，遮蔽了球場。接下來幾天之內，共有 20 人死亡，全鎮近一半的人口生病。」請問：文中所述地區最可能位在下列哪一個地形區？ (A)洛磯山脈 (B)北美大平原 (C)拉布拉多高原 (D)阿帕拉契山脈。
12. 顏老師在地理課講解北美洲的氣候類型時說：「這個氣候區在冬、夏季節的變化較為極端，夏季時因暖溼氣流北上，普遍炎熱；冬季又因此區域地勢平坦，冷氣團長驅直下，造成各地大雪覆蓋。」老師所說的是哪一種氣候區？ (A)夏雨型暖溫帶氣候 (B)溫帶沙漠氣候 (C)溫帶海洋性氣候 (D)溫帶大陸性氣候。
13. 「西元 2021 年初，美國遭逢暴風雪肆虐，超過 1 億人籠罩在惡劣天氣下，芝加哥積雪達 20 公分，愛荷華州更降下大雪，每小時降雪量可能高達 5 公分。路面結冰恐造成事故，而民眾想要開車出門，也得先剷雪。」請問：北美洲的平原地區冬季時常有暴風雪，這與下列哪一項因素最相關？(A)平原空曠有利冷氣團南下 (B)太平洋沿岸有寒流經過 (C)平原地區有冷、暖空氣交會 (D)來自墨西哥灣熱帶氣旋侵襲。

14. 「一架巨型天線如幻景般地出現在沙漠之中，這是一座 16 層高的鐵塔，豎立在巴塔哥尼亞狂風呼嘯的無垠高原上，阿根廷政府對能夠支持中國探索月球背面的大膽行動感到驕傲。」請問：此一新聞報導中提到的沙漠，是如何形成的？(A)副熱帶高氣壓籠罩 (B)深居內陸，四周山地圍繞 (C)位背風側，沿海寒流影響 (D)西風帶季節性移動。
15. 阿華上網查詢某個國家的資料，作為地理課報告的內容，以下是他所歸納出來的該國特徵簡介。「位於美洲，臨大西洋」、「氣溫由北向南遞減」、「以西班牙語為主」、「為農牧大國，彭巴草原為精華區」。根據內容判斷，他所要報告的國家為下列何者？(A)巴西 (B)智利 (C)阿根廷 (D)巴拿馬。
16. 巴西的森巴舞可說是南美洲多元文化的結晶，此種舞步除了在節慶中成為觀光景點，也似乎被融入在當地的足球運動，其足球隊員踢球時，節奏明快，默契十足，猶如踏著熱情的森巴舞。請問：文中的南美洲的多元文化與下列哪一個族群的文化最沒有關係？(A)印地安人 (B)阿拉伯人 (C)非洲黑人 (D)拉丁人。

***圖形判讀題：(第 17 題~第 20 題，每題 1 分，共 4 分)**

17. 瓜地馬拉曾是馬雅文明的核心地帶，玉米是當地主要的糧食作物，除了西班牙文以外，玉米餅(Tortilla)幾乎可說是另一種共同語言，餐桌上都不難看見玉米餅的存在。請問：文中所述的馬雅文明是出現在右圖中何處？ (A)甲 (B)乙 (C)丙 (D)丁。

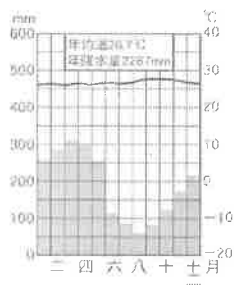


18. 生態學家狄亞哥正在進行研究，他發現西貍喜歡拱草地，在地上挖出一個個用來泡泥漿澡的泥巴坑，當牠們在挖土的時候會連帶改變雨林的地面，製造出大小剛好適合箭毒蛙的水坑。請問：狄亞哥研究的生態棲地最有可能在右圖中何處？ (A)甲 (B)乙 (C)丙 (D)丁。

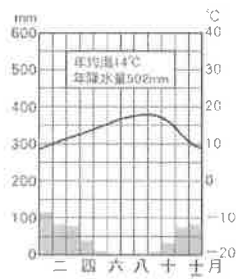
19. 酪農業具有明顯鄰近消費市場的特性，通常分布在大都市附近。依上述推斷，北美最大的酪農帶，主要分布在下圖中哪一個區塊？ (A)甲 (B)乙 (C)丙 (D)丁。



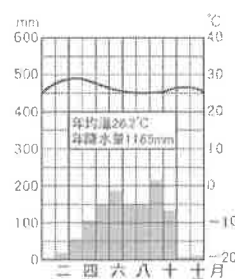
20. 美國加州陽光充足，使得加州成為美國最大的葡萄酒產區，且葡萄種類繁多，幾乎所有歐洲的主要品種，在此地均有種植。請問：加州的氣候近似於下列何者？



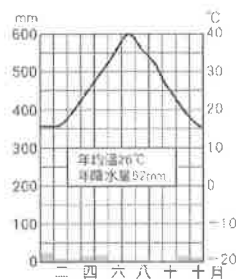
(A)



(B)



(C)



(D)

【~試題結束，文光九年級、地理科~】

澎湖縣立文光國民中學 111 學年度第 1 學期第 3 次成績評量 9 年級歷史科試卷

班級：

姓名：

座號：

讀卡 答案卷

單一選擇題（第 21 題～第 40 題，第 21～35 每題 2 分，第 36～40 題，每題 1 分，共 35 分）

21. 達伽馬是葡萄牙著名的航海家，西元 1498 年他率領船隊沿著西非洲海岸，而後深入南大西洋繞過好望角，最後抵達印度，成為第一位從歐洲遠航的印度人，對日後葡萄牙殖民擴張具有關鍵的影響。請問：達伽馬展開探險之旅的主要目的為何？(A)直接取得亞洲的香料、絲綢等商品 (B)探索不為人知的古文明與少數民族 (C)受到鄭成功的影響，希望前往中國參觀 (D)尋找新農耕地，解決人口眾多的問題。
22. 這個國家的王室資助海外探險活動，發現歐洲人前所未聞的美洲大陸，並在當地建立殖民地，開採大量黃金、白銀，成為十六世紀歐洲的富強國家。請問：上述是指哪一個國家？(A)法國 (B)義大利 (C)葡萄牙 (D)西班牙。
23. 澳門在明朝中葉後租借給葡萄牙，此後深受該國影響，建築、文化、食物等各方面，皆呈現不同於中國傳統的風格與特色。請問：澳門、被葡萄牙租借的背景為何？(A)阿拉伯人揮兵攻擊東南亞國家，威脅葡萄牙殖民勢力 (B)歐洲國家陸續前往亞洲貿易，建立貿易據點並相互競爭 (C)受到鄭和下西洋宣傳國威影響，產生前往中國貿易熱潮 (D)歐洲人嚮往亞洲傳統文化，刻意設立據點以便深入學習。
24. 中南美洲的阿茲提克帝國、印加帝國，曾經是獨具特色的古文明，這些古文明呈現的文化風貌與生活型態與歐亞地區全然不同。然而現在我們只能存留存下來的文物、遺跡，概略認識這些古文明，主要是因為許多珍貴的美洲文化曾因「外力」入侵遭到破壞，上述所謂的「外力」最有可能是指下列哪一群人？(A)英國人 (B)法國人 (C)西班牙人 (D)墨西哥人。
25. 哥白尼是一位虔誠的基督徒，他堅信既然是上帝創造了宇宙，就不會選擇用複雜的方式讓宇宙運行，宇宙的運行規律一定是簡潔又完美的，因此他在長期觀測後提出了什麼主張？(A)三大運動定律 (B)萬有引力定律 (C)太陽為宇宙中心 (D)地球為宇宙中心。
26. 十七世紀初期，歐洲一家公司獲得政府授權，專門經營亞洲的商業貿易。這家公司為維持海上航路暢通，不僅組織軍隊，也在各地設立據點，設官管理，台灣曾是其控制的重要據點之一。請問：上述是哪一家公司？(A)法國西印度公司 (B)英屬東印度公司 (C)荷蘭西印度公司 (D)荷蘭聯合東印度公司。
27. 這個政權以伊斯蘭信仰為主，大約在十六世紀時透過不斷地擴張，得以統治印度大部分地區，商貿、文化皆呈現璀璨輝煌的風貌。但十八世紀後，該政權卻在中央勢力衰弱、外力入侵的情況下逐漸失去影響力，最終在十九世紀被英國取代。請問：以上描述的是哪一個帝國？(A)蒙古帝國 (B)阿拉伯帝國 (C)鄂圖曼帝國 (D)蒙兀兒帝國。
28. 自歐洲探險隊陸續抵達美洲後，中南美洲印地安原住民人口數量，在短時間內以極快的速度減少，其可能主要原因為何？(A)美洲原住民多移民到歐洲生活 (B)無法抵擋歐洲人帶來的傳染病 (C)人數較侵略者少導致戰敗被殺 (D)被大量販賣到非洲當奴工。
29. 一位學者認為：「1519~1522 年的海上探險這次，獲得許多重要成果，包括證實向西航行可達東方；證實地球是圓的；證實美洲並非亞洲的一部分，而是獨立存在的大陸。」由上述內容推斷，此一探險行動可能是下列何人？(A)哥倫布 (B)狄雅士 (C)達伽馬 (D)麥哲倫。

30. 有關荷屬東印度公司與英屬東印度公司的敘述，下列何者正確？(A)是國營公司，擁有武裝勢力 (B)擁有特許狀，可以擁有宣戰、媾和之權 (C)英屬東印度公司總部在加爾各答 (D)荷屬東印度公司總部在巴達維亞。
31. 荷蘭聯合東印度公司所稱的香料群島，其實就是印尼的哪一個島？(A)摩鹿加群島 (B)蘇拉威西島 (C)爪哇島 (D)加里曼丹島。
32. 有一位學者曾說道：「科學是實驗的科學，科學的方法就是在用理性的方法去整理感性的材料，歸納、分析、比較、觀察和實驗，是理性的方法和重要條件。」請問：這位學者應是何人？(A)牛頓 (B)培根 (C)哥白尼 (D)伽利略。
33. 他曾用改良的高倍望遠鏡使人們的眼光得以深入浩瀚星空，窺探宇宙的奧秘，進一步證明了太陽為宇宙中心的看法。請問這應該是何人的事蹟？(A)笛卡兒 (B)牛頓 (C)克卜勒 (D)伽利略。
34. 秀秀說道：「人從感官獲得的信息不一定完全正確，在外觀察得來的經驗不一定是可靠的，應採用更加科學的演繹法，通過論證推理，得出一個可靠的結論。」請問：秀秀對於事物認知的想法可能是受到下列何人影響？(A)培根 (B)哥白尼 (C)笛卡兒 (D)伽利略。
35. 牛頓認為整個宇宙的運行活動都遵循著一定的法則，自然界的各種現象都可以納入此一系統中，宇宙的規律並非神秘不可測，自然現象看似變化多端，實際上都有一定的法則可循。這是受到此時期何種思維盛行的影響？(A)主權在民 (B)理性思維 (C)天賦人權 (D)三權分立。
36. 美國憲法之父麥迪遜曾說：「在將三權分立的理想落實於政治實踐中，我們常要求教於一位法國哲學家。」請問：這位法國哲學家是何人？(A)盧梭 (B)伏爾泰 (C)狄德羅 (D)孟德斯鳩。
37. 十八世紀時，一位法國學者聯合許多學者共同進行某項工作。雖然這些學者哲學觀點和宗教思想不盡相同，但都崇尚理性思維，他們在各自領域發揮專長，進行知識學術整合，使人們更便於檢索知識的相關內容。請問：上述這些學者共同進行的工作為何？(A)合力編寫百科全書 (B)改革基督教教會腐敗弊端 (C)研究如何翻譯聖經內容 (D)探究古希臘、羅馬典籍精神。
38. 下列四位同學在討論有關啟蒙運動精神，請問哪一位說法正確？(A)椰子：用自己的理性，重新檢討一切既有的思想和制度的根本前提，重新評估其正確性 (B)呱呱：人的理性不能勝過信仰，宗教給人信心，世界上有超自然神存在 (C)嚙嚙：只有科學才是一切知識的源頭，努力研究自然科學的法則 (D)比比：人生而不平等自由，只有貴族有權利表達意見，並享有參政權。
39. 啟蒙運動時期，有一位法國學者曾經發表「雖然我不同意你的說法。但我誓死捍衛你發言的權利」、「一個人因為意見不同而迫害他人，實在與禽獸無異」等言論，對當代及後世影響深遠。請問：上述這位提倡「言論自由」的學者應是指下列何人？(A)洛克 (B)伏爾泰 (C)孟德斯鳩 (D)盧梭。
40. 「人與政府之間的關係就像是一種社會契約，藉由社會契約，把個人的意志併入公共的意志，政府只是公共意志的執行者與代理人，只有符合民意的政府才是合法的政府」。請問：這種「主權在民」的理念，是出自於何人的說法？(A)洛克 (B)孟德斯鳩 (C)盧梭 (D)哥白尼。

【～試題結束，文光八年級、歷史科～】

澎湖縣立文光國民中學 111 學年度第 1 學期第 3 次成績評量 9 年級公民科試卷

班級： 姓名： 座號： ■讀卡 □答案卷

一、 單選題(41~50 題，每題 2 分；51~55 題，每題 1 分。單選題共 25 分)

- () 41. 康康與萱萱從兒時就是很要好的玩伴，感情非常好。在考完國中基測後，因為擔心就讀不同的高中，所以，兩人雖然只有 15 歲，卻私訂終身。「私訂終身」的意思就是，沒有經過法定代理人同意，就與別人定下婚事。就我國《民法》的相關規定而言，康康與萱萱的婚約是否有效？
 (A)有效，因為有情人終成眷屬，將傳為美談(B)無效，因未達法定年齡、且未經法定代理人同意
 (C)無效，因為缺乏公開的儀式，及二人以上的證人 (D)有效，因為戀愛自由、愛情至上。
- () 42. 「誠實信用」是《民法》的主要原則。下列哪一項行為符合此原則？ (A)泡麵廠商將快到期的食品擺放在惜食區，並以海報清楚提醒 (B)為擴建高速公路，政府強制徵收私人土地
 (C)《菸害防制法》上路前，在公共場所吸菸者不罰 (D)購買電器，使用前應詳細閱讀說明書。
- () 43. 小蔡多次趁消費時詐騙某一店家財物，老闆不甘受騙報警處理。雖然小蔡遭逮後深表懊悔，並賠償店家損失達成和解，老闆也決定不提出告訴，但警方仍依法將他移送法辦，最後小蔡遭法院判處罰金。上述小蔡與老闆達成和解，以及被法院判罰的部分，依序屬於下列何種類型？ (A)行政案件、告訴乃論的刑事案件 (B)民事事件、告訴乃論的刑事案件 (C)行政案件、非告訴乃論的刑事案件 (D)民事事件、非告訴乃論的刑事案件
- () 44. 小旻在電視劇上看到以下劇情：一名非婚生子女發現其生父為何人，想透過 DNA 鑑定來確認其與生父之間的親屬關係，此屬於《民法》中哪方面的權利義務關係？ (A)買賣關係 (B)契約關係 (C)身分關係 (D)借貸關係。
- () 45. 《民法》規定在下列何種類型的日常生活事務中，限制行為能力的未成年人雖未得到法定代理人事前的允許，也具法律效力？(甲)單純得到利益的行為 (乙)基於自己意願所做的行為 (丙)按照年齡及身分，日常生活所必需者 (A)甲乙 (B)甲丙 (C)乙丙 (D)甲乙丙。
- () 46. 右列有關民事訴訟的敘述，哪些是正確的？
 (A)甲乙 (B)甲丁 (C)乙丙 (D)丙丁。
- () 47. 在現代社會中，許多人習慣使用信用卡消費，但社會新聞中常看見持卡人過度消費，卻無力向銀行繳納刷卡費用的報導。根據我國法律規定，上述銀行所能採取的權利救濟途徑，與下列何者所能採取的權利救濟途徑最相近？(A)違反交通規則遭警察開立罰單 (B)向政府申請建築執照卻遭到拒絕 (C)不服法院對於土地徵收處分的判決(D)離婚時母親不滿父親取得兒女監護權
- () 48. 右表為調解委員會調解程序的敘述，其中哪項說法才正確？
 (A)甲 (B)乙 (C)丙 (D)丁。
- () 49. 莊男因工廠經營不善向李女借 100 萬元周轉，但是後來莊男還不出款項，李女要求莊男賣身為奴 10 年，供其使喚，莊男思索後同意這項建議。上述契約是否有效？(A)是，符合契約自由原則 (B)是，因雙方意思表示一致 (C)否，違反公序良俗 (D)否，因未簽訂書面契約。
- () 50. 關於民事紛爭的解決途徑，下列敘述何者正確？ (A)可至各鄉鎮市區的調解委員會進行調解 (B)訴訟外途徑中，僅和解與法院判決有相同效力 (C)訴訟前皆應先由調解委員會試行調解 (D)為獲得最公正的解決，應盡量以訴訟方式來處理。
- () 51. 何先生因心智缺陷，不能處理日常生活事務，而受監護宣告。關於何先生法律行為的效力，與下列何者相同？(A)6 歲讀幼稚園大班的美美 (B)10 歲讀小學四年級的宣宣 (C)20 歲讀大學的敏敏 (D)35 歲失業中的小陳。

甲、權益受損的當事人可向檢察官提出告訴。
 乙、若對判決結果不滿，可對同一件事再行起訴。
 丙、訴訟進行時，由雙方當事人提出有利自己的證據。
 丁、由法官根據雙方提出的證據及辯論內容進行判決。

甲	人民發生竊盜、債務糾紛、交通違規事件，皆可聲請調解。
乙	向設於縣市政府的調解委員會聲請調解。
丙	調解委員會由法官、書記官、檢察官等司法人員組成。

【本頁結束 後面尚有試題】

- () 52. 一切訴訟之成立以有下列哪三個主體之存在為必要？(甲)法官 (乙)原告 (丙)被告 (丁)檢察官
 (A)甲乙丙 (B)甲乙丁 (C)甲丙丁 (D)乙丙丁。
- () 53. 以下是和解與調解的比較——根據內容判斷，上述甲、乙、丙、丁依序應依序填入下列何者？ (A)法院、無、法院、契約效力
 (B)法院、無、調解委員會、契約效力
 (C)法院、契約效力、調解委員會、同法院確定判決
 (D)警察局、契約效力、市(縣)政府、同法院確定判決。
- () 54. 身為現代公民，應該對權利意識和法律知識有正確的態度，下列哪個人的觀念符合上述的說法？(A)小康：「法律的事情交給律師處理，個人不須了解法律知識。」
 (B)小許：「法律不一定能保障個人權利，有時必須採取自力救濟的手段。」
 (C)小簡：「法律保障關心自身權益的人，因此必須保持積極主動的態度。」
 (D)小方：「個人權利要獲得保障，必須與法官建立良好的關係。」
- () 55. 小勳和朋友簽訂買賣房屋契約，後因房價上漲，小勳想要反悔，而與朋友發生糾紛。小勳可能須負起何種法律責任？(A)侵權行為責任(B)債務不履行責任(C)契約自由責任(D)誠實信用責任。

項目	和解		調解	
	訴訟外的和解	訴訟上的和解	行政機關調解	司法上的調解
機關	無	甲	丙	法院
法律效力	乙	同法院確定判決	丁	

二、題組(第 56~60 題，每題 1 分，共 5 分)

1. 家住臺北市的劉太太，習慣把腳踏車停在 1 樓樓梯間，以方便進出，卻因腳踏車把手勾到鄰居林姓女子的背包，造成其跌倒受傷。林女從事舞蹈工作，她向劉太太提出損害賠償，要求醫藥、生活、因傷減少工作的損失，以及精神損害賠償共 15 萬元，但劉太太只願支付 5 千元，兩人經調解不成，林女因此提起訴訟。日前，第一審法院做出判決，劉太太因傷害罪被處以拘役，賠償林女 3 萬元。請回答下列問題：
- () 56. 上述「調解」程序，可以聲請調解的事項為下列何者？ (A)僅有民事事件 (B)所有的民事事件與刑事事件 (C)民事事件、告訴乃論的刑事事件 (D)民事事件、非告訴乃論的刑事案件。
- () 57. 依據上文所述，劉太太須負擔何種法律責任？ (A)僅須負擔刑事責任 (B)僅須負擔民事責任 (C)須負擔刑事責任與民事責任 (D)負擔行政責任與刑事責任。
2. 小靜是健康小學的六年級學生。她要參加學校舉行的畢業旅行，因此用零用錢付了畢業旅行的費用。參加畢業旅行之前，她特地去百貨公司買了一臺相機，希望在旅行時能跟同學留下美好的紀念。請回答下列問題：
- () 58. 依小靜的年齡來看，她屬於《民法》規定中的哪種行為能力人？ (A)完全行為能力人 (B)無行為能力人 (C)限制行為能力人 (D)限制責任能力人。
- () 59. 若小靜的父母認為她購買的相機太過昂貴，可以怎麼做？ (A)向商家退貨要求退錢 (B)控訴商家侵害監護責任 (C)因無法退貨，所以只能接受 (D)不能退錢，只能換貨。
- () 60. 小靜參加畢業旅行時，不小心害同學的手機泡水了，手機行表明這個手機已無法修復，那麼小靜的父母要負起什麼責任？(A)道德責任 (B)違約責任 (C)債務不履行責任 (D)侵權行為責任。

【試題結束—文光九年級、公民科】