

澎湖縣立文光國民中學 111 學年度第 2 學期第 2 次成績評量七年級國文科試題卷

班級： 姓名： 座號： ■答案卷

一、國字注音：(每一個「」1分，共15分)

1. 「湛」藍： 2. 「頷」聯： 3. 打「拚」： 4. 林木「蒼」鬱： 5. 神明「庇」佑：
6. 鑲「嵌」： 7. 「撇」下一切： 8. 「彳乂厶」憬未來： 9. 璫「ㄅㄨㄣˋ」：
10. 「ㄎㄨㄚˋ」炙人口： 11. 熙熙「ㄉㄨㄛˊ」： 12. 「ㄉㄨㄛˊ」然一新：
13. 醞「ㄩㄢˋ」： 14. 「ㄍㄨㄥˋ」機： 15. 海水潰「ㄍㄨㄥˋ」：

二、注釋配合題：(請根據句子的描述，填入正確答案的代號，每題1分，共8分)

1. 扶搖直上： 2. 莫非： 3. 漫卷： 4. 欲「窮」千里目：
5. 「青春」作伴好還鄉： 6. 莽莽： 7. 驚鴻一「瞥」： 8. 駐足：

※配合選項：A 目光掠過 B 無不、都是 C 漫畫書 D 春天 E 由下急速地盤旋而上
F 年輕 G 魯莽、不講理 H 隨意收拾 I 停留 J 搖搖晃晃上樓
K 不是、否認 L 無邊無際的樣子 M 嚇了一跳 N 極盡 O 貧乏、貧困

三、成語配合題：(請根據句子的描述，填入正確答案的代號，每題1分，共15分)

【(A) 欲蓋彌彰 (B) 披沙揀金 (C) 古道熱腸 (D) 民脂民膏 (E) 囫圇吞棗
(F) 目不暇給 (G) 絃歌不輟 (H) 百步穿楊 (I) 傾囊相授 (J) 仁心仁術
(K) 強弩之末 (L) 如膠似漆 (M) 動輒得咎 (N) 洗淨鉛華 (O) 自顧不暇
(P) 鶉衣百結 (Q) 汲汲營營 (R) 明月清風 (S) 恃才傲物 (T) 星羅棋布】

1. 他醫術精湛，對待病人如同親人，真可謂是 (1)。
2. 敵軍在糧食不足的情況下已成 (2)，不久勢必棄械投降。
3. 俊勇為人 (3)，慈善義舉一向不落人後，周邊的人都很尊敬他。
4. 一個有天分的人，若 (4)，不肯力學，總有一天會江郎才盡的。
5. 難民們顛沛流離，如今各個 (5)，面黃肌瘦，看來令人神傷不已。
6. 益庭將他的人生經驗 (6)，只為了不要讓更多人走向錯誤的道路。
7. 人生就像一趟豐富精彩、(8)的旅程，一定要好好珍惜當下的每一刻。
8. 這位當紅女明星自從告別演藝圈後，(7)，回歸樸實的樣貌，恬淡生活。
9. 大家原本只是懷疑他而已，但他忙於辯解的樣子反而是 (9)，不打自招。
10. 編輯們每天要從幾百件來稿中 (10)，選出優秀的文章，發表在報紙上。
11. 雖然飽受天災的威脅，但在校長和老師的努力下，這個小學校仍然 (11)。
12. 像他這樣循序漸進地學習，雖然成效可能較慢，總比 (12)、不求甚解要好。


【第1頁結束 背面尚有試題】

- 13、經過此番經歷，堅貞的友誼使得她們更是（ 13 ）地黏在一起，誓言永不分離。
- 14、他寧可到山上隱居，過著（ 14 ）的生活，也不願回到城市中與他人爾虞我詐。
- 15、我最近實在是忙得暈頭轉向，（ 15 ），連帶的把你託付的事也拖延了，十分抱歉。

四、選擇：(每題2分，共42分)

1. () 黃老師上課時，請同學說出現代詩的特色，下列哪一位同學回答不正確？(A)小文：現代詩用韻自由，可以押韻，也可以不押韻 (B)小光：寫作現代詩不可使用標點符號，只要換行並列書寫即可 (C)小國：現代詩又名「新詩」、「白話詩」、「自由詩」 (D)小中：現代詩中的「小詩」界定在十行以下，字數在一百字以內。
2. () 有關跳水一詩的敘述，下列何者有誤？(A)全詩色彩鮮明，語言精鍊 (B)「描畫出從容的曲線」描繪跳水過程中優美的姿態 (C)全詩呈現跳水由上而下的動感 (D)「讓青春去激起／一片雪白的讚嘆」描寫作者的信心與希望。
3. () 下列關於風箏一詩的敘述，何者正確？(A)這是一首詠人抒懷的小詩 (B)「細細一線，卻想與整座天空拔河」透露出不自量力的態度 (C)「風箏」在詩中是「想像」的象徵 (D)「我開始拉著天空奔跑」以誇飾的筆法表達積極進取的精神。
4. () 下列詩句與所歌詠的對象，何者配對正確？(A)年年秋劫之後，萬花落盡／你擎一叢一叢紅豔／如擎一支一支火炬自冰冷冷的封凍下，默默燃炬——梅花 (B)分開了大家吃／早上暖舌／中午燙嘴／味道像橘子的是黃昏／吃完了／明天還有一一月餅 (C)飛翔了一整個夏天／你該停歇／一襲招人妒忌的紅／燒傷了世人的畏縮／寂寞的豔麗著／只有蟬聲是你的知音——鳳凰木 (D)不論是／去舊也好／迎新也好／一次炸裂，已然注定：／我是，要在／一個聲響裡誕生／一個聲響裡絕滅——竹子。
5. () 下列有關近體詩的敘述，何者正確？(A)一首五言絕句和一首七言律詩，共有七十六個字 (B)絕句要求一韻到底，律詩則可換韻 (C)絕句和律詩奇數句皆不可押韻 (D)絕句及律詩皆要求對仗。
6. () 以邊塞作為題材，專門描寫邊塞風光與生活的詩，屬於邊塞詩派。下列哪一首不是邊塞派詩風？(A)黃河遠上白雲間，一片孤城萬仞山。羌笛何須怨楊柳？春風不度玉門關（王之渙）(B)煙籠寒水月籠沙，夜泊秦淮近酒家。商女不知亡國恨，隔江猶唱後庭花（杜牧）(C)誓掃匈奴不顧身，五千貂錦喪胡塵。可憐無定河邊骨，猶是深閨夢裡人（陳陶）(D)葡萄美酒夜光杯，欲飲琵琶馬上催。醉臥沙場君莫笑，古來征戰幾人回（王翰）。
7. () 下列關於出獄歸家一詩的敘述，何者正確？(A)透過自身遭遇，表達反殖民意識 (B)「反似」是全詩的轉折處 (C)書寫獄中孤獨冷清的感受 (D)作者曾於戰場上奮勇殺敵。
8. () 關於登鶴雀樓的賞析，下列何者正確？(A)是一首平起式的五言律詩 (B)前兩句抒懷，藉登樓遠眺抒發感受 (C)後兩句以寫實之筆，寫黃河入海的壯闊景象 (D)全詩用語淺白，寓意深遠，展現了作者的視野與胸襟。
9. () 關於聞官軍收河南河北一詩的內容分析，下列何者正確？(A)由首聯可知杜甫聽聞捷報時身在蘄北 (B)在領聯中可看出杜甫妻子一人獨守劍外 (C)頸聯的「白日放歌須縱酒」一句呼應了「喜欲狂」 (D)末聯雖未對仗，卻連貫四個地名，表現返鄉的雀躍心情。
10. () 嚴羽《滄浪詩話》：「律詩難於古詩，絕句難於八句；七言律詩難於五言律詩，五言絕句難於七言絕句。」依照這段話推斷，嚴羽認為最容易寫的詩是下列何者？(A)五言古詩 (B)七言絕句 (C)八言律詩 (D)五言絕句。

11. () 下列關於石虎是我們的龍貓一文的寫作手法，何者敘述正確？(A)全文藉物說理，透過石虎強調開發山林的重要性 (B)文中列舉多種淺山動物，凸顯現今生態保育的成功 (C)作者建議學習西表島的經驗，將石虎移居外島以發展觀光產業 (D)篇名將石虎和龍貓連結，引發讀者對生態保育議題的關注。
12. () 下列文句，何者「沒有」冗言贅字？(A)現在不易記錄，緣自於環境的大面積開發 (B)低海拔山區是臺灣開發破壞最嚴重厲害的森林 (C)晚近石虎數量大量銳減，可能繼雲豹後滅絕 (D)幫我們為淺山鑲嵌放了一顆璀璨的寶石。
13. () 在石虎是我們的龍貓一文中，作者如何有層次說明生態保育的議題？(A)敘述龍貓在日本的意義，接著說明石虎對臺灣的重要，進而呼籲要珍惜 (B)描述過去石虎常見，對比現今石虎瀕臨絕跡，期勉共同努力讓石虎復育 (C)以石虎的生存危機為主軸，進而提出疑問引發讀者思考，最後提出建議 (D)從琉球西表島的山貓談起，進而點出石虎在臺灣的困境，建議可以效法日本。
14. () 劉克襄獲得聯合報文學獎，獲獎原因在於他總親身走訪，抵達現場，「即使寫入了高妙的想像，亦必然立基於勤勞收穫的現場即視上」。創作三十年來，每一本書、每一個字都是他親身走訪、抵達現場所得。根據以上敘述，下列哪一句話最可能是他得獎的總評？(A)看山水風物也看見臺灣 (B)每一本書就是他走過的路 (C)每個主題都走在時代的尖端 (D)溫暖文字打動許多人，成功牽動各界力量。
15. () (甲)楷書(乙)篆書(丙)金文(丁)甲骨文(戊)隸書。以上五種字體，依年代先後排列順序，會是下列何者？(A)丙丁甲戊乙 (B)丁丙戊甲乙 (C)乙丁丙戊甲 (D)丁丙乙戊甲。
16. () 黃老師請同學報告漢字形體的演變，下列四位同學報告的內容，何者正確？(A)小戚：甲骨文大多是象形字，是迄今發現最早已成系統的文字 (B)小年：大篆筆畫圓勻，結構簡化。秦國統一天下後，大篆成為官定的標準字體 (C)小貳：草書的筆畫簡省，筆法奔騰豪放，運筆自由，比行書容易辨識 (D)小斑：楷書擺脫圖畫性，為方塊漢字奠定基礎。它的筆畫平直，結構方正。
17. () 請你根據對書法的常識，判斷下列四人誰說的話完全正確？(A)小文：行書要求上下筆意相連，書體自由，筆勢和字形介於楷書和草書之間 (B)小光：練習書法要多臨摹，我喜歡寫胖胖的字體，所以選用柳公權的字帖 (C)小國：王羲之的蘭亭集序，堪稱名聞千古的「天下第一草書」 (D)小中：最近我在練習隸書的字體，老師要我掌握筆畫圓轉的重點。
18. () 中國文字的演變，可從書法上觀其一二，請辨識出以下甲到丁的書體：



- (A) 甲骨文、楷書、草書、隸書 (B) 金文、隸書、行書、楷書 (C) 小篆、隸書、行書、楷書 (D) 大篆、楷書、行書、隸書。

19. () 「如果把『天燈』這個要素因為保護環境之故而從平溪取消，恐怕平溪線鐵道都有可能因為漸減少的人潮而黯淡，不僅造成當地經濟效益的損失，連帶會影響國際觀光效益。」根據這段文字，下列敘述何者正確？(A)為了國際觀光效益，不太可能輕易禁止施放天燈 (B)為了環境保護，即使損及經濟發展也無所謂 (C)平溪線鐵道上若可放天燈，可使當地經濟起飛 (D)地方人士要求在環保維護及地方發展之間，盡量尋求平衡。
20. () 「為了安全考量，鐵路警察近日開始大力取締『鐵路放天燈』的民眾，依鐵路法第 57 條第 2 項，行人、車輛不得在鐵路路線、橋梁、隧道內以及站區，沒有提供公眾通行的地方通行，違者最高可以被裁罰五萬元，但前提是需要拍照檢舉。」根據上文，下列有關「鐵道放天燈」的裁罰說明，何者正確？(A)裁罰是因為違反鐵路法 (B)罰鍰在五萬元以上 (C)一旦被民眾電話檢舉即裁罰 (D)政府基於環保考量開始取締。
21. () 曹俊透過電視轉播觀看本週 NBA 四支隊伍：「湖人隊」、「老鷹隊」、「山貓隊」及「太陽隊」所進行的六場比賽，曹俊在轉播結束後寫下〈NBA 當週戰報〉：

NBA 當週戰報		
<u>太陽</u> 晒傷 <u>湖人</u>	<u>老鷹</u> 獵殺 <u>山貓</u>	<u>湖人</u> 踹下 <u>老鷹</u>
<u>太陽</u> 火焚 <u>山貓</u>	<u>老鷹</u> 灼傷 <u>太陽</u>	<u>湖人</u> 痛宰 <u>山貓</u>

請問由上述內容可推知，本週六場比賽戰績最差的是哪一隊？

- (A)湖人隊 (B)老鷹隊 (C)山貓隊 (D)太陽隊。

五、延伸閱讀題：(一題2分，共20分)

春秋時候，衛國大夫石駘仲去世，沒有嫡子，於是庶子六人用占卜方式來決定誰為繼承者。有人說：「沐浴之後，改穿吉服，戴上佩玉的人，占卜時就可以獲得吉兆。」五個庶子都照著做，只有石祁子說：「哪有為父親守喪，卻洗淨身體，戴上玉佩的呢？」所以他不照著做。占卜的結果，石祁子竟然得到吉兆，成了石駘仲的繼承人，衛國人認為用來占卜的龜甲很靈驗。

改寫自禮記檀弓下

1. () 文中庶子為什麼在服喪期間改穿吉服？
(A)參加朝覲 (B)喪服髒了 (C)為獲得繼承權 (D)臨時有喜事發生。
2. () 為什麼石祁子是繼承人？
(A)孝順守禮 (B)暗中動手腳 (C)其他五人謙讓 (D)石駘仲遺囑指定。

眉、眼、口、鼻四者，皆有神也。

一日，口為鼻曰：「爾何能，而位居吾上？」鼻曰：「吾能別香臭，然後子方可食，故吾位居汝上。」

鼻為眼曰：「子有何能，而位在我上也？」眼曰：「吾能觀美惡，望東西，其功不小，宜居汝上也。」

鼻又曰：「若然，則眉有何能，亦居我上？」眉曰：「我也不解與諸君相爭得。我若居眼鼻之下，不

知你一個面皮安放哪裡？」

(羅燁醉翁談錄各司其職)

註：①為：音ㄨㄛˋ，跟、與。②美惡：指美醜。

3. () 有關「吾能別香臭」句中的「別」字，下列解釋何者正確？
(A)訣別 (B)餞別 (C)告別 (D)辨別。
4. () 故事中的眼、口、鼻為了居上位而起爭執，他們所憑藉的理由是什麼？
(A)能力 (B)大小 (C)美醜 (D)面相。
5. () 本篇文章的內容，主要是在嘲諷下列哪一種人？(A)放蕩不羈，不守規矩的人 (B)自以為是，目光短淺的人 (C)虛情假意，巧言令色的人 (D)好大喜功，鋪張浪費的人。

舍南舍北皆春水，但見群鷗日日來。花徑不曾緣客掃，蓬門今始為君開。
盤飧市遠無兼味，樽酒家貧只舊醅。肯與鄰翁相對飲，隔籬呼取盡餘杯。

(杜甫 客至)

6. () 這首詩的對仗是哪幾聯？
(A)一、二聯 (B)二、三聯 (C)三、四聯 (D)二、三、四聯。
7. () 「舍南舍北皆春水，但見群鷗日日來。」以上描寫的是何種景象？
(A)寧靜祥和 (B)門庭若市 (C)喧鬧吵雜 (D)爭權奪勢。
8. () 下列何者最能看出主人待客的熱誠？ (A)舍南舍北皆春水，但見群鷗日日來 (B)花徑不曾緣客掃，蓬門今始為君開 (C)盤飧市遠無兼味，樽酒家貧只舊醅 (D)肯與鄰翁相對飲，隔籬呼取盡餘杯。

個人形象跟國家形象一樣重要，要建立良好的個人形象，必須先從改善別人對自己的印象，也就是改善「自我形象」做起。

一個人先要看得起自己，別人才看得起你。這是一個很簡單卻真實的道理，口口聲聲說「我不是讀書的料」的學生，在別人眼光裡一定越來越像一個自暴自棄的孩子。

每逢談到自己的時候，要使用樂觀、進取、肯定和積極的語言，這樣不但能提高自尊心，改善自我形象，也能使別人刮目相看。心理學家說，一個人對自己天賦的態度，比天賦本身更重要。

常常想像自己是一個有前途的學生，前途一定大放光明。(黃驥 建立個人形象)

9. () 下列何句可做為「一個人先要看得起自己，別人才看得起你」的註解？ (A)出淤泥而不染 (B)士別三日，刮目相看 (C)以牙還牙，以眼還眼 (D)君子不重則不威。
10. () 下列哪一個例子，適合用來證明「一個人對自己天賦的態度，比天賦本身更重要」？
(A)拿破崙每天只睡四小時，橫跨歐洲戰功彪炳 (B)史懷哲義無反顧，到非洲行醫救人
(C)牛頓坐在蘋果樹下，發現地心引力 (D)口足畫家謝坤山身體有缺陷，依然樂觀向上。

【試題結束，請仔細檢查一文光七年級國文科】

澎湖縣立文光國民中學 111 學年度第 2 學期第 2 次成績評量七年級國文科答案卷

班級：

姓名：

座號：

一、國字注音：(每一個「」1分，共15分)

1.	2.	3.	4.	5.	6.	7.	8.
9.	10.	11.	12.	13.	14.	15.	

二、注釋配合題：(填入正確答案的代號，每題1分，共8分)

1.	2.	3.	4.	5.	6.	7.	8.
----	----	----	----	----	----	----	----

三、成語配合題：(請根據句子的描述，填入正確答案的代號，每題1分，共15分)

1.	2.	3.	4.	5.	6.	7.	8.	9.	10.	11.	12.	13.	14.	15.
----	----	----	----	----	----	----	----	----	-----	-----	-----	-----	-----	-----

四、選擇：(每題2分，共42分)

1.	2.	3.	4.	5.	6.	7.	8.	9.	10.	11.
12.	13.	14.	15.	16.	17.	18.	19.	20.	21.	

五、延伸閱讀題：(一題2分，共20分)

1.	2.	3.	4.	5.	6.	7.	8.	9.	10.
----	----	----	----	----	----	----	----	----	-----

【考卷填寫完畢，請仔細檢查一文光七年級國文科】

※ 測驗時間四十五分鐘，請用本國文字書寫，可不必抄題目。 七年 班 座號： 姓名：

※ 請用黑色墨水筆（不得使用鉛筆），由上而下，自右而左書寫，文長三百字以上，不得使用詩歌、小說體裁及網路語言。

※ 答案紙上不得作任何標記或顯示個人身分，否則皆以零分計算。請仔細閱讀以下題目及說明，撰寫一篇作文。

題目：珍藏一個回憶

說明：每個人在生命旅程中都會有許多往事，而有些往事可能會成為值得珍藏的回憶：也許是充滿奇思妙想或歡聲笑語的童年往事，也許是一趟與家人共度的旅遊假期，也許是某一段相知相惜的友情，也許是陪伴自己多年的寵物在生活間所發生的點點滴滴。你有什麼值得珍藏的回憶呢？為什麼想要好好珍藏這個回憶？請以「珍藏一個回憶」為題，寫出你的經驗、體會或感想。

教師評語：

- 深入切題，符合文旨。
- 敘述詳盡，內容豐富。
- 取材適切，結構完整。
- 文筆流暢，情節生動。
- 論點圓融，首尾呼應。
- 段落分明，標點清晰。
- 舉例得當，引人入勝。

- 修辭優美，詞彙豐富。
- 用詞恰當，深具巧思。
- 字跡端正，版面整潔。
- 內容尚佳，取材不足。
- 行文尚佳，分段欠當。
- 文雖切題，未能深入。
- 佈局平穩，內容貧乏。

- 虎頭蛇尾，文末終篇。
- 詞句冗贅，文詞反覆。
- 平鋪直敘，不夠生動。
- 文不對題，篇幅雜亂。
- 錯字連篇，用詞欠妥。
- 字體潦草，標點不清。
- 體裁誤用，違反規則。

其他評語及評分：

澎湖縣文光國民中學111學年度第二學期第二次段考 七年級英語科 試題卷


班級：_____ 座號：_____ 姓名：_____

★請將所有答案寫在答案卷上，否則不予計分★

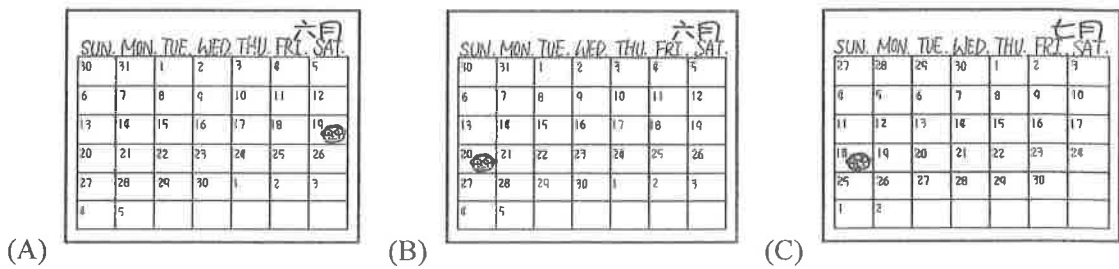
一、聽力測驗（A部分：每題1分，共4分；B部分：每題2分，共8分；此大題共12分）

A. 辨識句意：每題均有三張圖片，請依據所聽到的句子，選出符合描述的圖片。

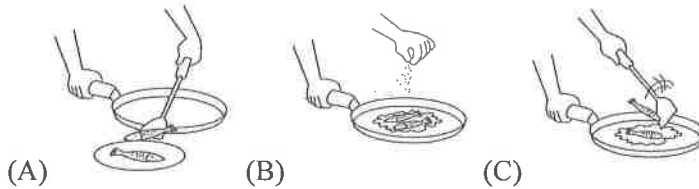
1. ()



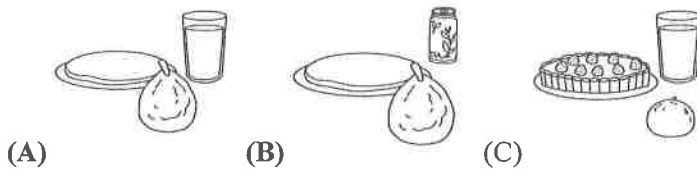
2. ()



3. ()



4. ()



B. 言談理解—每題均有三個選項，請依據所聽到的對話與問題，選出一個最適當的答案。

5. () (A) He studies in Africa.
(B) His grandparents work away from home.
(C) His grandparents take care of him this month.
6. () (A) Five.
(B) Eight.
(C) Seven.
7. () (A) It's on May eighth.
(B) It's on May eighteenth.
(C) It's on May twenty-eighth.
8. () (A) Now, the fruit pie is ready.
(B) First, put two cups of flour in the bowl.
(C) Then put two cups of flour in the bowl.

背面尚有試題

二、文意字彙 (每題 2 分, 共 20 分)

1. _____ Do you know how to make milk tea? Just(只要) m_____x the milk with the black tea.
2. _____ In our English textbook(課本), Bella is Nick's sister. She is a _____o his English teacher in Nick's school.
3. _____ The National Day of Taiwan is on O _____r 10th. Students there don't need to go to school that day.
4. _____ Math and English is not that d _____t. If(假使) you study harder(更努力), you can have good grades, too.
5. _____ Jessica: My birthday is on F _____y 29th.
Doris: Poor(可憐的) you. Then you can only celebrate(慶祝) your birthday every four years.
6. _____ Daughter: Mom. Who is this "Jack Rodriguez"? Why is his l _____r in our home?
Mom: Well. The postman(郵差) must give it to the wrong house.
7. _____ Gary: Who does the dishes in your family?
Hank: My father does. He does most(大多數) of the h _____k in my family.
8. _____ Ted: Hey, Jimmy. Can you help me with my English homework?
Jimmy: Sure. It's a p _____e of cake to me.
9. _____ Rose: What's the white powder(粉末) on your face?
Jack: Oh. That is f _____r. I was making a pancake.
10. _____ Eric: What do you want for your dinner?
Gina: I want beef noodles.
Eric: OK. Two bowls of beef noodles.
Gina: No. One is e _____h. Thank you, Dad.

三、文法與對話選擇 (每題 2 分, 共 30 分)

1. () Jean: Is your cousin's graduation _____ May 6th?
Diana: No. His graduation is _____ June.
(A) in; in (B) in; on (C) on; at (D) on; in
2. () Fiona is _____ years old. And today is her brother's _____ birthday. They are going to celebrate(慶祝) it with their parents tonight.
(A) ten; nine (B) tenth; nine (C) ten; ninth (D) ten; ninth
3. () Lori: Excuse me, where can I see this teacher?
Mia: Ah, this is Teacher Jasper. His office(辦公室) is on _____.
(A) four floor (B) fourth floor (C) the four floor (D) the fourth floor
4. () Hank: Hey! Let's go out and play basketball. Can you lend(借給) me your basketball?
Ray: Oh, this isn't _____. I took(拿) it from Shelly. This is _____ basketball.
(A) my; her (B) my; hers (C) mine; her (D) mine; hers
5. () My brother is so good at music. He can sing and play the piano. He can play the guitar. He _____ the drum. He's really awesome, isn't he?
(A) also play (B) play also (C) can play also (D) can also play
6. () Tina: _____ do you want, beef noodles, chicken rice _____ hamburgers?
Amanda: I want chicken rice.
(A) What; and (B) Which; or (C) Whose; or (D) Which; and

請接續下一張考卷作答

7. () Mike: How many _____ there in the pond?
Tony: I don't know. Ten?
(A) fish; are (B) water; is (C) fishes; are (D) water; are
8. () Paddy: _____ pie do you want?
Yvette: Sorry, I don't want any. I don't like pie. Thank you.
Paddy: Then _____ pancakes do you want?
Yvette: One, please. Thank you.
(A) How many; how many (B) How much; how much
(C) How many; how much (D) How much; how many
9. () Kate: Mom, the soup is tasteless(沒味道的).
Mom: You can _____ some salt and pepper(胡椒) _____ it.
(A) put; at (B) add; for (C) put; with (D) add; to
10. () Ben: How _____ do you drink every day?
Vito: Three cans. I love orange juice a lot.
(A) many; juice (B) many; cans of juice (C) much; juices (D) much; cans of juice
11. () Beck: What's the date today?
Alex: _____
(A) It's Wednesday. (B) It's May 15th.
(C) It's on July 25th. (D) It's the second Sunday of May
12. () Eric: Let's follow Oliver's recipe and make a bowl of chicken soup.
Diana: _____
(A) No problem. (B) I can take care of my soup.
(C) Let's make a round bowl. (D) When does Oliver make chicken soup.
13. () Joe: Where are my glasses? I cannot find it!
Sam: _____
Joe: Thanks.
(A) You are here. (B) Are you here.
(C) Here are you. (D) Here you are.
14. () Daisy: My mom is nice to me. I want to make a card for her.
Drico: My mom passed away(過世) last(上一個) year.
Daisy: Oh... I'm so sorry.
Drico: It's OK. After that, _____ I want to make a card for him to thank him this year!
(A) I don't go to school every day.
(B) I make two cards for my mom.
(C) my dad takes good care of me.
(D) my grandparents move(搬家) back with us.
15. () Andy: I want to join Lavern's birthday party, too. Can you take me with you?
Gillian: Sure. But you have to help me with this banana cake.
Andy: _____
Gillian: Please give me the eggs, milk and a bowl. Thank you for your help.
(A) Which do you want?
(B) What can I do for you?
(C) Do you have any eggs?
(D) How many eggs are there on the table?

四、克漏字測驗 (每題 2 分, 共 8 分)

Penny: The Sports Day is coming. Do you know when it is?

Cathy: Sure I do. The Sports Day is 1. this Friday. It's only 2..

Penny: Yes. 3. are so tired because I practice after school every day. By the way, are you going to join a race?

Cathy: Yes. I am going to run a relay with my classmates. I am so nervous, but I am sure we can win the race! We practice running every Wednesday... Wait. 4..

Penny: It's Wednesday.

Cathy: Oh, no! I have to go practice with my classmates. See you!

Penny: OK. See you.

Sports Day 運動會 because 因為 relay 接力賽

1. () (A) X (B) in (C) at (D) for
2. () (A) for two days (B) at two days (C) two days still (D) two days away
3. () (A) Two legs (B) Both my leg (C) Both my legs (D) Two of my legs
4. () (A) What day is it? (B) When is the race? (C) What day is the Sports Day? (D) What's the date today?

五、閱讀測驗 (每題 2 分, 共 10 分)

A.

Sam: You are really thirsty today. You keep drinking water today.

Lucas: Not really. I just read an article this morning. It's about drinking water.

Sam: What does it say?

Lucas: It says we need to drink at least two liters of water every day. But I only drank one liter today. I need to drink more!

Sam: It's OK. Don't push yourself so hard. In fact, you can drink only one liter and half for a day.

Lucas: Why is that?

Sam: We're seventy now. We don't do sports often. Of course we don't need that much water. The article must be for the young men or kids.

Lucas: Then I can do more sports and drink more water. This way, I can be young again.

Sam: That's not what I mean...

keep 持續 article 文章 more 更多 liter 公升 half 一半 often 經常 this way 如此一來


- () 1. What does Sam mean when he says, "Don't push yourself so hard"?
 - (A) He knows Lucas is thirsty today.
 - (B) He wants Lucas to be young again.
 - (C) He wants Lucas to drink two liters of water.
 - (D) He doesn't want Lucas to drink that much water.
- () 2. Which is true?
 - (A) Lucas is old.
 - (B) Sam is a young man.
 - (C) Lucas does sports and drinks a lot of water every day.
 - (D) Lucas and Sam should(應該) drink two liters of water every day.

請接續下一張考卷作答

B.

Rufus is a cook. This is his recipe of seafood fried noodles. Let's take a look.

What you need:

○ Olive oil	○ 2 red peppers	○ Salt	
○ 300 grams of tomatoes	○ 300 grams of dried noodles	○ 400 grams of seafood	
○ Water			

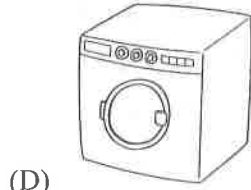
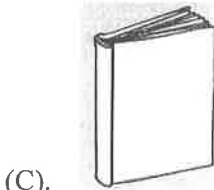

What you do:

- Heat up the water in a pot.
- Cook the noodles in the pot and then put them in a bowl of cold water.
- Take out a pan and put some olive oil in it.
- Heat up the oil and fry the red peppers until they are brown.
- Add the tomatoes and cook for two more minutes.
- Put the noodles and the seafood together in the pan.
- Cook all of the ingredients for three minutes.

Now, a plate of yummy seafood noodles is ready!

olive oil 橄欖油 red pepper 紅椒 gram 公克 pot 鍋子 fry 炒 ingredients 原料

- () 3. Rufus forgot(忘記) to tell the readers when to put one of the ingredients in the dish. What is it?
(A) salt (B) olive oil (C) tomatoes (D) red peppers
- () 4. Gina wants to cook this dish. Besides(除了) the ingredients and the cookers, what else(其他的) may she need?



- () 5. Which is true?
(A) Put the noodles in cold water after we cook them.
(B) There are six steps to make a plate of the fried noodles.
(C) We should put all of the ingredients in the pot together first.
(D) The seafood and the noodles are the second thing we put in the pan.

背面尚有試題

六、依提示回答問題（第1~4題，每題2分、第5~8題，每題3分；共20分）

1. Ariel's birthday is on March twentieth. （依畫線部分造原問句）

2. The box of chocolate is NT\$220. （依畫線部分造原問句）

3. My sister has three bottles of milk. （依畫線部分造原問句）

4. What does your brother want? （請以兩碗飯和三顆蛋回答）

5. Jack: 這是誰的奶油？

Rosa: 那是Jessica的。她每天都用它做美味的派。

6. 請努力讀英文直到晚飯準備好。

7. 今天是九月二十八日。Serene仍然在她的房間裡讀書嗎？

8. 首先，你需要扮演一個跑者的角色。

澎湖縣文光國民中學111學年度第二學期第二次段考 七年級英語科 答案卷

一、聽力測驗：。(第1~4題每題1分；第5~8題每題2分，共12分)

1.	2.	3.	4.	5.	6.	7.	8.
----	----	----	----	----	----	----	----

二、文意字彙 (每題 2 分，共 20 分)

1.	2.	3.	4.	5.
6.	7.	8.	9.	10.

三、文法與對話選擇 (每題 2 分，共 30 分)

1.	2.	3.	4.	5.
6.	7.	8.	9.	10.
11.	12.	13.	14.	15.

四、克漏字測驗 (每題 2 分，共 8 分)

1.	2.	3.	4.
----	----	----	----

五、閱讀測驗 (每題 2 分，共 10 分)

1.	2.	3.	4.	5.
----	----	----	----	----

六、依提示回答問題 (第1~4題，每題 2 分、第5~8題，每題 3 分；共20分)

1.	
2.	
3.	
4.	
5.	
6.	
7.	
8.	

澎湖縣立文光國民中學 111 學年度第 2 學期 7 年級數學科第 2 次段考試卷

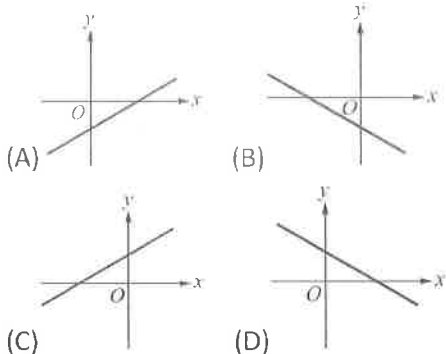
班級： _____ 姓名： _____ 座號： _____ 讀卡 V 答案卷

一、單選題(每題 4 分，共 36 分)

- () 1. 已知 $A(-6, 5)$ ，且 $A、B$ 兩點對稱於 x 軸，則 B 點坐標為何？
 (A) $(6, -5)$ (B) $(-6, -5)$ (C) $(5, -6)$
 (D) $(-5, 6)$

- () 2. 坐標平面上，如果將 P 點向上移動 2 個單位，再向左移動 3 個單位，就到達原點，則 P 點坐標為下列何者？
 (A) $(2, -3)$ (B) $(-3, 2)$ (C) $(-2, 3)$
 (D) $(3, -2)$

- () 3. 直線 $y = -2x + b$ ($b > 0$) 的圖形可能是下列何者？



- () 4. 下列甲和乙兩數的關係中，哪一個選項與其他三個選項不同？
 (A) 甲的 5 倍等於乙的 4 倍
 (B) 甲：乙 = 5：4 (C) 甲是乙的 1.25 倍
 (D) 甲：乙的比值是 $\frac{5}{4}$

- () 5. 下列哪一個比與 4：7 相等？
 (A) $(4-2) : (7-2)$ (B) $(2 \div 4) : (2 \div 7)$
 (C) $(4+2) : (7+2)$ (D) $(4 \times \frac{3}{5}) : (7 \times \frac{3}{5})$

- () 6. 已知甲：乙 = 6：8，則下列敘述哪一個是錯誤的？
 (A) 若甲 = 6，則乙 = 8
 (B) $(甲+1) : (乙+1) = 7 : 9$
 (C) $(甲 \div 2) : (乙 \div 2) = 3 : 4$ (D) 甲 \times 乙 $\neq 0$

- () 7. 父、子兩人距今五年前的年齡比為 7：2，現在年齡之比值為 $\frac{a}{b}$ ，則下列何者正確？
 (A) $\frac{a}{b} < \frac{7}{2}$ (B) $\frac{a}{b} > \frac{7}{2}$ (C) $\frac{a}{b} = \frac{7}{2}$
 (D) 不能確定

- () 8. 下列各組的兩個數量 $x、y$ ，哪一組不成反比？

- (A) $x、y$ 是不為 0 的數，滿足 $x : 2 = 5 : y$
 (B) 以每分鐘印 x 張的速度列印 100 張考卷，共花了 y 分鐘
 (C) 班級人數為 36 人，每天出席的人數 x 與缺席的人數 y
 (D) 長為 x 公分、寬為 y 公分，且面積為 40 平方公分的長方形

- () 9. 若 x 與 y 成反比， z 與 y 成正比， w 與 z 成反比，則下列何者正確？

- (A) x 與 w 成反比 (B) $\frac{1}{y}$ 與 $\frac{1}{w}$ 成正比
 (C) $\frac{1}{w}$ 與 $\frac{1}{z}$ 成反比 (D) x 與 z 成正比

二、填充題(共 40 分)

1. 坐標平面上有 $A(a+8, 4-3b)$ 、 $B(9+b, 2a)$ 兩點。若 A 點向右移動 5 單位，再向下移動 13 單位，恰好與 B 點重合，則：
 (1) $a = \underline{\hspace{2cm}}$ 。
 (2) B 點的坐標為 $\underline{\hspace{2cm}}$ 。

2. 依附表填出各點所處的象限或坐標軸。(各 1 分)

點坐標	$A(135, 246)$	$B(-32, 5)$
象限或坐標軸		
點坐標	$C(-10, 0)$	$D(0, 17\frac{1}{5})$
象限或坐標軸		

3. 若 $a > 0$ ，且 $a + b < 0$ ，則 (各 2 分)
 (1) (a, b) 在第 $\underline{\hspace{2cm}}$ 象限。
 (2) $(-a, -b)$ 在第 $\underline{\hspace{2cm}}$ 象限。
4. 通過 $(-4, 3)$ ，且 (各 2 分)
 (1) 垂直 x 軸的直線方程式為 $\underline{\hspace{2cm}}$ 。
 (2) 垂直 y 軸的直線方程式為 $\underline{\hspace{2cm}}$ 。
5. 已知 $(x+2) : (y+4) = 2 : 1$ ，則 (各 2 分)
 (1) 當 $x=4$ 時， $y = \underline{\hspace{2cm}}$ 。
 (2) 當 $y=3$ 時， $x = \underline{\hspace{2cm}}$ 。
6. (1) 時鐘上時、分針各走一圈所需的時間比值是 $\underline{\hspace{2cm}}$ 。
 (2) 時鐘上時、秒針各走一圈所需的時間比值是 $\underline{\hspace{2cm}}$ 。(各 2 分)

7. 甲種酸梅湯用 5 杯酸梅原汁和 7 杯水調成，乙種酸梅湯用 4 杯酸梅原汁和 6 杯水調成，則：

(1) _____種酸梅湯比較酸。(各 2 分)

(2) 甲種酸梅湯再添加 7 杯酸梅原汁和 _____杯水之後，才會和乙種酸梅湯一樣酸。

8. 已知 y 與 x 成反比，且當 $x=12$ 時， $y=15$ ，則：

(1) y 與 x 的關係式為 _____。(各 2 分)

(2) 當 $x=18$ 時， $y=_____$ 。

9. 若 y 與 x 成正比，且當 $x=-\frac{9}{4}$ 時， $y=\frac{3}{8}$ ，則：

(1) x 、 y 的關係式為 _____。

(2) 當 x 值愈大時， y 值也一定愈大嗎？

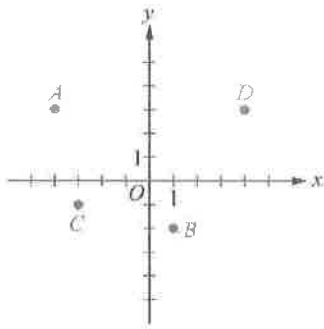
答：_____。(各 2 分)

10. (1) $x:2=5:10$ ，則 $x=_____$ 。

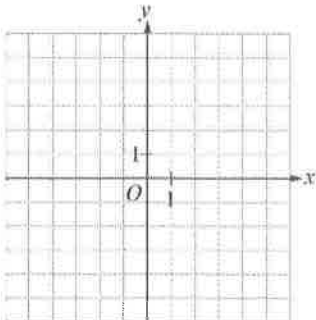
(2) $(-6):1=x:(-2)$ ，則 $x=_____$ 。(各 2 分)

三、計算題(每題 4 分，共 24 分)

1. 如附圖的坐標平面，寫出 A 、 B 、 C 、 D 各點的坐標。(各 2 分)



2. 在坐標平面上圖示直線 $L: 4x-2y=4$ 與直線 $M: x+3y+6=0$ 。(各 2 分)



3. 為了防範流感，小玉想要製作簡易的乾洗手以供家人消毒用，且每 100 毫公升的乾洗手含藥用酒精 75 毫公升，試計算下列各題：(各 2 分)

(1) 乾洗手液中的酒精與水的比例為何？

(2) 若她現在想要製作 2 公升的乾洗手，試問她需要多少毫公升的藥用酒精？

4. 最近日幣下跌，品箴欲赴日旅遊，想去銀行兌換日幣，A 銀行匯率臺幣：日幣 = 0.232 : 1，B 銀行匯率臺幣：日幣 = 0.226 : 1，試問品箴準備一萬元新臺幣兌換日幣，請問(各 2 分)

(1) 哪家銀行比較划算？(無計算過程不予計分)

(2) 一萬元新台幣可兌換 A 銀行多少日幣？(四捨五入至個位數)

5. 求坐標平面上通過 $(3,7)$ 與 $(-3,-5)$ 的直線方程式。(4 分)

試題結束

澎湖縣立文光國中111學年度第二學期第二次段考自然科試題

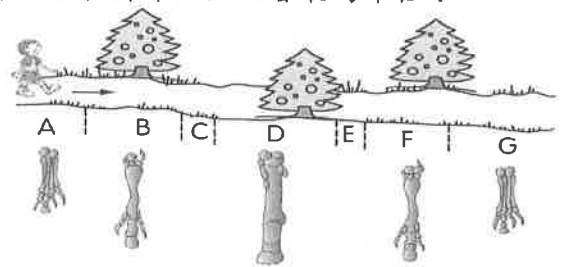
【答案需填入答案卡中】

■讀卡

7年 ___ 班 座號：___ 姓名：_____

一、選擇：每題2分

- () 下列有關地球生物演化方向的敘述，何者不正確？ (A)構造由簡單演化為複雜 (B)由單細胞生物演化為多細胞生物 (C)由水生生物演化出陸生生物 (D)由多數物種演化到少數物種。
- () 下列關於化石的敘述，何者不正確？ (A)可由生物遺體經長時間地質作用而形成 (B)恐龍腳印不屬於化石 (C)可用來認識古生物的形態 (D)可用來推測地球環境的變化。
- () 從一塊骨骼化石，往往可以重建該動物的模型，例如：以大腿骨上端的形態可推論其是否直立或可支持的生物體重；而從完整的動物骨骼化石中，可以推論的不包括下列哪一項？ (A)大致外貌 (B)生活環境 (C)攝食習性 (D)皮膚的膚色。
- () 大雄在極區的永凍層中發現長毛象的遺骸，由此可以推論出什麼事情？ (A)長毛象生活在冰天雪地的地方 (B)長毛象應生活在熱帶，被帶至極區後，因不適應而死亡 (C)冰層不易保存化石 (D)此長毛象因不是在土壤中掩埋的，所以不算化石。
- () 馬為了適應草原生活所產生的構造變化中，下列何者無法由化石得知？ (A)體型越來越大 (B)前肢腳趾數由四趾變為單趾 (C)牙齒咀嚼面越來越大 (D)小腸越來越長。
- () 附圖為美國某地區的馬前肢化石及地層圖，由圖可知下列哪一個地層最為年輕？



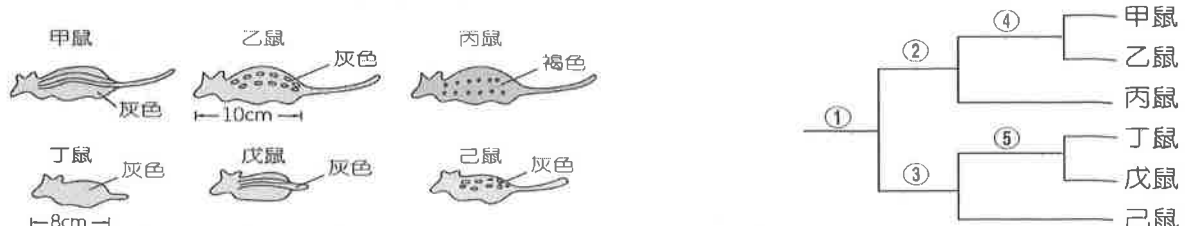
- (A)D地層 (B)E地層 (C)F地層 (D)G地層。
- () 下列有關 AIDS 病毒的敘述，何者錯誤？ (A)是介於生物與非生物之間的物體 (B)在活生物體外仍可表現生命現象 (C)多數科學家認為其不屬於五界中任何一界 (D)其組成主要是外殼的蛋白質和內部的遺傳物質。
 - () 「騾」是由馬和驢以人工受精的方式產生，不具生殖能力。有關以上三種生物的敘述，何者正確？ (A)馬和驢同種，但與騾不同種 (B)馬、騾和驢三者為同種生物 (C)馬和驢不同種 (D)馬和騾同種，但和驢不同種。
 - () 阿康將圖鑑上幾種生物的學名記錄於表中，則下列敘述何者正確？ (A)甲、乙、丙是同種生物 (B)甲、乙、丙的構造特徵最相似 (C)乙、丁的親緣關係最接近 (D)表中的生物共2個屬。

甲	<i>Latiaxis japonicus</i>
乙	<i>Penaeus japonicus</i>
丙	<i>Squalus japonicus</i>
丁	<i>Penaeus monodon</i>

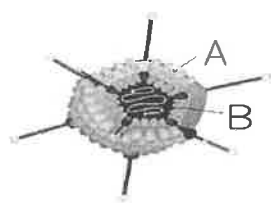
- () 松樹的學名為 *Pinus luchuensis*，下列何者敘述正確？ (A)第一個字是屬名，第二個字為種小名 (B)第一個字是形容詞，第二個字為名詞 (C)松樹是臺灣的學名，*Pinus luchuensis* 是國際公認的學名 (D)*Pinus luchuensis* 是英文。
- () 「黃種人、黑種人、白種人和紅種人的學名都是 *Homo sapiens*」，上述這句話是否正確？ (A)不正確，因上述人種細胞內的基因不同 (B)正確，因上述人種可以婚配產下有生殖能力的後代 (C)不正確，因上述人種的膚色不同 (D)正確，因上述基因組合完全相同。

【背面尚有試題】

12. () 科學家將附圖六種野鼠建立一個檢索表，分類如下，試依表選出正確的敘述為何？
 (A)表中①是根據耳朵的長度分類 (B)表中②是根據體毛顏色分類 (C)表中③是根據身體長度分類 (D)表中⑤是根據尾巴長短分類。



13. () 附圖為病毒模式圖，以下敘述哪些是正確的？甲. A 是指病毒的細胞膜；乙. A 的成分是蛋白質；丙. B 是指病毒的細胞核；丁. B 內含有遺傳物質。
 (A)甲乙丙丁 (B)甲丙丁 (C)甲丙 (D)乙丁。



【13題】

	綠藻	藍綠菌
(A)細胞核	×	○
(B)細胞膜	○	○
(C)遺傳物質	○	×
(D)葉綠體	×	○

【19題】

14. () 若將以下六種生物分成甲乙己與丙丁戊兩組，則分類的標準為何？甲. 紫菜；乙. 石花菜；丙. 矽藻；丁. 新月藻；戊. 單胞藻；己. 昆布。
 (A)細胞壁的有無 (B)葉綠素的有無 (C)能否行光合作用 (D)細胞數目的多少。
15. () 下列哪些不是真核生物？甲. 桿菌；乙. 藍綠菌；丙. 黏菌；丁. 草履蟲；戊. 單胞藻。
 (A)甲乙丙 (B)丁戊 (C)甲乙 (D)乙丙。
16. () 地球上最早、最原始的生物應屬於哪一界？
 (A)植物界 (B)真菌界 (C)原生生物界 (D)原核生物界。
17. () 下列哪些疾病是由細菌所引起的？甲. 愛滋病；乙. 肺結核；丙. SARS；丁. 霍亂。
 (A)甲乙 (B)乙丙 (C)丙丁 (D)乙丁。
18. () 關於細菌的敘述，下列何者錯誤？
 (A)能分解生物遺體及排泄物 (B)能協助草食性動物消化纖維素 (C)不存在於人體內 (D)能協助部分植物吸收養分。
19. () 上右表為藍綠菌與綠藻的比較，則下列選項中何者正確？
 (○表示有此構造；×表示無此構造)
20. () 下列有關真菌界生物的敘述，何者不正確？
 (A)無法自行製造葡萄糖 (B)大多為多細胞個體，由絲狀的菌絲構成 (C)有可能含有劇毒 (D)缺乏細胞壁和葉綠體。
21. () 有關藍綠菌與黴菌的敘述，下列何者錯誤？
 (A)藍綠菌無法行光合作用產生葡萄糖，黴菌則可以 (B)藍綠菌無菌絲，黴菌有菌絲 (C)藍綠菌為原核生物，黴菌為真核生物 (D)藍綠菌為單細胞生物，黴菌為多細胞生物。
22. () 下列哪一項非真菌界生物的共同特徵？
 (A)均為多細胞生物 (B)具有細胞壁 (C)需由外界攝取養分 (D)可行無性生殖。
23. () 下列關於菇類的敘述，何者正確？
 (A)是指大型的真菌 (B)所有有毒的菇類均是顏色鮮豔 (C)具有行光合作用的能力 (D)與蕈類分屬不同界的生物。
24. () 下表中關於單胞藻與酵母菌的比較，哪些是正確的？
 (A)甲乙丙 (B)甲丙戊 (C)丁戊 (D)乙丙丁。


		單胞藻	酵母菌
甲	細胞壁	有	有
乙	葉綠素	有	有
丙	維管束	無	無
丁	菌絲	無	有
戊	細胞數	單細胞	單細胞

【背面尚有試題】


25. () 香港腳是由真菌感染所致的皮膚病，試問該病原具有下列何種特性？ (A)可行光合作用 (B)屬於原核生物 (C)具有細胞壁 (D)藉種子繁殖。
26. () 若將生物分為五界，則有關生物種類與特徵的敘述，下列何者正確？ (A)細菌沒有遺傳物質，屬於原核生物界 (B)眼蟲沒細胞壁、能運動，屬於原生生物界 (C)黏菌有細胞壁沒有葉綠體，屬於真菌界 (D)蘚苔植物具有根、莖、葉，屬於植物界。
27. () 下列敘述哪些為腎蕨和土馬騮的共同點？甲. 靠風力傳播種子；乙. 具有根、莖、葉的構造；丙. 不會開花；丁. 行光合作用。 (A)甲乙丙丁 (B)乙丙丁 (C)丙丁 (D)丁。
28. () 下列關於裸子植物的敘述何者正確？ (A)蘇鐵會開花 (B)松子是松樹的果實 (C)雲杉的雌球果內有胚珠，成熟後會隨風落在花粉粒上，受精發育成種子 (D)柏樹的球果有雌雄之分，雌球果較大。
29. () 下列有關單子葉植物與雙子葉植物的比較，何者正確？

比較項目	單子葉植物	雙子葉植物
(A)子葉數目	2 枚	1 枚
(B)莖內維管束排列方式	散生	環狀排列
(C)葉脈	網狀脈	平行脈
(D)花瓣數	四或五的倍數	三的倍數

30. () 有關植物的分類，下列何者敘述正確？ (A)地錢沒有維管束，屬於蘚苔植物 (B)紅檜以球果協助生殖，屬於被子植物 (C)百合的根為鬚根系，屬於雙子葉植物 (D)榕樹不開花，屬於裸子植物。
31. () 將四種生物分類如附圖，則下列何者為其分類依據？ (A)葉綠體的有無 (B)維管束的有無 (C)種子的有無 (D)花的有無。



32. () 種子植物之所以能稱霸植物界的主要原因為何？ (A)具有維管束能有效率的運送氧氣及養分 (B)葉片表面特化出角質層，能防止水分的過度散失 (C)以種子繁殖，且種子能長期保存 (D)具有根、莖、葉的構造。
33. () 附圖為梅花，依此判斷它還應具有下列何種特徵？



【33 題】



【35 題】

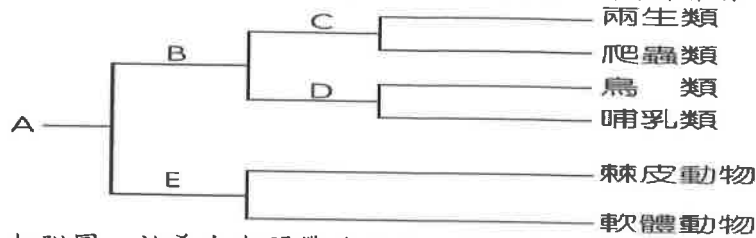
- (A)具有平行的葉脈 (B)種子只具有一枚子葉 (C)種子沒有果實保護 (D)維管束在莖中呈環狀排列。
34. () 筆筒樹和松樹有何共同特徵？(A)會開花 (B)有維管束 (C)能結果實 (D)用種子繁殖。
35. () 上右圖為甲、乙兩種植物葉的構造圖，則下列哪一項為此兩種植物共同的特徵？ (A)會開花結果 (B)莖會逐年加粗 (C)不具有維管束 (D)生殖器官為球果。
36. () 臺灣近年在東部沿海盛行觀賞鯨、豚，下列關於海豚的敘述，何者正確？ (A)屬於軟骨魚類 (B)呼吸構造和鯊魚相同 (C)體表有鱗片以防止水分散失 (D)屬於內溫動物。
37. () 下列何種特徵並非與鳥類適應飛行有關？ (A)具有角質化且形狀多變的喙 (B)骨骼中空，堅硬但質輕 (C)眼睛具有透明瞬膜 (D)肺延伸出許多氣囊。
38. () 根據動物的分類依據，蝙蝠和下列哪一種動物的親緣關係最為接近？ (A)老鷹 (B)飛魚 (C)翼手龍 (D)兔子。
39. () 小雯在溪中撈到了一隻動物，如附圖，則此種動物和下列何者的親緣關係最接近？



- (A)水母 (B)渦蟲 (C)水蛭 (D)螃蟹。

【背面尚有試題】

40. () 如附表，阿康將動物園裡的動物做了一張簡單的分類檢索表，則B條件應為何？(A)是否具有鱗片與骨板 (B)內骨骼或外骨骼 (C)脊椎骨的有無 (D)體溫是否為恆定。



41. () 如附圖，祐希在潮間帶發現了一種生物，解說員告訴他這是海星，則下列關於海星的敘述何者錯誤？

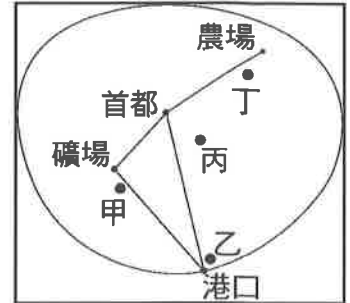


- (A)海星屬於棘皮動物門 (B)表面有棘 (C)可行斷裂生殖 (D)與水母屬於同一個門。
42. () 魴魚和吳郭魚最大的差別在於下列哪一項？(A)用肺或用鰓呼吸 (B)有無脊椎骨 (C)軟骨或硬骨 (D)水生或陸生。
43. () 植物與水土保持的關係，下列敘述何者錯誤？
(A)植物的根可抓住土壤 (B)植物的葉片可阻擋雨水直接沖刷土壤 (C)每一種植物對水土保持的作用都是相同的 (D)植物覆蓋越密集，水土保持的效果越好。
44. () 下列何項行為較能減少山崩和土石流的發生機率？
(A)集水區水質好，適合種植高經濟價值的農作物 (B)開發道路，使交通更方便 (C)開發森林成為遊樂區 (D)維持原生的森林生態。
45. () 關於植物對環境溫度的調節，下列敘述何者錯誤？(A)植物的蒸散作用可帶走環境中的熱 (B)人站在樹蔭下，感覺較涼快 (C)植物的根吸收了土壤中的水分，使地表更熱 (D)樹葉可遮陽，使地表降溫。
46. () 下列敘述何者不符合「綠建築」的概念？
(A)可在建築物的牆面或屋頂種植植物 (B)增加冷、暖空調的使用 (C)垂藤植物可遮陽 (D)可降低室內溫度。
47. () 都市因大量水泥覆蓋，常出現熱島效應，使居住變不易，為因應這種現象，我們可多種植植物協助環境降溫，請問下列何者可能是植物能降低溫度的原理？
☐熱島效應：城市有密集的建築物與大量人工熱源，加上綠地面積較少，造成城市地區的氣溫比周遭地區還要高的現象。
(A)濃密的樹蔭可減少陽光直射降低溫度 (B)植物的光合作用可吸收太陽能降低溫度 (C)綠色的葉片可反射大部分的陽光降低溫度 (D)植物的根可協助吸收土壤中的熱降低溫度。
48. () 沒有脊椎骨的動物中，哪一個動物門的物種種類最多？哪一個動物門中有成員可行出芽生殖？
甲.刺絲胞動物門、乙.扁形動物門、丙.節肢動物門、丁.棘皮動物門
(A)丙；甲 (B)乙；丙 (C)丙；乙 (D)丁；丙。
49. () 小雯和其他同學正在討論「植物對空氣品質的影響」，請問誰的觀點是正確的？(A)小雯：植物行呼吸作用，可降低大氣中二氧化碳的濃度 (B)沛沛：有些植物的葉片可以沾附懸浮微粒，降低大氣中懸浮微粒的濃度 (C)阿康：只要在室內擺放一盆盆栽，就可以有效改善空氣品質 (D)小軒：任何植物都能夠有效的分解甲醛。
50. () 大氣中的二氧化碳濃度越高，全球暖化的現象就會越嚴重，我們可以做哪些事來減緩全球暖化呢？甲.減少原始森林的砍伐；乙.控管工廠排出的廢氣量；丙.多使用私人交通工具如機車、汽車；丁.多種樹，增加城市的綠覆率。
(A)甲乙丙丁 (B)甲丙丁 (C)甲乙丁 (D)甲丁。

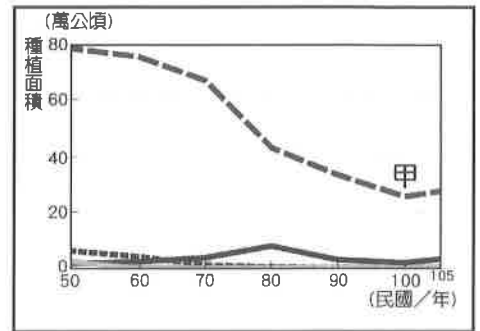
【試題結束—文光國中7年級、自然科】

一、單選題(1-18 題每題 2 分，共 36 分)

- () 臺灣的糖廠主要設於西南部平原上，所考慮的工業發展因素為何？ (A)交通 (B)原料 (C)政策 (D)勞力。
- () 臺灣傳統農業的生產以自給自足為主，而下列哪一些為臺灣現代農業的特徵？ (甲)技術先進 (乙)粗放農業 (丙)農業商品化 (丁)耕地廣大 (A)甲丙 (B)甲丁 (C)乙丙 (D)乙丁。
- () 「冬季到臺灣海峽捕烏魚，是傳統臺灣漁民的主要活動之一，可帶來可觀的收入。」上文所述的漁業型態，屬於何種漁業類型？ (A)遠洋漁業 (B)近海漁業 (C)養殖漁業 (D)沿岸漁業。
- () 右圖為一理想國。該國都市、大港的人口密度很高，其他地區的人口分布都很均勻。若該國想設立「加工出口區」，以促進經濟發展，最理想的設置地點應在何處？ (A)甲 (B)乙 (C)丙 (D)丁。



- () 右下圖是臺灣稻米、小麥、玉米、黃豆等四種作物的種植面積變化圖。其中「甲」最可能是何種作物？ (A)小麥 (B)玉米 (C)黃豆 (D)稻米。



- () 雲林縣之所以能成為臺灣西部各大都市的蔬菜供應地，其原因之一在於中山高速公路通車，使南北往來相當方便且能迅速送達，以提供消費者選購。請問：此現象與下列哪一特徵最吻合？ (A)農業結合科技發展 (B)農業生產受消費市場影響 (C)年輕勞力容易外流至都市 (D)臺灣氣候溫暖多雨，適合農業發展。
- () 下列哪一個工廠區位的選擇，最能說明「交通」對其影響最大？ (A)臺北的麵包工廠 (B)新竹的科學園區 (C)高雄的煉鋼廠 (D)嘉南平原的糖廠。

- () 右表是某地區對甲、乙、丙、丁四國的貿易資料。請問：該年該地區對哪個國家的貿易總額最大？ (A)甲 (B)乙 (C)丙 (D)丁。

貿易額 地區	進口總額 (億美元)	出口總額 (億美元)
甲	285	141
乙	103	278
丙	82	66
丁	34	58

- () 臺灣鄉村的年輕人大多前往生活機能較好的都市謀生，此一事實反映出臺灣農業發展的何種特色？ (A)農業技術先進 (B)農業集約耕作 (C)新品種培育 (D)農村勞力老化。
- () 「淡水漁人碼頭」是新北市一個多功能的休閒漁港，也是臺灣推動觀光漁業的一大典範。請問：政府近年來積極推動觀光與休閒漁業，主要是受到哪些因素的影響？ (甲)漁獲量逐年下降 (乙)臺灣漁工勞力不足 (丙)養殖漁業比例過高 (丁)大陸棚寬廣 (戊)海洋資源過度開發 (A)甲乙丁 (B)甲乙戊 (C)乙丙戊 (D)乙丁戊。

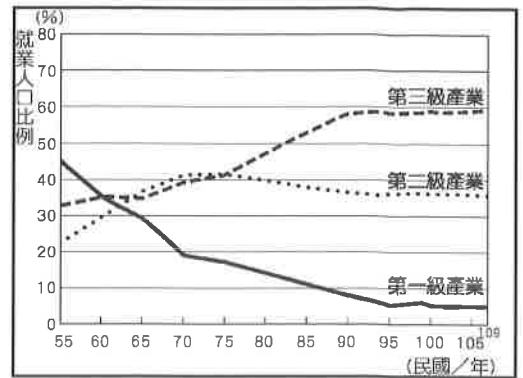
- () 農作物的分布和地理條件關係密切。右圖最有可能是臺灣何種農作物的分布圖？ (A)棉花 (B)茶葉 (C)稻米 (D)甘蔗。

- () 「臺灣向美國採購 66 架 F-16V 軍機案」受到美方極大的關注，這項交易除了可以增加臺灣的國防力量外，也有助於平衡雙方貿易，顯示臺灣對美國的國際貿易呈現下列哪一項特徵？ (A)進口消費品 (B)出口農產品 (C)貿易出超 (D)貿易入超。



13. () 臺灣傳統農業社會中，經常會出現和農業活動有關的諺語。下列哪一句諺語和農業活動的「集約」最相關？ (A) 穀雨寒死虎母 (B) 春分落雨落到清明 (C) 農無閒年，地無閒田 (D) 西北雨，落不過田岸。

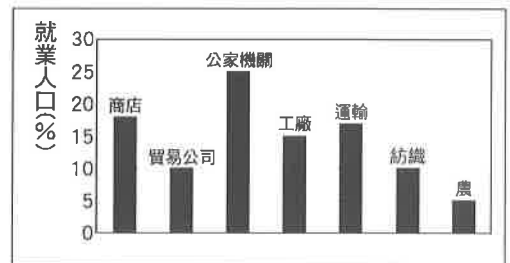
14. () 由右圖可看出臺灣三級產業的變化趨勢。根據此圖判斷，下列有關臺灣產業變化的敘述，何者正確？ (A) 各級產業結構所占比例均衡 (B) 產業結構無明顯變化 (C) 目前的工商業高度發展 (D) 農業成長最快速。



15. () 臺灣加入 WTO 後，由於國內的農業生產成本高於進口國，導致許多農產品面臨衝擊，但政府仍以各種方式維持國內農產品產量，或限制國外農產品的進口比例，近年來更大力將臺灣的農產品外銷出去，以維持臺灣農業的競爭力。請問：下列何者無法達到上述目的？ (A) 發展精緻農業 (B) 定期舉辦農夫市集 (C) 開放農地自由買賣 (D) 推動農業品牌化。

16. () 「政府推動小地主大佃農(大專業農)政策，輔導無力或無意耕作之地主，將自有土地長期出租給有意願擴大農場經營規模之農業經營者(佃農)。截至民國 109 年底，大專業農平均經營規模 6.6 公頃，較一般農戶平均農地面積 1.02 公頃約大 6.6 倍；大佃農平均年齡 46 歲，而一般農業經營主則平均 64 歲，年輕化成果顯著。」請問：文中小地主大佃農政策主要針對下列哪兩項臺灣農業發展特色而設計？ (甲) 耕地狹小 (乙) 集約耕作 (丙) 勞力老化 (丁) 技術先進 (A) 甲丙 (B) 甲丁 (C) 乙丙 (D) 乙丁。

17. () 右圖是快樂市的就業人口比例圖。依圖判斷，快樂市的產業發展具有下列哪一種特色？ (A) 多屬直接利用或培育自然資源的產業 (B) 從事第二級產業的人口比例最高 (C) 從事第三級產業的人口數最多 (D) 第二、三級產業就業人口合計占 85%。



18. () 臺灣畜產業因為加入 WTO 及疫病的問題，常威脅到畜牧業未來的發展，因此臺灣畜牧業力求轉型。以下是四則網站的介紹，請問何者最能說明畜牧業轉型為休閒觀光的例子？ (A) 網站一 (B) 網站二 (C) 網站三 (D) 網站四。

網站一 海洋牧場觀光遊玩體驗，讓你進入箱網養殖現場一探究竟。

網站二 智慧綠能環保豬舍，將豬糞沼氣轉換為能源再利用。

網站三 里山牧場推出美味涮涮鍋，餐廳位於捷運站 2 號出口旁。

網站四 牛牛牧場一日酪農體驗，可親手擠奶並參觀全自動化的過程。

【第 2 頁結束 後面尚有試題】

一、單選題(19-36 題每題 2 分，共 36 分)

19. () 自西元 1915 年總督府倡導移風易俗後，歐美或日本樣式的服裝和鞋帽便在臺灣風靡起來。造成上述衣飾風潮改變的原因為何？ (A) 總督府禁止原住民紋面 (B) 總督府禁止原住民室內葬 (C) 這時臺灣開始實施皇民化運動 (D) 總督府推行「放足斷髮」收到成效。
20. () 喬斌正在觀賞一齣舞臺劇，旁白開場時念到「民國 36 年，一聲槍響，引發一場震撼全臺的事件，使民眾將對政府官員的不滿和失望、快要買不起米糧的怨氣，一次性的爆發開來。政府調派軍隊實施清鄉，有許多臺籍精英在這場事件中失去性命……」請問：喬斌觀賞的舞臺劇與哪一事件有關？ (A) 武裝抗日 (B) 霧社事件 (C) 西來庵事件 (D) 二二八事件。
21. () 臺灣的政治活動一直到蔣經國上臺後才逐漸開放，下列哪一項不是蔣經國任內的措施或發生事件？ (A) 終止動員戡亂 (B) 解除戒嚴 (C) 開放黨禁、報禁 (D) 美麗島事件。
22. () 臺灣政治由專制體制朝民主自由的發展過程中，曾在戒嚴時期發生下列哪些政治事件？(甲) 二二八事件 (乙) 雷震事件 (丙) 美麗島事件 (丁) 成立民主進步黨 (A) 甲乙丙 (B) 甲乙丁 (C) 甲丙丁 (D) 乙丙丁。
23. () 堂堂是生活在日治初期的臺灣兒童，住在他家附近的一郎是年紀與他相仿的日本人，關於兩人的求學過程，下列何者正確？ (A) 堂堂就讀小學校 (B) 一郎就讀公學校 (C) 就讀學校的設備、教材完全相同沒有差異 (D) 一郎將來升學可就讀專收日人的中學校。
24. () 臺灣某一時期出現以下的流行語：盟軍轟炸「驚天動地」，臺灣光復「歡天喜地」，官吏貪瀆「花天酒地」，政治混亂「黑天暗地」，物價飛漲「呼天搶地」，其時代背景為何？ (A) 日治初期 (B) 日治末期 (C) 光復初期 (D) 解嚴之後。
25. () 西元 1932 年座落在臺北市榮町(今衡陽路附近)的「菊元百貨店」，是臺灣第一個現代化櫥窗，也是臺灣第一座最高的商業大樓，被稱為「七重天」。請問：下列何者可能是臺灣當時的社會風貌？ (A) 武裝抗日的情況日益嚴重 (B) 纏足、辮髮風氣仍為主流文化 (C) 郊遊、喝咖啡的休閒活動蔚為流行 (D) 臺灣改制為行省設置巡撫。
26. () 「民國 68 年 12 月 10 日晚上，遊行隊伍被鎮暴警察包圍，警察開始噴射催淚瓦斯，令現場失去控制，爆發嚴重衝突。事件發生後，軍警情治人員展開全島同步的大逮捕行動，陸續追捕黨外人士。」下列對此事件的描述，何者正確？ (A) 加速黨外勢力結合，促成隔年民主進步黨的成立 (B) 黨外人士透過此遊行活動表達追求民主政治的訴求 (C) 多人遭到逮捕，顯示臺灣社會普遍無法接受遊行活動 (D) 導因於黨外人士企圖組織中國民主黨，卻遭到政府壓制。
27. () 由於全國進入備戰狀態，政府在民國 37 年制定《動員戡亂時期臨時條款》。請問：這是為了因應哪一場戰爭？ (A) 第一次世界大戰 (B) 第二次世界大戰 (C) 國共內戰 (D) 甲午戰爭。
28. () 總督府在臺灣推動一系列「現代化」的建設，呈現了西方都會生活空間的「公共性」特質，於是多元、摩登的生活文明及風貌，在臺灣社會愈來愈普遍。關於以上所說的社會現象，下列哪個地景建設無法作為代表？ (A) 博物館 (B) 西式公園 (C) 神社 (D) 下水道。
29. () 「這所大學於西元 1928 年創校，是日治時期臺灣唯一的高等學府。該校當時已是擁有文政、理學、農學、醫學、工學五個學部(學院)和預科，以及熱帶醫學、南方人文、南方資源研究所的綜合大學。」請問：上述的大學成立的最主要目的？ (A) 滿足在台日人就學需求 (B) 提供經濟較佳之台人直接申請入學 (C) 推廣六年義務教育 (D) 協助台人發起「台灣議會設置請願運動」。

30. () 臺灣某段時間，政府常以肅檢「匪諜」、「叛亂者」為名逮捕異議分子，使冤案、錯案、假案頻傳。請問：上述是臺灣哪個時期的狀況？ (A)台灣民眾黨籌組時期 (B)白色恐怖期間 (C)成立台灣地方自治聯盟時期 (D)宣布解嚴後。
31. () 政黨輪替可以提高政黨競爭及增加執政者的監督壓力。一個國家若能和平的政黨輪替，便能更加確實的落實民主。請問：臺灣的民主歷程在何時才達成這個目標？ (A)民國四十年代 (B)民國五十年代 (C)民國七十年代 (D)民國八十年代。
32. () 下圖為一則新聞報導，有關此篇報導內容的主要背景，下列敘述何者正確？ (A)政府實施林野調查，禁止原住民在保留地狩獵，引發爭議 (B)保留地改種茶葉和樟腦，造成原始山林的消失，引發見解歧異 (C)原住民族群因遷徙他處，而喪失保留地所有權，損害原住民的權益 (D)開放保留地給地方政府或私人企業開發，衝擊原住民原有的經濟模式。

最高法院民事第四庭審理原住民保留地案件，發現非原住民以借名登記方式購買原住民保留地有無違反規定，存有法律見解歧異，今天提案民事大法庭，成為最高法院民事大法庭首例。

《原住民保留地開發管理辦法》第 18 條規定，「原住民取得原住民保留地所有權後，除政府指定之特定用途外，其移轉之承受人以原住民為限。」《山坡地保育利用條例》第 37 條也規定，「原住民取得原住民保留地所有權，如有移轉，以原住民為限。」

33. () 「依據□條文的規定，政府有權限制人民的一些基本人權，包括集會、結社、言論、出版等權利。在此段時期，政府運用相關法令對政治的異議分子進行逮捕、軍法審判或處決。」請問：上述□應是指何者？ (A)《刑法》 (B)《戒嚴令》 (C)《中華民國憲法》 (D)《動員戡亂時期臨時條款》。
34. () 西元 1929 年，陳先生與一群朋友由基隆上船，到日本接受大學教育。當時像他們這樣離鄉背井，渡洋求學的人還有很多。請問：下列哪項原因造成當時此種風潮？ (A)臺人在臺灣升學不易 (B)日本的物價較為便宜 (C)臺灣沒有高等教育學校 (D)日本倡導學術研究政策。
35. () 臺灣文化協會主要的工作為啟迪民智，以舉辦哪些活動來達成其理想？ (甲)設讀報社 (乙)組織武裝抗爭 (丙)辦夏季學校 (丁)舉行文化演講會 (戊)推廣蕃童教育所
(A)甲乙丁 (B)甲丙丁 (C)乙丙丁 (D)丙丁戊。
36. () 民國 38 年，臺灣省政府因為何事而下令戒嚴，限制人民多項的自由？ (A)因二二八事件的爆發 (B)受到民族自決思潮的影響 (C)防止白色恐怖興起 (D)防止共產黨的滲透。

【第 4 頁結束 後面尚有試題】

一、單選題(37-46 題每題 2 分，47-54 題每題 1 分，共 28 分)

37. () 大眾交通工具上的博愛座的標示，曾帶來到底誰可以坐博愛座的討論。針對其所屬的社會規範，下列敘述何者正確？ (A)違反時會受到公權力的制裁 (B)強調個人與社會大眾的關係 (C)和「舉頭三尺有神明」屬相同類型 (D)與「酒駕開罰」屬相同類型。
38. () 耀文：對許多英國人來說，戴口罩真的會要了他們的命，有人甚至誇張的表示，寧願得病也不要戴口罩。永濬：要不是這次疫情，我們大概永遠不會知道人們對於戴口罩這件事，有如此天差地別的想法。以上對話可以看出文化具有什麼特性？ (A)普遍性 (B)差異性 (C)累積性 (D)制約性。
39. () 新北市政府舉辦「全國原住民樂團族語創作大賽」，鼓勵更多原住民朋友投入音樂創作，以保存原住民族文化資產。新北市政府舉辦上述活動的主要目的為何？ (A)使文化趨於一致 (B)彰顯主流文化 (C)製造文化位階 (D)鼓勵文化傳承。
40. () 美國素有沙拉盤 (Salad Bowl) 之稱，來自世界各國的人都可以來到美國發展，不同國家移民也都能便利的取得所需資訊。上述說明了下列何種概念？ (A)認同本土文化 (B)包容不同文化 (C)統一國內的文化 (D)歧視他國文化。
41. () 它是國家經由一定程序，明確制定人民及政府應該遵守的事項。下列何種行為符合前述社會規範的特性？ (A)遵循古禮，納聘迎娶 (B)敬老扶弱，禮讓老弱婦孺 (C)捐血一袋，救人一命 (D)騎乘機車時，頭戴安全帽。
42. () 臺灣氣候多雨，雨傘是日常生活必備的工具。由於人們愈來愈重視安全及使用上的便利性，於是有人開始設計反光及輕便材質的雨傘。下列相關敘述何者正確？ (A)雨傘屬於次文化 (B)雨傘是人類適應氣候發明的產物 (C)不同雨傘的設計，代表文化的普遍性 (D)製作雨傘的技術，屬於文化的制約性。
43. () 臺灣人在外來文化衝擊下，發揮了創造力和生命力，使本土文化有嶄新的風貌。對於臺灣文化在外來文化影響下產生的變化，下列相關敘述，何者錯誤？ (A)本土文化消失無蹤 (B)隨處可見外來文化 (C)包容尊重其他文化 (D)多元文化並存現象。
44. () 臺灣的民眾習慣用筷子吃飯，印度則用手抓食物，而歐美國家則是習慣用刀叉，各個國家或民族皆有自己的用餐習慣和規矩。面對不同的文化，下列何種觀念最正確？ (A)落後國家的文化發展也較落後 (B)本國文化最為優良，因此我們不須學習其他國家的文化 (C)不同文化皆有其值得欣賞與學習的地方 (D)了解他國的文化，對自身文化的發展沒有任何幫助。
45. () 以下是宇豪追蹤旅行後的報告重點：「澎湖天后宮是臺灣最古老的一座廟，廟史達四百多年，該廟建築融合傳統工藝與建築藝術的菁華，被列為國家一級古蹟。」請問宇豪的報告主題應為下列何者？ (A)文化創新 (B)文化資產 (C)弱勢文化 (D)次文化。
46. () 宗教信仰是人類精神生活的重要部分，下列相關敘述，何者正確？ (A)禮、義、廉、恥的觀念屬於宗教信仰的範圍 (B)宗教信仰屬於社會規範之一 (C)人類因有人定勝天的優越心態而產生宗教信仰 (D)宗教信仰是透過法律來約束信眾的日常生活。
47. () 泰雅族的紋面國寶柯菊蘭過世，原住民族委員會追頒「一等原住民族專業獎章」表揚其對文化傳承的努力與貢獻。根據下文對於紋面的介紹：「紋面是指身上刺青的習俗，多數族群以此來代表已經適婚、能承擔責任。然而在日治時期，由於皇民化運動和不文明價值觀的影響，禁止部落實施紋面，並懲處紋面者。此外，隨審美觀逐漸變成白淨才好看的影響，部分紋面老人認為紋面很醜或很丟臉，用外科手術去除紋刺圖案，紋面的人口因此銳減。」
紋面消逝最可能與何種原因有關？ (A)大眾傳播媒體的宣傳報導 (B)原住民族資源分配不均 (C)不同文化的制約性 (D)文化位階的存在。

48. () 品睿閱讀下文：「法國文化部自西元 1984 年起將每年 9 月第 3 個週末訂為古蹟日，至今古蹟日已成為全球規模最大的文化歷史活動。我國也於西元 2001 年起響應國際古蹟日、呼應歐洲遺產日，於每年 9 月推出全國古蹟日活動。期盼結合地方文史與文化科技的無形與有形文化資產，用創意保留記憶。唯有文化保存做得成功，才能找回文化發展歷程與生活記憶，才能讓城市及國家帶著靈魂往前走。」，下列哪一心得文字最為恰當？
 (A) 國家古蹟日的活動有助於文化的傳承 (B) 國家古蹟日的設立將讓許多文化逐漸消逝
 (C) 活動只著重建築文化的保存 (D) 活動的規畫只傳承舊有文化，並未創新。
49. () 以下是某篇網路新聞的內容：「科技發展能使資訊的傳播與獲取更有效率，但一名電腦駭客就曾假借美國聯邦調查局(FBI)和中央情報局(CIA)名義，寄發暗藏病毒的電子郵件，造成全球電腦病毒大流行，損害公眾利益。」由上述科技發展所產生的利與弊，顯示當前社會應更加注重下列何者的提升？ (A) 文化尊重 (B) 宗教信仰 (C) 風俗習慣 (D) 倫理道德。
50. () 愷駿在精品店看到形形色色的各國藝品，像是俄羅斯娃娃、荷蘭木鞋及風車造型鑰匙圈、法國巴黎鐵塔模型等。美美能看到各個國家具有特色的物品，這顯示了下列何種意義？
 (A) 文化位階 (B) 多元文化 (C) 弱勢文化 (D) 文化傳承。
51. () 西元 1996 年起，武裝組織塔利班在阿富汗建立全國性的政權，採取極端的伊斯蘭教義，禁止許多活動，例如：嚴格限制婦女活動，禁止她們上班及上課。並成立宗教警察負責執行下列各項禁令，違反者會被處以鞭刑。上述做法為阿富汗帶來的影響為何？ (A) 使國家走向團結一致 (B) 出現文化位階，排拒某些文化的現象 (C) 利於傳統文化價值延續發展 (D) 文化交流後促成多元文化。
52. () 以下是建安在網路上看到的一則訊息：「苗栗縣率先全國通過《石虎保育自治條例》。主要規範縣府進行開發面積 1 公頃以上或新闢、拓寬道路長度 1 公里以上，在規畫設計階段須徵詢專家學者意見，採取對環境友善工法，專家學者應經縣府遴聘公告，落實保護石虎及石虎棲地。」請問：《石虎保育自治條例》的推動，是落實了下列何種概念？
 (A) 鼓勵觀光發展 (B) 推動國土開發 (C) 重視環境倫理 (D) 遵守風俗習慣。
53. () 現代社會日趨開放且多元，存在著許多不同的群體，具備與主流社會不同的信仰、規範、價值觀等，而這些群體形成的次文化往往有其特殊之處，青少年次文化便是其中之一。下列何者屬於青少年次文化？ (A) 除夕夜全家圍爐吃年夜飯 (B) 中秋節賞月吃月餅 (C) 與同學在廣場上跳街舞 (D) 參加婚宴時送上紅包禮金。
54. () 霹靂布袋戲從戲偶、音樂、服裝、造型，甚至操偶方式都有非常大的突破。在劇情上，它結合時事及一般年輕人喜好的元素；在表演手法上，它加進電腦特效，也加強了聲光效果。上述突破，展現下列哪一種精神？ (A) 文化傳承 (B) 文化創新 (C) 文化尊重 (D) 多元文化。

【七年級社會科試題 結束】