

澎湖縣立文光國民中學 111 學年度第 2 學期第 3 次成績評量八年級國文科

班級：

姓名：

座號：

讀卡

題目卷

**【答案區】**

一、國字注音：(每格 1 分，共 14 分)

1. 案「ㄉㄨㄢˋ」	2. 「嬪」妃	3. 氣「ㄑㄩˋ」	4. 別「ㄅㄧㄝˋ」
5. 妊「ㄇㄣˊ」	6. 「彳亍」想	7. 「志」恣	8. 「睥」睨
9. 屋「脊」	10. 「揖」讓而升	11. 「沏」茶	12. 「悻」悻然
13. 萬目「𠂔」		14. 「去」花一現	

二、兩者為「義近詞」請畫「○」，「義反詞」請畫「X」：(每題 1 分，共 10 分)

1.	2.	3.	4.	5.	6.	7.	8.	9.	10.
----	----	----	----	----	----	----	----	----	-----

三、成語選擇題：(每題 2 分，共 20 分)

1.	2.	3.	4.	5.	6.	7.	8.	9.	10.
----	----	----	----	----	----	----	----	----	-----

四、綜合選擇題：(每題 2 分，共 40 分)

1.	2.	3.	4.	5.	6.	7.	8.	9.	10.
11.	12.	13.	14.	15.	16.	17.	18.	19.	20.

五、閱讀題組：(每題 2 分，共 16 分)

1.	2.	3.	4.	5.	6.	7.	8.
----	----	----	----	----	----	----	----

**【題目區】**

二、兩者為「義近詞」請畫「○」，「義反詞」請畫「X」：(每題 1 分，共 10 分)

- ( ) 1. 老生常談／陳詞濫調 ( ) 2. 膾炙人口／乏善可陳 ( ) 3. 怒不可遏／大發雷霆  
 ( ) 4. 銳意／決心 ( ) 5. 傾軋／融洽 ( ) 6. 陶鑄／培育 ( ) 7. 白丁／文盲  
 ( ) 8. 何陋之有／十分簡陋 ( ) 9. 怨天尤人／反求諸己 ( ) 10. 河清海晏／太平盛世

### 三、成語選擇題：(每題2分，共20分)

- 「枝葉扶疏」之於「枝繁葉茂」的關係同於以下何者？  
(A)「不分軒輊」之於「望其項背」 (B)「魚沉雁杳」之於「泥牛入海」  
(C)「萬念俱灰」之於「意氣風發」 (D)「潸然淚下」之於「喜極而泣」。
- 下列何語有「人必須親身經歷，才能真切的體會事理」的意涵？  
(A)不到黃河心不死 (B)滿招損，謙受益  
(C)不經一番寒徹骨，焉得梅花撲鼻香 (D)如人飲水，冷暖自知。
- 「松柏後凋」的意涵與下列何語最接近？  
(A)不戚戚於貧賤，不汲汲於富貴 (B)福如東海，壽比南山  
(C)蒼松翠柏，高下相間 (D)風雨如晦，雞鳴不已。
- 「名山事業」可做為哪種產業的賀辭？(A)採礦業 (B)建築業 (C)出版業 (D)觀光業。
- 「那個兇嫌以縱火為樂，竟造成這次火災數十人死亡，其罪行實在\_\_\_\_\_。」請問畫線處宜填入哪個成語？ (A)望穿秋水 (B)令人髮指 (C)惘然若失 (D)超塵拔俗。
- 「美怡為人\_\_\_\_\_，不念舊惡，在對手急需幫助時雪中送炭，令人十分欽佩。」請問畫線處宜填入哪個成語？ (A)謙沖自牧 (B)捨身取義 (C)豁達大度 (D)一介不取。
- 「在大賣場的衝擊下，小店生意早已\_\_\_\_\_，大大不如從前了。」請問畫線處宜填入哪個成語？ (A)江河日下 (B)否極泰來 (C)枯木逢春 (D)興盡悲來。
- 「世事如\_\_\_\_\_，變化難料，明天的事誰又能說得準呢？」請問畫線處宜填入哪個成語？ (A)判若雲泥 (B)行雲流水 (C)撥雲見日 (D)白雲蒼狗。
- 「為了讓我國的體育能揚威世界，選手們可說是\_\_\_\_\_。」請問畫線處宜填入哪個成語？ (A)任重道遠 (B)碧血丹心 (C)持盈保泰 (D)無動於衷。
- 關於「百城富有」一語的使用，下列何者正確？  
(A)老王「百城富有」，全台首富當之無愧。  
(B)老王家「百城富有」，許多城市的精華地段都有他家的房產。  
(C)老王家「百城富有」，你若想找什麼資料，可以去找他試試。  
(D)老王「百城富有」，各種天馬行空的點子，只有你沒想到，沒有他想不到。

### 三、綜合選擇題：(每題2分，共40分)

- 「山不在高，有仙則名；水不在深，有龍則靈。斯是陋室，惟吾德馨。」這段文字的主要含義為何？ (A)簡陋的居住環境，有助於提升個人品德  
(B)唯有在合適的環境中，有能者方可盡顯其才  
(C)只要具備才德，即使身居陋室也能揚名於世  
(D)置身於依山傍水的大自然，能使人淡泊名利。
- 由「南陽 諸葛廬，西蜀 子雲亭」可推知作者的心態為何？  
(A)靜待時機，一展抱負 (B)恬淡無為，不求功名  
(C)看破紅塵，與世隔絕 (D)安於現狀，故步自封。
- 〈陋室銘〉的作者居於陋室卻能安然自得的態度，與下列何者最相近？  
(A)願無伐善，無施勞 (B)人一己百，人十己千 (C)不患人之不己知，患不知人也  
(D)環堵蕭然，不蔽風日，短褐穿結，簞瓢屢空——晏如也。

4. 〈看雲的日子〉：「當雲霧在面前飄忽飛舞，帶來朦朧意境，人似乎也跟著清明靈動起來。」這句話的主要含義為何？
- (A) 雲霧層層繚繞，讓人有君臨天下，睥睨人世之感
  - (B) 幻化多端的雲霧使人如入空靈之境，因而心得明淨
  - (C) 即使周遭風雲詭譎，仍應保有清明的心智而不失本性
  - (D) 大自然變幻莫測，人應懂得靈活應變。
5. 〈看雲的日子〉：「人生際遇變化無常，不就如天際雲彩，瞬息萬變，難以掌控捉摸，世間種種翻騰好比過眼雲煙，倏忽消逝，耀眼明亮時值得喝采，黯淡孤獨時，也是另種人生歷程。一切風輕雲淡，自由自在，天地自然體現了無常的道理。」這段文字的主要含義為何？
- (A) 我們都該為自己的人生來點掌聲，也應為別的人生喝采
  - (B) 在年輕時選擇挑戰艱難，則人生將如同倒吃甘蔗般甜美
  - (C) 世事多變無常，對一切成敗得失不必太過執著
  - (D) 人生際遇瞬息萬變，故而為人處事不能墨守成規，坐以待斃。
6. 「呼嘯而過的日子，從不曾真正離去，只是換種風情繼續在天涯響過行雲，見證一切。」根據〈看雲的日子〉一文，這段文字所表達的含義與下列何者最相近？
- (A) 經過歲月的洗禮，童稚蛻變為成熟，能更了然的面對未來
  - (B) 失敗是成功最佳的墊腳石，記取教訓才能創造璀璨的前程
  - (C) 凡走過必留下痕跡，只要肯用心打拚，一定會有收穫
  - (D) 時間絕不會為任何人停留，懂得珍惜光陰才能讓生命變得更有價值。
7. 「秦帝宮成陳勝起，明皇殿就祿山來。」這兩句詩說明什麼道理？
- (A) 危機即轉機，把握機會便有無限可能
  - (B) 勇於挑戰強權的人，才能成就一番豐功偉業
  - (C) 只要奮發向上，出身低微者也能獲得成功
  - (D) 過度沉溺在成功與安逸中，易招來禍害。
8. 「禍福互為倚伏，成敗轉眼易位，由失敗而成功或許累計了二十年，由成功而失敗，有時驟生於旦夕之間。」這段文字的主要含義為何？
- (A) 家境富裕的人未必能成功，出身低微的人也未必會失敗
  - (B) 成功或許需要經歷千辛萬苦，失敗卻可能在一瞬間發生
  - (C) 禍福相生相滅，成功與失敗必然會同時發生
  - (D) 若沒有二十年的磨練，便無法取得成功。
9. 關於〈成功是失敗之母〉一文的寫作手法，下列敘述何者正確？
- (A) 開頭先講述故事，從中引出「成功是失敗之母」的論點
  - (B) 運用事例說明驕者必敗的道理，使文章具強烈說服力
  - (C) 採用問答方式，勸告世人得意時切勿猖狂
  - (D) 結尾重申題旨，強調成功者注定失敗。
10. 「按照正道做，輸了有何怨尤。我輸了只怪我自己不行，等我充實改進以後，下次再來。」這段文字體現了下列何種處世態度？
- (A) 凡事以和為貴，不與他人起衝突
  - (B) 凡事盡其在我，並懂得反求諸己
  - (C) 能以己度人，設身處地為他人著想
  - (D) 能從善如流，樂於接受別人的建議。
11. 「來競爭當然要求勝利，來比賽當然想創紀錄。但是有修養的運動家，必定要達到得失無動於衷的境地。」根據這段文字，作者認為有修養的運動家必須具備下列何種精神？
- (A) 勝不驕，敗不餒，坦然面對競賽的結果
  - (B) 守規矩，遵禮儀，追求公平公開的競爭
  - (C) 言必信，行必果，比賽絕不半途而廢
  - (D) 有志者，事竟成，以贏得賽事為目標。

12. 「寧可有光明的失敗，絕不要不榮譽的成功！」這句話的含義與下列何者最相近？
- (A) 在勝利前卻步，最終只能擁抱失敗；在困難時堅持，往往會獲得成功  
 (B) 一個嘗試錯誤的人生，不但比無所事事的人生更為榮耀，並且更具意義  
 (C) 失敗和成功一樣重要，因為唯有了解失敗的原因，我們才能探知成功的方法  
 (D) 堂堂正正的失敗，在本質上是成功的；不清不白的成功，在本質上卻是失敗的。
13. 關於〈運動家的風度〉一文的寫作手法，下列敘述何者正確？
- (A) 首段以開門見山法點出主旨，闡述運動家的風度與人生態度密切相關  
 (B) 引用名言佳句，並適時穿插例證，分述何謂「運動家的風度」  
 (C) 先總論運動的意義及重要性，再透過反面事例針砭國人的怠惰  
 (D) 藉由美國選舉實例對比臺灣社會現況，說明運動家的風度是優秀民族所應努力培養的。
14. 項鍊一文以項鍊作為主要線索，故事情節的發展依序為何？
- 甲、商借項鍊；乙、發現真相；丙、償還債務；丁、遺失項鍊。  
 (A) 甲乙丙丁 (B) 乙丁甲丙 (C) 甲丁丙乙 (D) 甲丁乙丙。
15. 珍娜說出真相後，文章卻戛然而止，你認為作者這麼做的用意是什麼？
- (A) 讓讀者感受珍娜的悔意與羞愧 (B) 表達瑪蒂達因過於憤怒而無言以對  
 (C) 將瑪蒂達五味雜陳的心情留給讀者想像 (D) 暗示珍娜不該說出如此令人心碎的真相。
16. 下列選項「 」中的詞語，何者並非實指顏色？
- (A) 青紅「皂」白 (B) 「朱」門酒肉臭 (C) 「青」山綠水 (D) 寄送「黑」函。
17. 「獅頭山、貢丸湯雖然不能盡如我意，但意外造訪的城隍廟，熱鬧非凡，街邊隨興吃的豬血糕，分量大、糯米香，反倒有了意外驚喜。人生就是這樣吧，無心插柳的事多了，正好提供期待之外的另一番樂趣。」作者在這段文字中透露了哪一種觀點？
- (A) 美好的事物總是需要等待 (B) 機會只留給做好準備的人  
 (C) 凡事無須強求，順其自然就好 (D) 豈能盡如人意，但求無愧我心。
18. 下列文句，何者沒有語病？ (A) 您好，現在為您進行上菜的動作  
 (B) 通訊軟體的進步，使人們的距離縮小，地球也擴大了  
 (C) 我不以為意的看著背包上那個顯眼的小縫  
 (D) 當你停止犯錯時，你便要審視自己是否不再進步。
19. 下列選項「 」中的詞語，何者為反義複詞？
- (A) 這是一部「雅俗」共賞的好電影 (B) 他的目光最終望向無盡的「虛空」  
 (C) 年輕人要勇敢「追逐」夢想 (D) 一般人很難做到「忘懷」得失。
20. 「田仲隱居不仕，自給自足。說客(1)屈穀到他的住所，說：『我有個大葫蘆，像石頭般堅硬，皮殼很厚，裡面沒有一點空隙，我把它獻給您。』田仲說：『葫蘆之所以可貴，就在於它可以裝東西。這個葫蘆雖然大，卻皮殼堅厚且內為實心，如此就不能裝東西；堅硬如石，就不能剖開當水瓢。這樣我要它做什麼？』屈穀馬上接著說：『好，那我把它丟掉！』」根據文意推敲，屈穀送葫蘆給田仲的主要用意為何？【注釋】(1)說客：用言語勸說他人的人。
- (A) 諷刺田仲用手段博取美名 (B) 極力稱讚田仲能安貧樂道  
 (C) 贊同田仲不仰賴他人生活 (D) 委婉責怪田仲不願為國效力。

#### 四、閱讀題組(每題 2 分，共 16 分)

在古代的神話與傳說中，龍是一種神異動物——蛇身、鱗首、蜥腿、鷹爪、蛇尾，鹿角、魚鱗、口角有鬚、顎下有珠。宋代 羅願在爾雅翼中也記載，龍具有各種動物的特徵。

其實，龍最初只是一個圖騰。沒有人真正目睹過龍，但因許多靈異的傳說，如：龍能隱能顯，又能興雲致雨，春風時登天，秋風時潛淵。於是，人們從內心深處崇拜龍，龍遂演變成神聖的象徵。因此，古代許多帝王亦假託龍的神話，來鞏固自己的領導地位。

神話中的人類始祖伏羲、女媧，皆龍身人首，被稱為「龍祖」；炎帝是他母親感應「神龍首」而生，死後化為赤龍。再如：史記說漢高祖 劉邦之母，於大澤邊歇息，夢與神遇，其父往視，見有蛟龍於其上，不久，母即有孕，生下高祖。劉邦「隆準（1）而龍顏」，醉臥之時，有人「見其上常有龍」。此類說法在歷史上屢見不鮮。於是，龍後來成為皇權的象徵，皇帝又稱真龍天子，皇宮使用器物也以龍為裝飾。

龍的出現被視為祥瑞之兆，因此逢年過節時總看得到龍的蹤跡，如：舞龍、賽龍舟等皆是。文人們也以龍創出許多成語及俚俗用語，如：龍鳳呈祥、攀龍附鳳、生龍活虎等。可知龍的形象是如何深植於中華民族的文化中了。 【注釋】（1）隆準：指鼻子高挺。

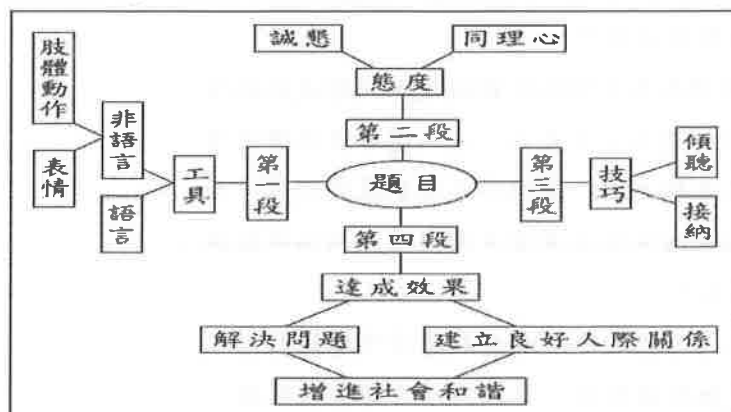
1. 根據本文，古代帝王多藉龍的傳說來鞏固皇權，其主要原因是下列何者？

- (A) 皇室所用的日常器物與衣飾，皆以龍為裝飾
- (B) 古代帝王的形貌及其出生、死亡，皆與龍相關
- (C) 傳說中的龍神通廣大，成為人們心中神聖的象徵
- (D) 龍的形象融入人民的生活中，節慶活動處處可見。

2. 本文有許多關於龍的敘述，下列何者未曾被提及？

- (A) 龍的祖先 (B) 龍的能力 (C) 龍的外型長相 (D) 與龍相關的生活用語。

阿宏在作文課中依照老師所出的題目畫出下列結構圖，請閱讀並回答下列問題：



3. 根據這張結構圖，下列何者最可能是老師所出的作文題目？

- (A) 談溝通 (B) 情緒管理 (C) 演說的技巧 (D) 創造理想人生。

4. 根據這張結構圖，這篇文章的布局應為下列何者？

- (A) 總述全文綱要之後分段引證、推論 (B) 先提出結論，再依因果關係逐項說明
- (C) 針對題目的不同層面，分段敘述說明 (D) 先正面論述，再反面立說，最後歸納作結。

凡夏至後迄秋分，勿食肥膩餅臠（1）之屬，此與酒漿、果瓜相妨。或當時不覺即病，入秋節變，諸症橫生，皆由涉夏取冷太過，飲食不節故也。而或者以病至之日便為得病之初，不知其所由來者漸矣。故自慎者，當去之於微也。（改寫自孫思邈 攝養枕中方）

【注釋】（1）臠：音ㄉㄨㄛˋ，肉羹。

5. 本文所討論的主題應是下列何者？
- （A）食物屬性相互沖剋的原理 （B）改變飲食習慣的正確步驟  
（C）節氣變化對於人體的影響 （D）夏秋之際正確的飲食之道。
6. 這段文字闡述的養生之法，其所蘊含的道理與下列何者最接近？
- （A）勞其形者長年，安其樂者短命  
（B）禍常積於所忽，患每消於所慎  
（C）無病之身，不知其樂也，病生，始知無病之樂  
（D）見兔而顧犬，未為晚也；亡羊而補牢，未為遲也。

地球表面的70%由水覆蓋，其中絕大部分是海洋。廣大無垠的海洋蘊涵取之不盡的能源，潮汐、海水溫差與波浪是其中三種。

潮汐——潮汐是因為地球、月球與太陽之間的引力變化所造成，某些地區因為地理環境因素，漲潮與退潮落差可以達到十公尺以上，「潮汐能」便是利用潮差的位能轉換成其他形式的能量。

海水溫差——水的比熱非常大，每一公升純水水溫升高1℃便要吸收4180焦耳的能量。若能利用海洋每天所吸收的太陽能，將是非常可觀的能源。「海水溫差」發電是利用深海與淺海的溫度差，來使發電機運轉。不過只適合用在赤道附近緯度20°以內的海域，能量轉換效率也只能達到1%~3%。

波浪——波浪是風推動海水造成的。雖然波浪的位能差不像潮汐那麼大，但是不斷上下振動所累積的能量也不容小覷。「波浪能」的開發利用是非常新的科技，目前大部分都還在研發階段，或只有小規模的應用。

7. 根據本文，下列敘述何者正確？
- （A）潮汐能是利用潮水落差的位能轉換成不同形式的能量  
（B）海水溫差目前的應用效率最高，尤其適合在寒帶使用  
（C）波浪的位能差不輸潮汐，是海洋能源的最新研發方向  
（D）潮汐、海水溫差與波浪三者皆是應用廣泛的海洋能源。
8. 下列何者是本文的主旨？
- （A）說明海洋中取之不盡的能源類型及能量可轉換利用  
（B）批判人類一味地發展科技，導致海洋資源嚴重耗損  
（C）呼籲珍惜海洋資源，澈底解決地球能源短缺的問題  
（D）主張綠色能源是拯救地球環境減少危害的最佳策略。

請交答案卷即可

Class :

Number :

Name:

一：聽力測驗題；每題均有三個選項，根據聽到的內容，選出合適的回應 10% (每題二分)

- ( ) 1. (A) He became a full-time writer.  
(B) He was an excellent engineer.  
(C) He looked good in that uniform.
- ( ) 2. (A) The sign is right here.  
(B) I didn't hear anything.  
(C) I don't know. Let me see.
- ( ) 3. (A) Thanks.  
(B) That's great!  
(C) I will help myself.
- ( ) 4. (A) You should have long hair and sharp nails.  
(B) Don't be afraid, and you are one of them now.  
(C) Then you should get stronger and be braver.
- ( ) 5. (A) Not really.  
(B) I'm all ears.  
(C) Sounds good.

二：單字填充 20% (每題二分)

- ☺ **Jane: P -1- s** Sandra is right.  
**Abby:** Are you sure? How do you know that?
- ☺ After the festival, there is lots of garbage on the **g -2- d**. Let's clean it up.
- ☺ The cloud is in the **s -3- e** of a rabbit. It's really cute.
- ☺ A country 國家 needs a lot of brave **s -4- ers** to protect the people from danger.
- ☺ There are so many choices here. **H -5- r**, I have hard time choosing one.
- ☺ **Nick:** I love running.  
**Amber:** No wonder you look so **h -6- y**.
- ☺ It's our **t -7- n** to have dinner with family on special festivals.
- ☺ Do your homework by yourself. It's not right to **c -8- y** other people's.
- ☺ Tony used his schoolbag to **c -9- r** his head when the earthquake hit
- ☺ Jay didn't sleep well last night, so his **n -10- k** hurts a lot now. He can't turn his head at all.

三：選擇題 50% (每題二分)

- ☺ **Amy:** Did you notice Mrs. Huang **1.** under the table?  
**Ben:** Yes. But why did she do that?  
(A) hides (B) hide (C) to hide (D) be hiding
- ☺ **Mrs. Stone:** Please make **2.** at home and enjoy the food, boys.  
**Boys:** Thank you, Mrs. Stone.  
(A) themselves (B) yourself (C) yours (D) yourselves
- ☺ I have three sisters: one is 11 years old, and **3.** are 5 years old.  
(A) one (B) ones (C) the other (D) the others
- ☺ **Mimi:** Teacher, I can't find my pen.  
**Smantha:** If you can't find **4.**, you can borrow **4.** from your classmate.  
(A) it ; it (B) it ; one (C) one ; one (D) one ; it

- ☺ **Alex:** How many classmates in your class can come to help at this event?  
**Molifix:** About half of 5. can.  
 (A) us (B) we (C) ours (D) ourselves.
- ☺ Peter looked 6. at me because I ate his pie.  
 (A)angrily (B)angry (C)anger (D)being angry
- ☺ I don't like any one of these three watches. Can you show me 7. one?  
 (A) the others (B) other (C) either (D) another
- ☺ There are trees and flowers on 8. sides of the river. I like to take a walk there.  
 (A)all (B)any (C)each (D)both
- ☺ 9. it's cold in Korea in winter, people there still drink iced water.  
 (A) If (B) After (B) Before (D) Although
- ☺ **Mom :** Do I need to pick you up after school?  
**Son :** Don't worry. Judy and I can go to your place by 10.  
 (A) herself (B) myself (C) yourself (D) ourselves
- ☺ It's really sad to 11. one's good friend leave!  
 (A)see (B)ask (C)tell (D)want
- ☺ All of the noise 12. strange.  
 (A) do (B) does (C) is (D) are
- ☺ Mr. Gates has a lot of money. He put 13. in the bank.  
 (A) most of them (B) one of them (C) most of it (D) few of them
- ☺ The rich 14. able to the poor if they are willing to 願意.  
 (A) can (B) could (C) are (D) is

A teenager gave his mother a note one evening while she was cooking in the kitchen. After his mom dried her hands with a towel, she read it. The note said:

*For washing the bathroom: NTS20*

*For tidying up 整理 my room this week: NTSs0*

*For shopping in the supermarket for you: NTS10*

*For mopping 拖(地) the floor: NTS30*

*For taking out the garbage: NTSS*

*For getting a good report card 成績單: NTS50*

**P.S. Because you are a wonderful mom, I think I can give you a discount 折扣.**

Although the boy's mother felt a little sad when she read the note, she said nothing about it. Instead 反而, she picked up the pen, turned over the note, and wrote:

*For the nine months, I carried you while you were growing inside me: Free*

*For all the nights I sat beside your bed when you were sick: Free*

*For the toys, food, clothes, and even wiping 擦 your nose: Free*

**Son, when you add it up 加總, the cost of my love is: Free**

After the boy finished reading the note from his mother, there were big tears 眼淚 in his eyes, and he looked straight at his mother and said, "Mom, I sure do love you." And then he took the pen and in large letters he wrote: "Paid in Full."



- 15.** How much should the mother pay her son at last?  
 (A) Nothing. (B) NT\$100. (C) NT\$135. (D) NT\$165.
- 16.** How did the boy feel after he read the note?  
 (A) Proud.(B) Wonderful.(C) Terrible.(D) Lonely.
- 17.** What can we NOT learn about the mother from the reading?  
 (A) She took care of her son when he wasn't well.  
 (B) She carried her son while he was growing inside her body for almost one year.  
 (C) She asked her son to pay back a lot of money.  
 (D) She loved her son very much.

Many people have great dreams for music, movies, and TV shows, but producing 生產 these things is really expensive. In the past, people asked companies 公司 to fund 資助 their plans. Now people have another choice: crowdfunding.

If a student wants to produce an album 專輯, but he doesn't have enough money, he can try crowdfunding. He can go online and ask people to send him some money. If he gets enough money, he can have his own album.

Also, crowdfunding can also do something on education 教育. When a school wants to start a new plan, it can use a crowdfunding website 網站. The school tells everyone how much money it needs. The crowdfunding will set a time limit. If the school gets all the money before the time limit 限制 expires, it can use it to make its plan come true. If it fails 失敗, it will give the money back. It is called "All-or-Nothing Crowdfunding."

Crowdfunding helps lots of people or schools make their dreams come true. And these dreams help the world become better and better.

- 18.** Who most likely 最可能 needs crowdfunding?  
 (A) Leo, a ten-year-old boy, wants to keep a dog.  
 (B) Ruby, a forty-year-old woman, wants to make a movie.  
 (C) Lisa, a twenty-year-old student, wants to borrow books.  
 (D) Jack, a thirty-year-old teacher, wants to look for a new job.
- 19.** What does expire mean?  
 (A) To get started.  
 (B) To take notice of.  
 (C) To come to an end.  
 (D) To take something out.
- 20.** Which is true about "All-or-Nothing Crowdfunding"?  
 (A) It has nothing to do with education.  
 (B) There is no time limit to get all the money.  
 (C) You can still keep the money if you can't get all the money finally.  
 (D) You need to give the money back if you can't get all the money finally.

Ken and Henry worked hard on their science report 報告 for almost a month. But two days ago, their science teacher asked them to choose 21. topic 主題. On hearing this, they were sad but agreed. Because it was a new start, they spent 22. of their time working and had no time to have fun with 23. in their class.


One day, the head of the school, Mr. Brown, came to see them and said, "Boys, I heard about your hard work. 24. are doing a(n) 25. job. I'm so proud of you. Just keep going, and I believe you will have a big chance of winning."

Ken and Henry learned an amazing lesson: No pain, no gain. 一分耕耘,一分收穫

21. (A) one (B) another (C) the other (D) each  
 22. (A) some (B) every (C) many (D) most  
 23. (A) the others (B) the other (C) all of them (D) some of them  
 24. (A) One of you (B) Each of you (C) All of you (D) Both of you  
 25. (A) excellent (B) free (C) bad (D) happy

四. 寫作練習；請根據提示作答 20% (每句二分)

**Picture A**



**Picture B**



【試題結束—文光國中八年級英文】

Class :      Number :      Name:

## 一：聽力測驗 10% (每題二分)

1.	2.	3.	4.	5.
----	----	----	----	----

## 二：單字填充 20% (每題二分)

1.	2.	3.	4.	5.
6.	7.	8.	9.	10.

## 三：選擇題 50% (每題二分)

1.	2.	3.	4.	5.	6.	7.	8.	9.	10.
11.	12.	13.	14.	15.	16.	17.	18.	19.	20.
21.	22.	23.	24.	25.					

## 四：寫作練習 20% (每題二分)

1. 這王國是屬於英國人民，而不是查理二世 King Charles II。 (請翻成英文)
2. What is Biomimicry? (請依事實回答)
3. Where are the boys? (以 Picture A 回答; 圖片在題目卷上)
4. The job takes much effort, but it is a great honor to give tours to the public. (請用...although...改寫，句意不變)
5. An ugly bird with a long beak was flying around the tree. We saw it. (請合併兩句，句意不變)
6. One of the boys in the classroom is my protector. (以 three 為句首並改寫句子)
7. Becoming an English teacher often takes quite a few years of training. (請翻成中文)
8. The weather will be fine tomorrow. Larry and I will go swimming. (以 If....開頭合併句子)
9. Why does the Ravenmaster play an important part in the UK? (請依事實回答)
10. What happened to the boy? (以 Picture B 回答; 圖片在題目卷上)

一、單一選擇題(每題3分，共24分)

1.  $\triangle ABC$  中， $\angle A = 60^\circ$ ， $\overline{AB} > \overline{AC}$ ，試比較  $\angle C$  和  $60^\circ$  的大小關係。

- (A)  $\angle C < 60^\circ$  (B)  $\angle C = 60^\circ$  (C)  $\angle C > 60^\circ$  (D) 無法比較

2. 下列何者選項的兩條對角線互相平分且垂直？

- (A) 長方形 (B) 菱形 (C) 等腰梯形 (D) 箏形

3. 下列各組數中，何者不能作為三角形的三邊長？

- (A) 1、2、3 (B) 2、3、4 (C) 3、4、5 (D) 4、5、6

4. 下列四個選項中，哪一個不能用來判定四邊形  $ABCD$  為平行四邊形？

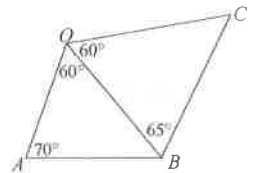
- (A)  $\angle A = \angle C$ ， $\angle B = \angle D$  (B)  $\overline{AB} \parallel \overline{CD}$ ， $\overline{AB} = \overline{CD}$   
 (C)  $\overline{AB} \parallel \overline{CD}$ ， $\overline{AD} = \overline{BC}$  (D)  $\overline{AB} = \overline{CD}$ ， $\overline{AD} = \overline{BC}$

5. 有關四邊形的敘述，下列何者正確？

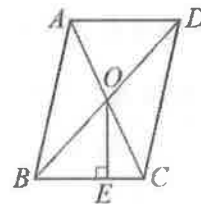
- (A) 若四邊形兩對角線互相平分且等長，則此四邊形必為長方形  
 (B) 若四邊形兩組對邊分別相等，則此四邊形必為長方形  
 (C) 若四邊形兩對角線互相垂直平分，則此四邊形必為正方形  
 (D) 若四邊形是菱形，則兩對角線互相垂直平分且相等

6. 如右圖，四邊形  $OABC$  中， $\angle OAB = 70^\circ$ ， $\angle AOB = 60^\circ$ ， $\angle BOC = 60^\circ$ ， $\angle OBC = 65^\circ$ ，請問在  $\overline{OA}$ 、

$\overline{AB}$ 、 $\overline{BC}$ 、 $\overline{OC}$  四邊中，哪一個邊最長？ (A)  $\overline{OC}$  (B)  $\overline{OA}$  (C)  $\overline{AB}$  (D)  $\overline{BC}$

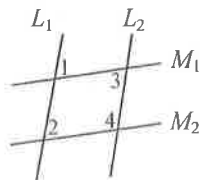


7. 如右圖，已知  $\overline{OE} = 6$ ，兩對角線交於  $O$  點， $\overline{OE} \perp \overline{BC}$ ，且  $\overline{BC} = 8$ ，則  $\square ABCD$  面積為何？ (A) 48 (B) 72 (C) 96 (D) 120



8. 如右圖，直線  $L_1$ 、 $L_2$ 、 $M_1$ 、 $M_2$  中， $L_1$  與  $L_2$  平行， $M_1$  與  $M_2$  不平行，則下列何者正確？

- (A)  $\angle 2 = \angle 3$  (B)  $\angle 3 + \angle 4 = 180^\circ$  (C)  $\angle 1 = \angle 2$  (D)  $\angle 2 + \angle 4 = 180^\circ$



一、單一選擇題(每題3分，共24分)

1	2	3	4	5	6	7	8

二、填充題：(共18題，佔68分，註記題號為難題請留意時間分配)

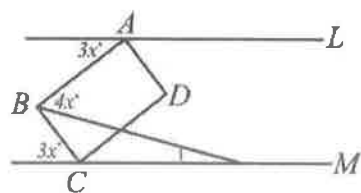
題數	1	2	3	4	5	6	7	8	9	10
分數	5	10	15	20	25	29	33	37	41	45
題數	11	12	13	14	15	16	17	18		
分數	49	52	55	58	61	64	66	68		

1	2	3	4	5
6(1)	6(2)	6(3)	7	8
9	10	11	12	13
14	15	16		

三、計算應用題(依算式給分，每題4分，共8分。)

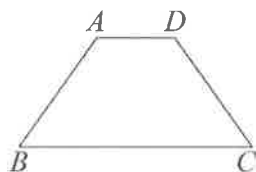
1.  $L \parallel M$ ，且四邊形 ABCD 為長方形，

求  $\angle 1$  的度數。

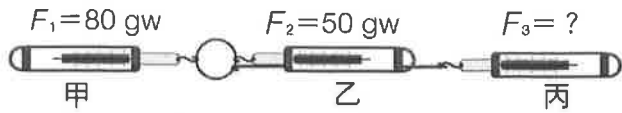


2. 四邊形 ABCD 為等腰梯形，腰長 = 15 公分，

高 = 12 公分， $\overline{AD} = 6$  公分，求 ABCD 的面積。







- (A)30 (B)50 (C)80 (D)130。

9. ( ) 沛沛參與繩索垂降的山訓活動，如右圖所示，已知沛沛含裝備的重量為 55 公斤重，則當沛沛由靜止開始往下緩降時，繩索所受的總摩擦力不可能為下列何者？(A)56 kgw (B)55 kgw (C)54 kgw (D)53 kgw。

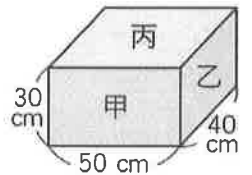


10. ( ) 下列選項中，哪些方法或現象可以減少摩擦力？

- 甲.在齒輪上加些潤滑油  
乙.光滑的磁磚地板  
丙.浴室的防滑墊  
丁.下雨天溼滑的路面  
戊.地板表面有許多粗糙顆粒

- (A)乙、丁 (B)丙、戊 (C)甲、乙、丁 (D)甲、丙、戊。

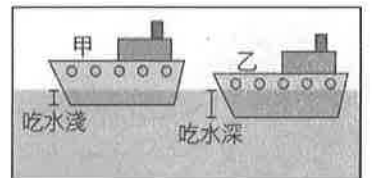
11. ( ) 有一個質量 5 公斤的長方體，其大小如右圖所示，如果將甲、乙、丙三面依序平放於桌面上，桌面所受的壓力分別為  $P_{甲}$ 、 $P_{乙}$ 、 $P_{丙}$ ，則  $P_{甲} : P_{乙} : P_{丙}$  之比為何？(A)1 : 1 : 1 (B)4 : 5 : 3 (C)4 : 3 : 5 (D)15 : 12 : 20。



12. ( ) 承上題，欲拉動長方體的最大靜摩擦力分別為  $F_{甲}$ 、 $F_{乙}$ 、 $F_{丙}$ ，則三者的關係為何？  
(A)  $F_{甲} = F_{乙} = F_{丙}$  (B)  $F_{甲} > F_{乙} > F_{丙}$  (C)  $F_{甲} < F_{乙} < F_{丙}$  (D)  $F_{乙} < F_{甲} < F_{丙}$

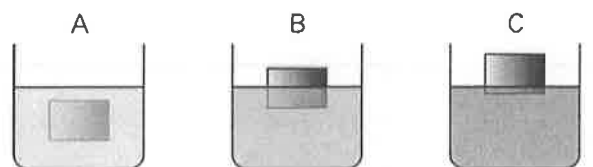
13. ( ) 下面哪一個物品或動作運用了連通管原理？(A)熱水瓶水位顯示 (B)用吸管喝飲料  
(C)用吸盤將抹布掛在牆上 (D)液壓千斤頂。

14. ( ) 有兩艘外觀、構造完全相同的船停泊在海面上。甲船是空船，吃水較淺；乙船則載滿乘客，吃水較深，如右圖所示，有關甲、乙兩船所受的力，下列敘述何者正確？



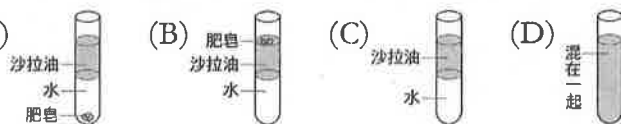
- (A)由甲船吃水較淺可知，甲船受到的浮力較乙船大  
(B)由乙船吃水較深可知，乙船受到的浮力小於船與乘客的總重量  
(C)甲、乙兩船皆為浮體，因此所受到的浮力相等  
(D)甲、乙兩船在水中秤得的重量皆等於零。

15. ( ) 右圖為同一物體分別投入 A、B、C 三種液體中靜止的情況，若物體在三種液體中所受的浮力分別為  $B_A$ 、 $B_B$ 、 $B_C$ ，則由圖可判斷它們的浮力大小關係為何？



- (A)  $B_A > B_B > B_C$  (B)  $B_A < B_B < B_C$  (C)  $B_A < B_B = B_C$  (D)  $B_A = B_B = B_C$ 。

16. ( ) 將肥皂加入水和沙拉油的試管中，塞上橡皮塞，搖動半分鐘後，靜置於試管架上，有關試管內的情形，下列何者正確？



17. ( ) 在燒杯中倒入椰子油 10 cc，再倒入酒精 10 cc，用玻璃棒攪拌同時加熱，再慢慢加入氫氧化鈉溶液 10 cc，一面加熱一面攪拌，直到沒有酒精味再加水 20 cc，攪拌均勻並停止加熱，等

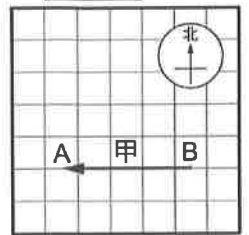
冷卻後再倒入濃食鹽水，上述有關實驗過程的敘述何者錯誤？ (A)加入酒精的目的是幫助反應物溶解 (B)此反應屬於酸鹼中和反應，故反應快速 (C)必須加入鹼性溶液如氫氧化鈉才能進行皂化反應 (D)反應最後加入飽和食鹽水的步驟，稱為鹽析。

18. ( ) 下列何種有機物質的分子最大？ (A)正十二烷 (B)葡萄糖 (C)酒精 (D)纖維素。  
 19. ( ) 仲蔚在野炊時，不小心將裝水的寶特瓶接觸到火苗，發現寶特瓶迅速變形，由此現象可以推知，寶特瓶的分子排列方式，應為哪一圖形？ (A)甲 (B)乙 (C)甲與乙都有可能 (D)甲與乙都不是。

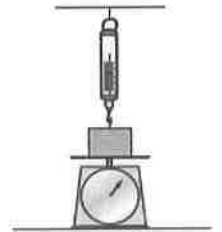


20. ( ) 甲.塑膠；乙.酒精；丙.葡萄糖；丁.纖維素；戊.耐綸；己.蛋白質。上述物質中不屬於聚合物者有幾種？ (A)1種 (B)2種 (C)3種 (D)4種。

21. ( ) 有關附圖中甲作用力的敘述，下列何者錯誤？ (A)A 為此力的作用點 (B)箭頭所指的方向為此力的方向 (C)線段 AB 的長度可以表示力的大小 (D)此力的方向向西。



22. ( ) 一物體置於磅秤的上方，同時掛在一彈簧秤下，如附圖所示，已知磅秤的讀數為 200 公克重，彈簧秤的讀數為 100 公克重，且物體呈靜止不動，則物體的重量應為多少公克重？ (A)100 (B)200 (C)300 (D)400。

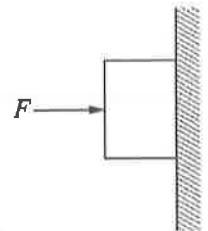


題組：彈簧下端懸掛一秤盤，上面放置砝碼做力的測量實驗，如附圖所示，每個砝碼質量均為 10g，實驗數據如附表所示，試回答下列 23~25 題：



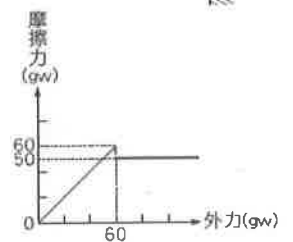
砝碼個數	2	4	6	8	10
彈簧伸長量 (cm)	1.8	2.4	3.0	3.6	4.2

23. ( ) 當砝碼數為 5 個時，彈簧之伸長量為多少 cm？ (A)2.5 (B)2.6 (C)2.7 (D)2.8。  
 24. ( ) 只懸掛秤盤時，彈簧之伸長量為多少 cm？ (A)1.2 (B)1 (C)0.8 (D)0.6。  
 25. ( ) 秤盤之質量為多少 g？ (A)20 (B)30 (C)40 (D)50。  
 26. ( ) 施力  $F$  將 500 gw 的木塊壓在牆壁上，當施力  $F$  為 600 gw 時，木塊恰不會下滑；問當施力  $F$  為 800 gw 時，木塊與牆壁間的摩擦力為多少 gw？(A)300 (B)500 (C)600 (D)800。



題組：有一 50 公克重之物體置於水平桌面上，摩擦力和所受外力的關係如附圖所示。請根據上述資料，回答下列 27~28 題：

27. ( ) 若對此靜止物體施予向左 55 公克重的水平推力，則關於此物體所受的摩擦力，下列敘述何者正確？ (A)物體所受靜摩擦力為 0 (B)物體所受靜摩擦力為 55 公克重，方向向右 (C)物體所受最大靜

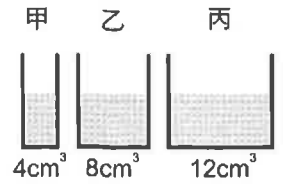




摩擦力為 55 公克重，方向向右 (D)物體所受動摩擦力為 50 公克重，方向向左。

28. ( ) 若以 60 公克重的水平推力推動物體一段時間，則此時物體所受的合力大小應為何？  
(A)0 (B)10 公克重 (C)50 公克重 (D)60 公克重。

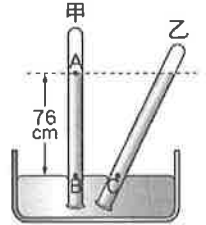
29. ( ) 如附圖所示，桌上有三容器，各容器內裝有同深度的水，則三容器底部所受壓力比為何？



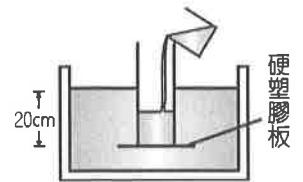
- (A)1 : 1 : 1 (B)1 : 2 : 3 (C)3 : 2 : 1 (D)6 : 3 : 2。

30. ( ) 圖釘之釘帽很大，如此設計的主要目的是什麼？ (A)減少手指所受的總力 (B)減少手指所受的壓力 (C)增加釘帽所受的壓力 (D)增加手指所受的壓力。

31. ( ) 在大氣壓力為 1 大氣壓的地方利用水銀做托里切利實驗，若將試管分別垂直和傾斜放置如附圖之甲、乙，則下列敘述何者錯誤？ (A)A 點上方為托里切利真空 (B)B 點所受壓力為 76 cmHg (C)C 點所受的壓力大於 76 cmHg (D)將此裝置移至月球上，甲管水銀柱垂直高度等於 0 cm。



32. ( ) 取一硬塑膠板 (重量忽略不計)，用手緊密的按在一只開口的玻璃圓筒下端，一同壓入水內，如附圖所示，使塑膠板距水面 20 cm，然後鬆手，發現塑膠板未落下，今由上部倒入密度為  $0.8 \text{ g/cm}^3$  的某液體，當此液體高度為多少 cm 時可發現硬塑膠板落下？ (A)20 (B)24 (C)25 (D)28。



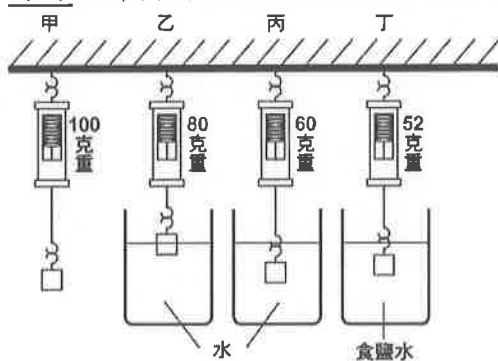
33. ( ) 小明在園遊會的會場幫忙釋放氣球，當這些被釋放的五彩氣球往上飄時，若氣體沒有進出，則此時氣球將有何種變化？ (A)體積膨脹、內部壓力變大 (B)體積膨脹、內部壓力變小 (C)體積收縮、內部壓力變小 (D)體積收縮、內部壓力變大。

34. ( ) 奕德使用一彈簧秤懸掛著一物體，彈簧秤的讀數為 240 gw，當此物體完全沉入某液體時，彈簧秤的讀數變為 180 gw。根據阿基米德原理，此物體排開某液體的重量應為多少 gw？ (A)50 (B)60 (C)180 (D)240。

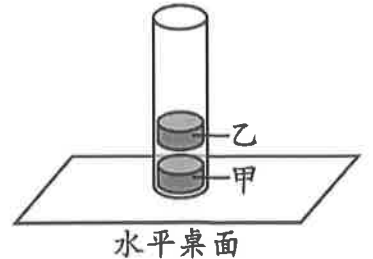
35. ( ) 有甲、乙、丙三個不溶於水的固體，其質量和體積如附表所示，若將三者投入水中，則哪一個所受的浮力最小？ (A)甲 (B)乙 (C)丙 (D)三者所受的浮力皆相等。

固體	甲	乙	丙
質量(g)	20	20	20
體積( $\text{cm}^3$ )	40	20	10

題組：婷婷以彈簧秤測量的結果，如附圖所示。試根據此圖，回答下列 36~38 題：

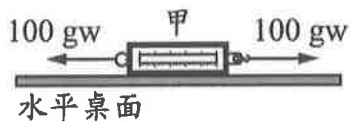


36. ( ) 如乙裝置所示，當方塊沒入一半時，其所受的浮力為多少 gw ? (A)10 (B)20 (C)30 (D)40
37. ( ) 方塊的體積為多少  $\text{cm}^3$  ? (A)10 (B)20 (C)30 (D)40。
38. ( ) 根據丁裝置，試著求出食鹽水的密度 ( $\text{g}/\text{cm}^3$ ) ? (A) 0.8 (B) 0.9 (C) 1.2 (D) 1.4。
39. ( ) 某氣泡由湖面下 20 m 處緩慢上升，則氣泡上升過程中，下列敘述何者正確？ (A)氣泡所受水的壓力越來越大 (B)氣泡內部氣體密度不變 (C)氣泡的體積越來越小 (D)氣泡所受浮力越來越大。

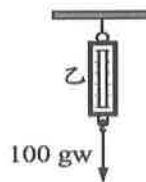


40. ( ) 如附圖所示，將兩個磁鐵置入玻璃管中，磁鐵甲與玻璃管底部接觸，磁鐵乙靜止漂浮在空中，不與玻璃管、磁鐵甲接觸。關於兩磁鐵的受力情形，下列何者正確？ (A)兩磁鐵所受合力均為零 (B)兩磁鐵所受合力均不為零 (C)磁鐵甲所受合力為零，磁鐵乙所受合力不為零，且合力方向向上 (D)磁鐵乙所受合力為零，磁鐵甲所受合力不為零，且合力方向向下。
41. ( ) 如圖一所示，對彈簧秤甲兩端同時施以方向相反、大小同為 100 gw 的水平力，彈簧秤甲仍保持靜止平衡狀態，讀數為  $X_{\text{甲}}$ 。如圖二所示，彈簧秤乙吊掛在支架下，對其施以鉛直向下、大小為 100 gw 的力，彈簧秤乙保持靜止平衡狀態，讀數為  $X_{\text{乙}}$ 。若彈簧秤的重量很輕可以忽略，且過程中兩彈簧秤均未超過彈性限度，則  $X_{\text{甲}}$ 、 $X_{\text{乙}}$  應為多少？

圖一

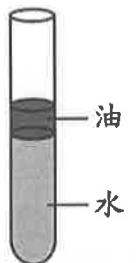


圖二

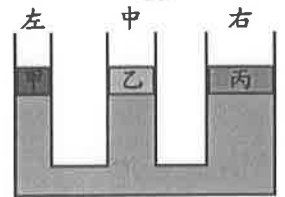


- (A)  $X_{\text{甲}}=0$ ， $X_{\text{乙}}=100 \text{ gw}$  (B)  $X_{\text{甲}}=100 \text{ gw}$ ， $X_{\text{乙}}=0$  (C)  $X_{\text{甲}}=100 \text{ gw}$ ， $X_{\text{乙}}=100 \text{ gw}$   
 (D)  $X_{\text{甲}}=200 \text{ gw}$ ， $X_{\text{乙}}=100 \text{ gw}$ 。

42. ( ) 「起雲劑」是一種食品添加物，也是一種界面活性劑，能使原本有明顯界面、不互溶的水狀與油狀液體混合均勻而不分層。下列哪一種物質加入附圖的油水分層試管中，最能達到上述的效果？  
 (A)蒸餾水 (B)肥皂水 (C)飽和食鹽水 (D)葡萄糖水溶液。



43. ( ) 在水平桌面上，放置一個從左至右，管口徑依序變大的盛水連通管。今在三管管口上各放置與管口口徑相同的甲、乙、丙三活塞，活塞與管壁、水面完全密合且可以在管壁上自由滑動，忽略活塞與管壁間的摩擦力，當三活塞達到靜止平衡時，三管內的水面齊高，如附圖所示，則關於活塞甲、乙、丙的重量大小關係，下列何者正確？


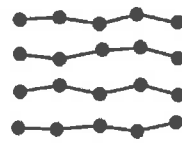




- (A) 甲 = 乙 = 丙 (B) 乙 > 甲 = 丙 (C) 甲 > 乙 > 丙 (D) 丙 > 乙 > 甲。

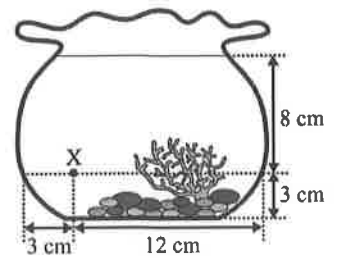
44. ( ) 右為某網頁上的一則問與答，根據敘述，下列關於外包裝塑膠套材質的性質敘述和結構示意圖，何者正確？

問：煮蟹肉棒時，外包裝的塑膠套是否需要拆掉？  
答：市售蟹肉棒外包裝的塑膠套，其材質多屬於熱塑性聚合物，不建議長時間置於高溫環境下烹煮，建議料理前拆掉塑膠套是最保險的做法。

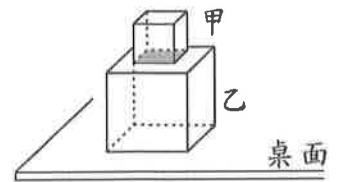
- (A)加熱後會熔化 (B)加熱後會熔化 (C)加熱後不會熔化 (D)加熱後不會熔化



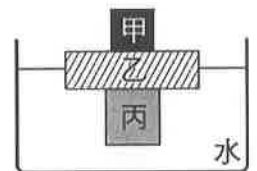
45. ( ) 有一個裝水的玻璃魚缸，內部的水保持靜止，魚缸內有一點 X，其位置如圖所示。若 X 點所受來自上、下、左、右四個方向的液體壓力分別為  $P_{上}$ 、 $P_{下}$ 、 $P_{左}$ 、 $P_{右}$ ，則其關係應為下列何者？ (A)  $P_{上} = P_{下} = P_{左} = P_{右}$  (B)  $P_{右} > P_{上} > P_{下} = P_{左}$  (C)  $P_{上} > P_{下} = P_{左} = P_{右}$  (D)  $P_{上} < P_{下} = P_{左} = P_{右}$ 。



46. ( ) 如附圖所示，甲、乙兩正立方體金屬塊，邊長分別為 1cm、2cm，靜止堆疊於水平桌面上。甲金屬塊作用於乙金屬塊上表面（灰色部分）的平均壓力大小為  $P_1$ ，金屬塊作用於桌面的平均壓力大小為  $P_2$ ，已知  $P_1 = P_2$ ，且甲金屬塊的質量為 10g，則乙金屬塊的質量為多少？ (A) 20g (B) 30g (C) 40g (D) 80g。



- 題組：小華想用不同材質的三塊實心積木疊在一起放在密度為  $1.0 \text{ g/cm}^3$  水中，待靜止平衡後，乙積木正好有一半的體積沒入水面下，如附圖所示。已知甲積木的質量為 50g，乙積木的密度為  $0.5 \text{ g/cm}^3$ 、體積為  $400 \text{ cm}^3$ ，丙積木的體積為  $250 \text{ cm}^3$ ，丙的密度為  $0.8 \text{ g/cm}^3$ ，試回答下列 47~48 題：



47. ( ) 乙和丙積木所受浮力共為多少公克重？ (A) 0 gw (B) 150 gw (C) 300 gw (D) 450 gw。  
48. ( ) 若把甲積木拿走，則此時乙積木有多少體積沒入水面下？ (A)  $100 \text{ cm}^3$  (B)  $150 \text{ cm}^3$  (C)  $170 \text{ cm}^3$  (D)  $250 \text{ cm}^3$ 。

- 題組：市面上多款強調去角質、深層清潔的柔珠洗面乳，內含的「柔珠」就是塑膠微粒。這些微粒的主要材質是聚乙烯，顆粒直徑大小為  $0.01 \text{ mm} \sim 1.0 \text{ mm}$ ，使用後會經由汙水處理系統進入河川與海洋。國際期刊文獻提及，這些塑膠微粒會吸附數種有機汙染物，且可能在海洋中經由浮游生物的攝食，進入食物鏈而危及生態，因此許多地區開始立法禁用塑膠微粒。



聚乙烯由乙烯( $\text{C}_2\text{H}_4$ )聚合而成

49. ( ) 根據本文，「柔珠」屬於下列何種物質？ (A) 天然聚合物 (B) 合成聚合物 (C) 碳水化合物 (D) 無機化合物。  
50. ( ) 下列物質(單個)的粒子大小比較，何者正確？ (A) 碳原子 < 乙烯 < 柔珠 (B) 柔珠 < 碳原子 < 乙烯 (C) 乙烯 < 柔珠 < 碳原子 (D) 乙烯 < 碳原子 < 柔珠

## 一、 單選題(1~15 題，每題 2 分；共 30 分)

- ( ) 1. 近年來有許多香港人擔心受到中國嚴格控制，基本人權會受到損害，實際上這種疑問相當於是對一國兩制的質疑。請問下列哪個選項與一國兩制相關？ (A)特別行政區 (B)經濟特區 (C)自治區 (D)直轄市。
- ( ) 2. 在緬甸軍方於 2021 年發動軍事政變推翻民選政府之後，東南亞國家協會(ASEAN)試圖居中協調，除了一致呼籲停止暴力，提供人道援助，並決定派特使團赴緬甸，希望能展開建設性的對話。請問「東南亞國家協會」乃是屬於什麼性質的組織？ (A)是全球性的人權組織 (B)是跨國組成的軍事聯盟 (C)是美國組織的東南亞反共體系 (D)是區域性的經濟安全組織。
- ( ) 3. 1989 年 4 月的「悼胡」紀念活動中，中國學生聚集在北京天安門廣場前示威罷課，要求政治改革，請問下列何者是學生們提出的訴求？ (A)土地改革 (B)人民公社 (C)民主自由 (D)加入聯合國。
- ( ) 4. 1997 年 7 月 1 日午夜 12 時正，香港正式升上中華人民共和國國旗和香港特別行政區區旗，取代舊有的旗幟，代表主權完成交接。請問：在升上中華人民共和國國旗前，香港地區應該是懸掛哪一面旗幟？ (A)英國國旗 (B)法國國旗 (C)美國國旗 (D)葡萄牙國旗。
- ( ) 5. 鄧小平推動的「改革開放」政策，主要是針對哪個部門的改變所發動的政策？ (A)法律 (B)教育 (C)經濟 (D)政治。
- ( ) 6. 關於中共建政後領導人的執政順序，下列何者正確？ (A)鄧小平→胡錦濤→江澤民→毛澤東 (B)毛澤東→江澤民→鄧小平→胡錦濤 (C)毛澤東→鄧小平→江澤民→胡錦濤 (D)胡錦濤→江澤民→鄧小平→毛澤東。
- ( ) 7. 「韓戰」與「越戰」皆為冷戰期間所發生的戰役，但這兩場戰役卻有著截然不同的結果。下列關於這兩場戰役的敘述，何者正確？(A)這兩場戰役背後都是美國為首的民主國家與蘇聯為主的共產政權相互競爭、衝突的角力過程(B)韓戰最終由受美國支持的南韓獲得戰爭上的勝利(C)越戰之後南、北兩越政權各占據一地，至今仍分庭抗禮(D)越戰以及韓戰的兩場戰役之中，聯合國皆有參與其中
- ( ) 8. 阿軒的爺爺回憶起年輕時，曾經在中國政府「抗美援朝」的號召下，前往朝鮮半島參加戰爭，卻在當地不幸被捕。請問：根據阿軒爺爺的敘述，他最可能被哪個國家給抓捕？ (A)蘇聯 (B)德國 (C)美國 (D)北韓。
- ( ) 9 請問：右列內容與何者相關？(A)五四運動 (B)大躍進 (C)文化大革命 (D)六四天安門事件。
- ( ) 10. 西元 1954 年，美國成立「東南亞公約組織」，期待東南亞結成聯盟並加入反共體系。在當時時代背景下，有哪一個作為與東南亞公約組織有相同的目的？ (A)《中美共同防禦條約》(B)《臺灣關係法》(C)中美關係正常化 (D)新南向政策。
- ( ) 11. 西元 1985 年，鄧小平在中共全國代表會議上說：「鼓勵一部分地區、一部分人先富裕起來，也正是為了帶動愈來愈多的人富裕起來，達到共同富裕的目的。」這是鄧小平在經濟政策上的「先富」與「共同富裕」的理論。請問：鄧小平所說「一部分地區、一部分人先富裕起來」最可能是指在哪一地區設立經濟特區？ (A)西南山區 (B)東南沿海 (C)東北平原 (D)四川盆地。
- ( ) 12. 右圖是中國某位領導人，這位人物除了圖中提及的事蹟外，下列何項事件也是由他主導的？ (A)發動文化大革命 (B)推動大躍進運動 (C)舉辦北京奧運會 (D)與美國建交。

## 國際情勢：

蘇聯領導人戈巴契夫上臺後，放寬對東歐共產國家的控制，西元 1989 年波蘭團結工會以選舉方式取得 160 席議員席次，取代共產黨的地位，掀起東歐共產世界的民主浪潮。

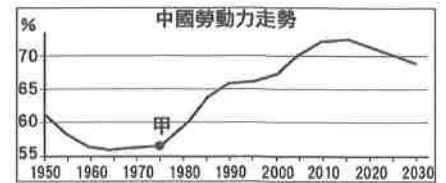
## 中國局勢：

此時卻在軍隊的坦克與機關槍下，對抗議者進行鎮壓。

中國經濟改革能夠展開，都是我的功勞。



- ( ) 13. 一九五〇年代末期，中國開始與蘇聯交惡，從當時中國領導人毛澤東的觀點來看，兩國交惡的原因可能是下列何者？ (A)因為殖民地問題而劇烈開戰 (B)因為蘇聯企圖想控制中國 (C)因為美國想與中國交好 (D)因為蘇聯國力走下坡。
- ( ) 14. 右圖是駐日美軍徽章。二次大戰後，在日本竟出現美軍基地，一般稱為駐日美軍（英語：United States Forces Japan，日語：在日米軍，簡稱USFJ），其司令部設於東京都西部的橫田空軍基地。這是在何種時空背景下產生？(A)二戰結束後，美軍協助日本重建家園 (B)美國介入越戰，便在日本成立軍事基地 (C)日本為戰敗國，美國意圖獨占日本利益 (D)1951年雙方簽訂《美日安保條約》。
- ( ) 15. 附圖是一張聯合國的統計表。可以發現在甲時間點後，中國的勞動力開始出現上升的狀態。請問：中國勞動力上升的原因應為下列哪項政策的實施？ (A)改革開放 (B)大躍進運動 (C)廢兩改元 (D)統一度量衡。



## 二、題組(第16~60題，每題1分，共5分)

### 1. 請閱讀資料，回答下列問題：

美軍向甲地十分之一的土地上撒下了1,900萬加侖的落葉劑。美軍還噴灑了其他除草劑，包括白劑、藍劑、粉劑、綠劑和紫劑(是以運送圓桶外部的顏色條紋來命名)，目的是除去敵人藏身的叢林。

飛機從空中噴灑除草劑，接觸到除草劑的植物會在兩天內死亡。西元1969年發現橙劑和其他除草劑含有戴奧辛中毒性最強的TCDD。

到西元1975年，戰爭結束之後，甲地出生的許多畸形嬰兒以及出現的許多怪病就是與此有關，包括齶裂、智力不足、疝氣和多指症。

- ( ) 16. 上文敘述戰爭對甲地造成無窮的傷害，「甲」地是指哪一個國家？(A)日本(B)北韓(C)越南(D)印尼
- ( ) 17. 關於上文事件的背景，下列敘述何者正確？ (A)發生於第二次世界大戰期間 (B)「甲」地曾經是英國的殖民地 (C)美國欲阻止共產勢力的擴張 (D)「甲」地人民為追求民主自由而戰。
- ( ) 18. 此事件的後續影響為何？(A)「甲」地成為美國日後介入亞洲事務的軍事基地 (B)至今「甲」地長期處於南北分裂 (C)「甲」地的南方統一北方，結束了戰爭 (D)「甲」地於戰爭結束後，成為共產國家。

### 2 請閱讀右方資料，回答下列問題：

- ( ) 19. 當初促使美國與中共建交的主要因素為何？ (A)孤立日本，以防日本再次壯大 (B)中共放棄一黨專政 (C)中共聲援在越南的美軍 (D)美國欲牽制蘇聯。
- ( ) 20. 中國大陸國家主席習近平高喊「中國夢」、倡議「一帶一路」，下列何者成為中共急需爭取的首要貿易夥伴？ (A)日本 (B)美國 (C)蘇聯 (D)東協。

西元1978年，美國宣布與中華民國斷交，並自西元1979年1月1日起，與中華人民共和國建交。一夕之間，美中臺關係風雲變色。中國大陸在西元1978年底決定走向改革開放，讓人民初嘗到資本主義帶來的好處後，中國大陸一年比一年更加開放，改革的腳步也隨之加快。

西元2001年，中國大陸成為世界貿易組織的成員之一，西元2008年奧運在北京舉行，西元2010年中國大陸超越日本，躍升為世界第二大經濟體，國力逐步增強的大陸，在短短30年左右，經濟實力緊追在美國後方，讓美方感到芒刺在背。西元2018年3月，美國總統川普以「中國偷竊美國智慧財產權和商業秘密」為由，中美貿易戰正式開打。

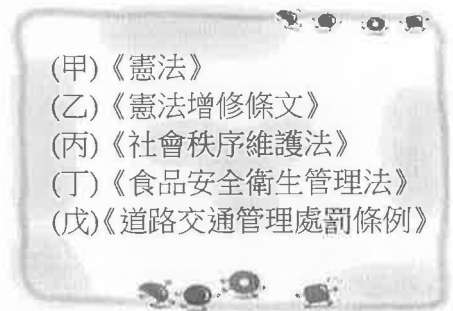
中美何以走到今日這局面？中共國家主席習近平上臺後，高喊「中國夢」與「中華民族偉大復興」，倡議「一帶一路」，尤其是在周邊南海、東海秉著國土不退讓態度，是美國與中國大陸摩擦的重要因子。「中美關係再也回不去了，要重新定位。」

澎湖縣立文光國民中學 111 學年度第 2 學期 第 3 次成績評量 8 年級公民科試卷

班級：\_\_\_\_\_ 姓名：\_\_\_\_\_ 座號：\_\_\_\_\_ ■ 讀卡 □ 答案卷

一、單一選擇題（十五題，每題 2 分，共 30 分）

21. ( ) 人民從小到大的生活與行政法息息相關，下列哪一個日常生活行為不屬於行政法的範疇？ (A)到戶政事務所辦理出生登記 (B)到國中接受國民教育 (C)拿走同學抽屜的 100 元不歸還 (D)每年五月申報所得稅。
22. ( ) 公民課時，老師在黑板上寫出五項法律(如圖)，要小億試著挑出屬於行政法的項目，小億陷入沉思，請試著幫他找出正確的答案？ (A)甲乙丙 (B)乙丙丁 (C)丙丁戊 (D)甲丁戊。
23. ( ) 行政法具有下列哪一項重要的功能？  
(A)約束行政機關行為，避免侵害人民權利  
(B)規定私人之間的權利義務關係  
(C)作為人民權利的保障書，位階與效力最高  
(D)使犯罪者得到應有的審判與處罰。
24. ( ) 《國家語言發展法》通過後，教育部表示將依該法規定，自 111 學年度起，國小和國中每週必修 1 節本土語文，高中在 3 年內要修完 2 學分本土語文，除閩南語、客家語、原住民族語及新住民語，也納入手語及馬祖使用的閩東語等。上述教育部的做法展現了何種精神？  
(A)依法行政 (B)權力分立 (C)主權在民 (D)公平正義。
25. ( ) 環保署公告，透過網購或郵購笑氣(一氧化二氮)的買方或賣方可依《毒性及關注化學物質管理法》處 3 萬元至 30 萬元，而提供販售的平臺業者則可依同法處 6 萬至 30 萬元。文中環保署的行政行為屬於下列何者？  
(A)拘留 (B)罰鍰 (C)勒令歇業 (D)停止營業。
26. ( ) 民眾如違反《道路交通管理處罰條例》，不服裁決處分者，可以原處分機關為被告，提起訴訟。根據上述內容判斷，文中提及的訴訟制度是指下列何者？  
(A)陳情 (B)請願 (C)民事訴訟 (D)行政訴訟。
27. ( ) 新聞報導：一名男子某日搭機入境，攜帶含豬肉的月餅但未申請檢疫，遭罰款 20 萬元。下列相關敘述何者正確？ (A)此裁罰屬於行政罰 (B)若不服裁罰可提起民事訴訟 (C)該男子應負起刑事責任 (D)文中提及的罰款為罰金。
28. ( ) 當行政處分違法或不當，以致人民權益受損，人民通常可以採取何種途徑，來為自己爭取權益？ (A)調解→民事訴訟 (B)民事訴訟→行政訴訟 (C)請願→行政訴訟 (D)訴願→行政訴訟。
29. ( ) 下列何者為日常生活中常見的違法行為？ (甲)在網路上罵人 (乙)未經他人同意而拿取物品 (丙)作報告時將網路文章複製貼上 (丁)騎機車沒有戴安全帽  
(A)甲乙丙丁 (B)甲乙丁 (C)甲丙丁 (D)乙丙丁。
30. ( ) 少年若觸犯《刑法》中最輕本刑為 5 年以上有期徒刑的犯罪，如強盜罪，且犯罪時已年滿 14 歲，則依少年刑事案件程序處理，將由下列何者負責進行偵查、起訴程序？ (A)法官 (B)檢察官 (C)少年保護官 (D)警察。



【第 3 頁結束—背面尚有試題】

31. ( ) 為了避免雇主有剝削少年的情況，我國政府在《勞動基準法》有相關規定，但下列內容何者錯誤？  
 (A)童工每日工時不得超過 8 小時，每週工時不得超過 40 小時  
 (B)原則上雇用童工不需要法定代理人的同意  
 (C)童工例假日不得工作  
 (D)童工午後 8 時到隔天凌晨 6 時不能工作。
32. ( ) 【甲】是特定的感化教育機構，希望能使受感化教育的少年矯正不良習性，促使其改過自新，重新適應社會生活。上述【甲】應是指下列何者？  
 (A)國民中學 (B)福利機構 (C)少年法院 (D)少年矯正學校。
33. ( ) 網路社群是很方便的訊息交流管道，但由於開放性高，使用上又具有可匿名的特性，許多人往往任意發表不負責任的言論。國中生如果在網路上以不雅字眼匿名留言羞辱他人，可能產生的結果為何？  
 (A)雖不應該，但只要匿名就無法追查，不會受到追究 (B)網路上的任何言論皆屬於言論自由範圍，受《憲法》保障 (C)可能觸犯《兒童權利公約》，必須承擔行政責任 (D)可能觸犯《刑法》的公然侮辱罪，必須承擔刑事責任。
34. ( ) 我國有各種保護少年的相關措施及法律規定，下列說明何者錯誤？  
 (A)制定《兒童及少年福利與權益保障法》 (B)《兒童及少年福利與權益保障法》的相關規定包含福利與保護措施 (C)《兒童及少年福利與權益保障法》的兒童是指 14 歲以下的人 (D)政府提供少年休閒文化活動及空間，這是屬於福利措施。
35. ( ) 一群國中生在公園玩耍，期間竟對一名孩童動手，甚至點火導致孩童三度燒傷。警方抓到動手的 13 歲少年，依《少年事件處理法》將其移送少年法庭偵辦。下列相關敘述何者正確？  
 (A)將會進行公開審理 (B)犯罪紀錄不可塗銷  
 (C)將會以少年保護事件處理 (D)將會以少年刑事案件處理。

二、配合題：(五題，每題 1 分，共 5 分)

(一) 針對下列行為所須承擔的法律責任，請從答案選項中選出正確的配對。

- A. 行政責任  
 B. 刑事責任

36. ( ) 在網路上使用不雅字眼謾罵同學。  
 37. ( ) 未經同學的同意私自拿取其物品。  
 38. ( ) 上學行經路口，未依交通號誌指示通行。

(二) 下列是我國保護兒童及少年的法律與相關說明，請從答案選項中選出正確的配對。

- A. 《家庭暴力防治法》  
 B. 《兒童權利公約施行法》  
 C. 《兒童及少年性剝削防制條例》  
 D. 《兒童及少年福利與權益保障法》

39. ( ) 將目睹家庭暴力的兒少納入核發保護令的範圍。  
 40. ( ) 立法使《兒童權利公約》的內容具國內法律效力。

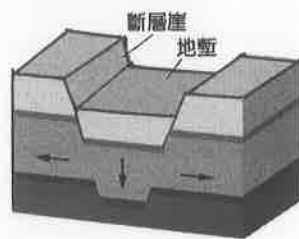

【第 4 頁結束—背面尚有試題】

澎湖縣立文光國民中學 111 學年度第 2 學期 第 3 次成績評量 8 年級地理科試卷

班級：\_\_\_\_\_ 姓名：\_\_\_\_\_ 座號：\_\_\_\_\_ ■ 讀卡 □ 答案卷

一、單一選擇題（十題，每題 2 分，共 20 分）

41. ( ) 魯夫預計前往非洲最高峰考察當地地質。請問：魯夫應該朝下列何處前進？  
(A)撒哈拉盆地 (B)尼羅河上游 (C)喀拉哈里盆地 (D)東非高原。
42. ( ) 受到某些因素影響，漠南非洲國家的經濟發展有貧困化的趨勢。請問：下列哪兩項因素造成漠南非洲貧窮問題雪上加霜，甚至產生饑荒？(甲)人口快速增加 (乙)不公平的貿易制度影響 (丙)節育政策造成出生率下降 (丁)醫療衛生沒有進步導致死亡率攀升 (A)甲乙 (B)甲丁 (C)乙丙 (D)丙丁。
43. ( ) 非洲面積廣大，南北跨緯度約 60 度，因此氣候類型多元。其中，下列哪些地區因受到副熱帶高壓籠罩的影響，終年乾燥，為熱帶沙漠氣候？  
(甲)撒哈拉盆地 (乙)東非高原 (丙)喀拉哈里盆地 (丁)剛果盆地 (A)甲丙 (B)甲丁 (C)乙丙 (D)乙丁。
44. ( ) 右圖的地理環境有草地及灌木叢，是非洲草食及肉食型動物的天堂，如長頸鹿、獅、斑馬等。請問：圖中的景觀位於哪一個氣候區？ (A)熱帶雨林氣候 (B)熱帶莽原氣候 (C)熱帶沙漠氣候 (D)溫帶地中海型氣候。
45. ( ) 南非東南沿海地區因受信風自印度洋帶來水氣的影響，屬於夏雨型暖溫帶氣候。請問：上述的「信風」風向應該為何？ (A)東北風 (B)東南風 (C)西北風 (D)西南風。
46. ( ) 右圖為東非大裂谷之示意圖。裂谷所在即為中間狹長之凹陷地帶的地塹。請問：造成此地形主要作用力為何？  
(A)風力侵蝕 (B)雨水沖蝕 (C)斷層陷落 (D)火山噴發。
47. ( ) 在漠南非洲的沙漠邊緣，因為降水量稀少、牧草稀疏，牧民每隔一段時間需要移動牲畜，以尋找新的牧草地，逐水草而居。請問：此種畜牧方式稱為什麼？  
(A)酪農 (B)欄牧 (C)游牧 (D)放牧。
48. ( ) 漠南非洲許多國家的官方語言除本地語言以外，尚有法語、葡萄牙語、英語等，此現象與下列何者最相關？ (A)相信萬物有靈 (B)曾受西方殖民影響 (C)目前為西方國家的海外領土 (D)國民普遍崇尚西方文化。
49. ( ) 西元 2020 年，各國政府採取嚴格的鎖國措施，防止新冠肺炎疫情擴大，在民眾搶購及囤積物資的情況下，咖啡價格上漲 30%。非洲當地的咖啡收成也不受疫情的影響，持續向海外輸出。然而，非洲的咖啡農家卻沒有因此顯著的提升收入，主要原因可能為何？ (A)大多數利潤落入西方資本家手中 (B)非洲地區並未受到疫情影響 (C)僅有少數市場使用非洲產的咖啡 (D)受疫情影響使出口貨物受阻。
50. ( ) 下列哪一個國家利用黃金、鑽石、鈾礦等礦業開採為基礎，得以發展工業，成為非洲經濟發展最穩定的國家之一？  
(A)奈及利亞 (B)利比亞 (C)阿爾及利亞 (D)南非共和國。



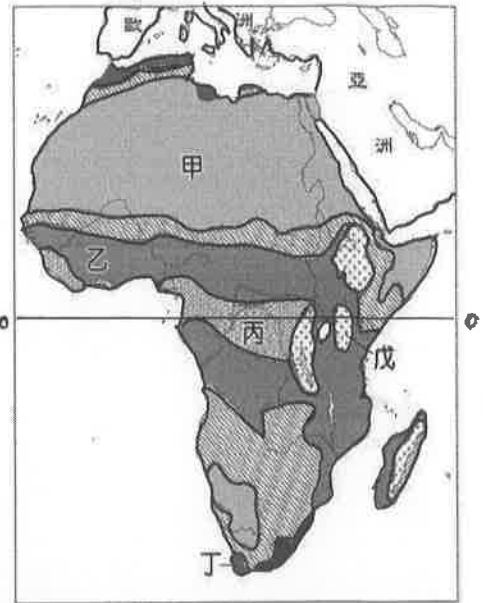
【第 5 頁結束—背面尚有試題】



二、題組：(十題，每題1分，共10分)

(一) 附圖為非洲氣候分區示意圖。請問：

51. ( ) 若利用臺灣暑假時到丁區旅遊，最可能遇到下列哪一種天氣現象？ (A)晴空豔陽 (B)大雪紛飛 (C)細雨綿綿 (D)颶風侵襲。
52. ( ) 圖中丙區與戊區同樣位於赤道附近，但丙區終年溼熱，戊區卻十分涼爽。造成兩地氣候差異的原因為何？ (A)地勢高低 (B)距海遠近 (C)涼流流經與否 (D)植被茂盛與否。
53. ( ) 圖中哪一區的水力資源最為豐沛？ (A)甲 (B)乙 (C)丙 (D)丁。

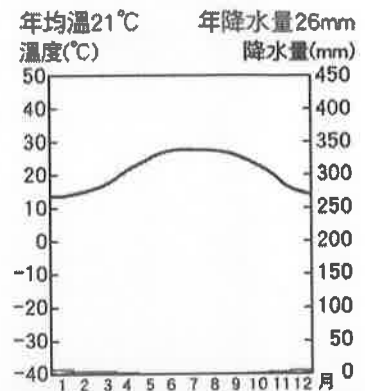


(二) 非洲氣候大致呈現南北對稱的特色，主要有

(甲)熱帶乾燥氣候 (乙)熱帶莽原氣候

(丙)熱帶雨林氣候 (丁)地中海型氣候等類型。請問：

54. ( ) 非洲氣候呈南、北對稱的原因和下列哪一個因素關係最密切？ (A)地形以高原為主體 (B)海岸平直少曲折 (C)赤道橫貫中部 (D)陸塊面積廣大。
55. ( ) 右圖為非洲某地的氣候圖，由圖中的氣溫、降水量資料判斷，該地最可能是上文中的何種氣候？ (A)甲 (B)乙 (C)丙 (D)丁。
56. ( ) 由地中海至赤道的氣候類型排列，何者順序正確？ (A)乙丁甲丙 (B)丁甲乙丙 (C)丁乙甲丙 (D)丁丙甲乙。



(三) 肯亞致力於發展觀光旅遊以提升國家經濟發展，其中，「馬賽馬拉國家保護區」每年的動物大遷徙奇景名聞遐邇。為降低旅遊活動對環境的衝擊，當地旅遊業者提出許多措施，如減少車輛的使用、利用太陽能發電和節能工具、嚴格實施垃圾、廢水回收、限制每個營區的遊客人數每日不得超過32名等。請問：

57. ( ) 當地旅遊業者提出的措施，其主要目的在於推動哪一類型的旅遊活動？ (A)休閒旅遊 (B)農業旅遊 (C)樂活旅遊 (D)生態旅遊。
58. ( ) 馬賽馬拉國家保護區應為哪一種氣候類型？ (A)熱帶雨林 (B)熱帶莽原 (C)熱帶沙漠 (D)溫帶地中海型。

(四) 隨著西方列強在漠南非洲的殖民範圍擴大，漠南非洲的傳統文化、社會與經濟等各層面皆發生改變。請回答下列問題。

59. ( ) 就宗教層面而言，列強殖民漠南非洲，使下列哪一個宗教成為漠南非洲的主要信仰之一？ (A)佛教 (B)基督教 (C)印度教 (D)伊斯蘭教。
60. ( ) 就社會層面而言，漠南非洲有許多國家境內族群複雜，且時生衝突，此現象與列強早期在此地的哪一項作為有密切關係？ (A)從事奴隸買賣活動 (B)致力發展熱帶栽培業 (C)利用當地資源發展採礦業 (D)勢力劃分時未考慮族群領域範圍。

【試題結束—文光8年級 社會科】